



Resuelve cada problema.

Respuestas

1) $4 + 1 = \underline{\quad}$

2) $1 + 3 = \underline{\quad}$

1. _____

3) $3 + 2 = \underline{\quad}$

4) $4 + 0 = \underline{\quad}$

2. _____

5) $1 + 2 = \underline{\quad}$

6) $5 + 0 = \underline{\quad}$

3. _____

4. _____

5. _____

7) $2 + 2 = \underline{\quad}$

8) $2 + 0 = \underline{\quad}$

6. _____

7. _____

9) $5 - 4 = \underline{\quad}$

10) $5 - 5 = \underline{\quad}$

8. _____

9. _____

10. _____

11. _____

12. _____

11) $4 - 2 = \underline{\quad}$

12) $4 - 3 = \underline{\quad}$

13. _____

14. _____

15. _____

13) $3 - 2 = \underline{\quad}$

14) $1 - 1 = \underline{\quad}$

16. _____

15) $3 - 1 = \underline{\quad}$

16) $5 - 2 = \underline{\quad}$



Resuelve cada problema.

1) $4 + 1 = \underline{5}$

2) $1 + 3 = \underline{4}$

3) $3 + 2 = \underline{5}$

4) $4 + 0 = \underline{4}$

5) $1 + 2 = \underline{3}$

6) $5 + 0 = \underline{5}$

7) $2 + 2 = \underline{4}$

8) $2 + 0 = \underline{2}$

9) $5 - 4 = \underline{1}$

10) $5 - 5 = \underline{0}$

11) $4 - 2 = \underline{2}$

12) $4 - 3 = \underline{1}$

13) $3 - 2 = \underline{1}$

14) $1 - 1 = \underline{0}$

15) $3 - 1 = \underline{2}$

16) $5 - 2 = \underline{3}$


Respuestas1. 52. 43. 54. 45. 36. 57. 48. 29. 110. 011. 212. 113. 114. 015. 216. 3




Resuelve cada problema.

Respuestas


1) $4 + 1 = \underline{\quad}$




2) $1 + 3 = \underline{\quad}$




3) $3 + 2 = \underline{\quad}$




4) $4 + 0 = \underline{\quad}$




5) $1 + 2 = \underline{\quad}$




6) $5 + 0 = \underline{\quad}$



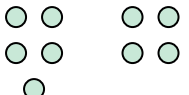
7) $2 + 2 = \underline{\quad}$



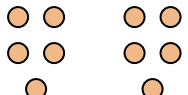
8) $2 + 0 = \underline{\quad}$




9) $5 - 4 = \underline{\quad}$




10) $5 - 5 = \underline{\quad}$




11) $4 - 2 = \underline{\quad}$




12) $4 - 3 = \underline{\quad}$




13) $3 - 2 = \underline{\quad}$




14) $1 - 1 = \underline{\quad}$



15) $3 - 1 = \underline{\quad}$



16) $5 - 2 = \underline{\quad}$



1. _____
2. _____
3. _____
4. _____
5. _____
6. _____
7. _____
8. _____
9. _____
10. _____
11. _____
12. _____
13. _____
14. _____
15. _____
16. _____