



Determina cuál letra mejor representa el peso del objeto.


Respuestas

Onza (oz)

Libra (lb)

Una onza es aproximadamente el peso de una rebanada de pan.

Una libra é mais ou menos o peso de uma lata de vegetais.



Recordar:
Hay 16 onzas en 1 libra.

1)



Vela

- A. 1 libra
- B. 0.2 onzas
- C. 16 onzas
- D. 20 libras

2)



Bicicleta

- A. 4 onzas
- B. 30 libras
- C. 0.53 onzas
- D. 220 libras


3)



DVD

- A. 16 onzas
- B. 0.6 libras
- C. 2.5 libras
- D. 1 libra

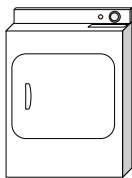
4)



Hoja de cuaderno

- A. 2 libras
- B. 0.1 onzas
- C. 3 onzas
- D. 10 onzas

5)



Secadora de ropa

- A. 160 onzas
- B. 7 libras
- C. 110 libras
- D. 1 onza

6)



Insecto

- A. 2 libras
- B. 110 libras
- C. 0.04 onzas
- D. 2 onzas


7)



Olla

- A. 1.7 onzas
- B. 5 onzas
- C. 4 libras
- D. 0.01 onzas

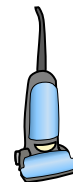
8)



Elefante

- A. 15 onzas
- B. 11000 libras
- C. 4000 onzas
- D. 300 libras

9)



Vacío

- A. 3 onzas
- B. 2 onzas
- C. 1100 libras
- D. 35 libras


- 1. _____
- 2. _____
- 3. _____
- 4. _____
- 5. _____
- 6. _____
- 7. _____
- 8. _____
- 9. _____



Determina cuál letra mejor representa el peso del objeto.

Onza (oz)

Una onza es aproximadamente el peso de una rebanada de pan.



Libra (lb)

Una libra é mais ou menos o peso de uma lata de vegetais.



Recordar:

Hay 16 onzas en 1 libra.

Respuestas

1)



Vela

- A. 1 libra
- B. 0.2 onzas
- C. 16 onzas
- D. 20 libras

2)



Bicicleta

- A. 4 onzas
- B. 30 libras
- C. 0.53 onzas
- D. 220 libras


3)



DVD

- A. 16 onzas
- B. 0.6 libras
- C. 2.5 libras
- D. 1 libra

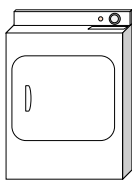
4)



Hoja de cuaderno

- A. 2 libras
- B. 0.1 onzas
- C. 3 onzas
- D. 10 onzas

5)



Secadora de ropa

- A. 160 onzas
- B. 7 libras
- C. 110 libras
- D. 1 onza

6)



Insecto

- A. 2 libras
- B. 110 libras
- C. 0.04 onzas
- D. 2 onzas


7)



Olla

- A. 1.7 onzas
- B. 5 onzas
- C. 4 libras
- D. 0.01 onzas

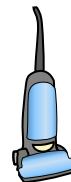
8)



Elefante

- A. 15 onzas
- B. 11000 libras
- C. 4000 onzas
- D. 300 libras

9)



Vacío

- A. 3 onzas
- B. 2 onzas
- C. 1100 libras
- D. 35 libras


- 1. **B**
- 2. **B**
- 3. **B**
- 4. **B**
- 5. **C**
- 6. **C**
- 7. **C**
- 8. **B**
- 9. **D**



Determina cuál letra mejor representa el peso del objeto.

Onza (oz)

Una onza es aproximadamente el peso de una rebanada de pan.



Libra (lb)

Una libra é mais ou menos o peso de una lata de vegetais.



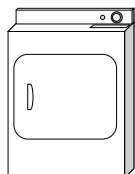
Recordar:

Hay 16 onzas en 1 libra.

Respuestas

- 1. _____
- 2. _____
- 3. _____
- 4. _____
- 5. _____
- 6. _____
- 7. _____
- 8. _____
- 9. _____


1)



Secadora de ropa

- A. 7 libras
- B. 110 libras
- C. 1 onza
- D. 160 onzas

2)



Caballo adulto

- A. 1 onza
- B. 900 libras
- C. 14 onzas
- D. 100 libras

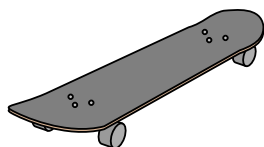
3)



Archivador

- A. 120 libras
- B. 160 onzas
- C. 11 onzas
- D. 2 libras

4)



Patineta

- A. 33 libras
- B. 0.71 onzas
- C. 4 libras
- D. 7 onzas

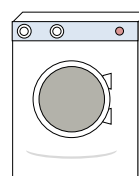
5)



Escoba

- A. 440 libras
- B. 20 libras
- C. 2 libras
- D. 4 onzas


6)



Lavadora

- A. 3 toneladas
- B. 16 libras
- C. 165 libras
- D. 0.2 onzas

7)



Elefante

- A. 15 onzas
- B. 11000 libras
- C. 300 libras
- D. 4000 onzas

8)



Rana

- A. 17 onzas
- B. 2 onzas
- C. 2 libras
- D. 11000 libras

9)



Lata de soda


- A. 9 onzas
- B. 100 libras
- C. 4 libras
- D. 0.04 onzas



Determina cuál letra mejor representa el peso del objeto.

Onza (oz)

Una onza es aproximadamente el peso de una rebanada de pan.



Libra (lb)

Una libra é mais ou menos o peso de uma lata de vegetais.

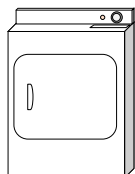


Recordar:

Hay 16 onzas en 1 libra.

Respuestas


1)



Secadora de ropa

- A. 7 libras
- B. 110 libras
- C. 1 onza
- D. 160 onzas

2)



Caballo adulto

- A. 1 onza
- B. 900 libras
- C. 14 onzas
- D. 100 libras

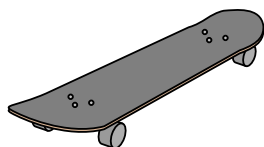
3)



Archivador

- A. 120 libras
- B. 160 onzas
- C. 11 onzas
- D. 2 libras

4)



Patineta

- A. 33 libras
- B. 0.71 onzas
- C. 4 libras
- D. 7 onzas

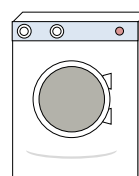
5)



Escoba

- A. 440 libras
- B. 20 libras
- C. 2 libras
- D. 4 onzas


6)



Lavadora

- A. 3 toneladas
- B. 16 libras
- C. 165 libras
- D. 0.2 onzas

7)



Elefante

- A. 15 onzas
- B. 11000 libras
- C. 300 libras
- D. 4000 onzas

8)



Rana

- A. 17 onzas
- B. 2 onzas
- C. 2 libras
- D. 11000 libras

9)



Lata de soda

- A. 9 onzas
- B. 100 libras
- C. 4 libras
- D. 0.04 onzas

- 1. **B**
- 2. **B**
- 3. **A**
- 4. **C**
- 5. **C**
- 6. **C**
- 7. **B**
- 8. **B**
- 9. **A**



Determina cuál letra mejor representa el peso del objeto.


Respuestas

Onza (oz)

Libra (lb)

Una onza es aproximadamente el peso de una rebanada de pan.


Una libra é mais ou menos o peso de uma lata de vegetais.



Recordar:
Hay 16 onzas en 1 libra.

- 1. _____
- 2. _____
- 3. _____
- 4. _____
- 5. _____
- 6. _____
- 7. _____
- 8. _____
- 9. _____

1)



Manzana

- A. 5 libras
- B. 7 onzas
- C. 10 libras
- D. 0.1 onzas

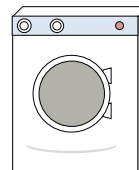
2)



Cuchara

- A. 10 libras
- B. 7 libras
- C. 0.8 onzas
- D. 0.11 onzas


3)



Lavadora

- A. 165 libras
- B. 16 libras
- C. 0.2 onzas
- D. 3 toneladas

4)



Hoja de cuaderno

- A. 10 onzas
- B. 3 onzas
- C. 0.1 onzas
- D. 2 libras

5)



Palomitas de maiz

- A. 0.3 libras
- B. 2 libras
- C. 10 onzas
- D. 0.04 onzas

6)



Lápiz

- A. 1 onza
- B. 2 libras
- C. 0.01 onzas
- D. 44 libras

7)



Fútbol americano

- A. 0.9 onzas
- B. 1 libra
- C. 65 libras
- D. 13 libras

8)



Vela

- A. 0.2 onzas
- B. 20 libras
- C. 1 libra
- D. 16 onzas

9)



fresa

- A. 11 onzas
- B. 0.5 libras
- C. 0.5 onzas
- D. 1 libra




Determina cuál letra mejor representa el peso del objeto.

Onza (oz)

Libra (lb)

Una onza es aproximadamente el peso de una rebanada de pan.


Una libra é mais ou menos o peso de uma lata de vegetais.



Recordar:
Hay 16 onzas en 1 libra.

Respuestas

1)



Manzana

- A. 5 libras
- B. 7 onzas
- C. 10 libras
- D. 0.1 onzas

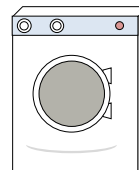
2)



Cuchara

- A. 10 libras
- B. 7 libras
- C. 0.8 onzas
- D. 0.11 onzas


3)



Lavadora

- A. 165 libras
- B. 16 libras
- C. 0.2 onzas
- D. 3 toneladas

4)



Hoja de cuaderno

- A. 10 onzas
- B. 3 onzas
- C. 0.1 onzas
- D. 2 libras

5)



Palomitas de maiz

- A. 0.3 libras
- B. 2 libras
- C. 10 onzas
- D. 0.04 onzas

6)



Lápiz

- A. 1 onza
- B. 2 libras
- C. 0.01 onzas
- D. 44 libras

7)



Fútbol americano

- A. 0.9 onzas
- B. 1 libra
- C. 65 libras
- D. 13 libras

8)



Vela

- A. 0.2 onzas
- B. 20 libras
- C. 1 libra
- D. 16 onzas

9)



fresa

- A. 11 onzas
- B. 0.5 libras
- C. 0.5 onzas
- D. 1 libra


- 1. **B**
- 2. **C**
- 3. **A**
- 4. **C**
- 5. **D**
- 6. **A**
- 7. **B**
- 8. **A**
- 9. **C**



Determina cuál letra mejor representa el peso del objeto.

Onza (oz)

Una onza es aproximadamente el peso de una rebanada de pan.



Libra (lb)

Una libra é mais ou menos o peso de uma lata de vegetais.




Recordar:

Hay 16 onzas en 1 libra.

Respuestas

- 1. _____
- 2. _____
- 3. _____
- 4. _____
- 5. _____
- 6. _____
- 7. _____
- 8. _____
- 9. _____


1)



Lavadora

- A. 3 toneladas
- B. 165 libras
- C. 16 libras
- D. 0.2 onzas

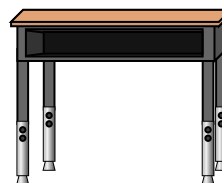
2)



Coche

- A. 2000 libras
- B. 5200 onzas
- C. 15 onzas
- D. 500 libras

3)



Escritorio

- A. 11 onzas
- B. 1 onza
- C. 30 libras
- D. 660 libras

4)



Memoria flash

- A. 10 onzas
- B. 20 libras
- C. 1 onza
- D. 19 libras

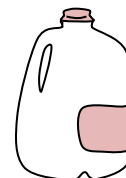
5)



Archivador

- A. 2 libras
- B. 11 onzas
- C. 120 libras
- D. 160 onzas

6)



Galón de Leche

- A. 6 libras
- B. 6 onzas
- C. 60 libras
- D. 0.6 onzas

7)



Rana

- A. 2 onzas
- B. 11000 libras
- C. 17 onzas
- D. 2 libras

8)



Clavo

- A. 7 libras
- B. 4 libras
- C. 16 onzas
- D. 0.1 onzas

9)



Reloj de pulsera


- A. 12 libras
- B. 2 libras
- C. 16 onzas
- D. 3 onzas



Determina cuál letra mejor representa el peso del objeto.

Onza (oz)

Una onza es aproximadamente el peso de una rebanada de pan.



Libra (lb)

Una libra é mais ou menos o peso de uma lata de vegetais.



Recordar:
Hay 16 onzas en 1 libra.

Respuestas

1. **B**

2. **A**

3. **C**

4. **C**

5. **C**


6. **A**

7. **A**

8. **D**

9. **D**


1)



Lavadora

- A. 3 toneladas
- B. 165 libras
- C. 16 libras
- D. 0.2 onzas

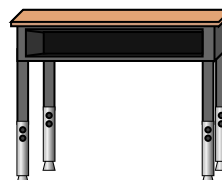
2)



Coche

- A. 2000 libras
- B. 5200 onzas
- C. 15 onzas
- D. 500 libras

3)



Escritorio

- A. 11 onzas
- B. 1 onza
- C. 30 libras
- D. 660 libras

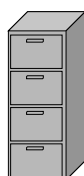
4)



Memoria flash

- A. 10 onzas
- B. 20 libras
- C. 1 onza
- D. 19 libras

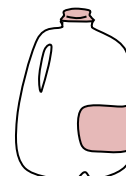
5)



Archivador

- A. 2 libras
- B. 11 onzas
- C. 120 libras
- D. 160 onzas

6)



Galón de Leche

- A. 6 libras
- B. 6 onzas
- C. 60 libras
- D. 0.6 onzas

7)



Rana

- A. 2 onzas
- B. 11000 libras
- C. 17 onzas
- D. 2 libras

8)



Clavo

- A. 7 libras
- B. 4 libras
- C. 16 onzas
- D. 0.1 onzas

9)



Reloj de pulsera

- A. 12 libras
- B. 2 libras
- C. 16 onzas
- D. 3 onzas



Determina cuál letra mejor representa el peso del objeto.


Respuestas

Onza (oz)

Libra (lb)

Una onza es aproximadamente el peso de una rebanada de pan.

Una libra é mais ou menos o peso de uma lata de vegetais.



Recordar:
Hay 16 onzas en 1 libra.

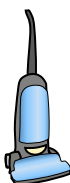
1. _____
2. _____
3. _____
4. _____
5. _____
6. _____
7. _____
8. _____
9. _____

1)



- Archivador
 A. 2 libras
 B. 11 onzas
 C. 160 onzas
 D. 120 libras

2)




- Vacío
 A. 1100 libras
 B. 35 libras
 C. 2 onzas
 D. 3 onzas

3)

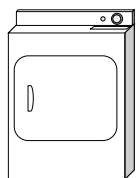
- Tornillo
 A. 0.04 onzas
 B. 2 libras
 C. 10 onzas
 D. 1 libra

4)




- Caballo adulto
 A. 14 onzas
 B. 900 libras
 C. 1 onza
 D. 100 libras

5)



- Secadora de ropa
 A. 110 libras
 B. 1 onza
 C. 160 onzas
 D. 7 libras

6)




- Hoja de cuaderno
 A. 3 onzas
 B. 10 onzas
 C. 2 libras
 D. 0.1 onzas

7)

- Televisor de pantalla grande
 A. 2000 libras
 B. 160 onzas
 C. 1.25 onzas
 D. 40 libras

8)



- Cortacésped
 A. 100 onzas
 B. 200 onzas
 C. 200 libras
 D. 50 libras

9)




- Vela
 A. 0.2 onzas
 B. 16 onzas
 C. 1 libra
 D. 20 libras



Determina cuál letra mejor representa el peso del objeto.

Onza (oz)

Una onza es aproximadamente el peso de una rebanada de pan.



Libra (lb)

Una libra é mais ou menos o peso de uma lata de vegetais.



Recordar:
Hay 16 onzas en 1 libra.

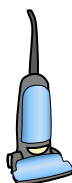
Respuestas

1)



Archivador
A. 2 libras
B. 11 onzas
C. 160 onzas
D. 120 libras

2)




Vacío
A. 1100 libras
B. 35 libras
C. 2 onzas
D. 3 onzas

3)

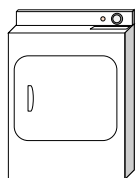
Tornillo
A. 0.04 onzas
B. 2 libras
C. 10 onzas
D. 1 libra

4)




Caballo adulto
A. 14 onzas
B. 900 libras
C. 1 onza
D. 100 libras

5)



Secadora de ropa
A. 110 libras
B. 1 onza
C. 160 onzas
D. 7 libras

6)




Hoja de cuaderno
A. 3 onzas
B. 10 onzas
C. 2 libras
D. 0.1 onzas

7)

Televisor de pantalla grande
A. 2000 libras
B. 160 onzas
C. 1.25 onzas
D. 40 libras

8)



Cortacésped
A. 100 onzas
B. 200 onzas
C. 200 libras
D. 50 libras

9)



Vela
A. 0.2 onzas
B. 16 onzas
C. 1 libra
D. 20 libras

- 1. **D**
- 2. **B**
- 3. **A**
- 4. **B**
- 5. **A**
- 6. **D**
- 7. **D**
- 8. **D**
- 9. **A**



Determina cuál letra mejor representa el peso del objeto.


Respuestas

Onza (oz)

Libra (lb)

Una onza es aproximadamente el peso de una rebanada de pan.

Una libra é mais ou menos o peso de una lata de vegetais.



Recordar:
Hay 16 onzas en 1 libra.

1. _____
2. _____
3. _____
4. _____
5. _____
6. _____
7. _____
8. _____
9. _____

1)



Gorra de beisbol

- A. 3 onzas
- B. 1 onza
- C. 440 libras
- D. 11 libras

2)



Monitor

- A. 1000 libras
- B. 20 onzas
- C. 0.2 onzas
- D. 20 libras

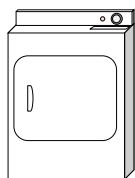
3)



Lata de soda

- A. 0.04 onzas
- B. 9 onzas
- C. 4 libras
- D. 100 libras

4)



Secadora de ropa

- A. 1 onza
- B. 110 libras
- C. 160 onzas
- D. 7 libras


5)



Cepillo de dientes

- A. 1 onza
- B. 1100 libras
- C. 16 onzas
- D. 30 libras

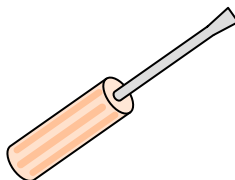
6)



Martillo

- A. 10 libras
- B. 16 onzas
- C. 3 libras
- D. 1 onza

7)



Destornillador

- A. 0.1 onzas
- B. 15 onzas
- C. 29 libras
- D. 2 onzas

8)



Sillón reclinable

- A. 3 onzas
- B. 5 onzas
- C. 70 libras
- D. 2 libras

9)



Caja de cereal


- A. 90 libras
- B. 15 onzas
- C. 1.1 onzas
- D. 15 libras



Determina cuál letra mejor representa el peso del objeto.

Onza (oz)

Una onza es aproximadamente el peso de una rebanada de pan.



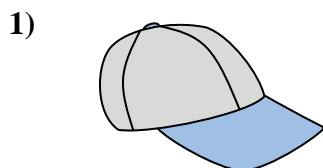
Libra (lb)

Una libra é mais ou menos o peso de uma lata de vegetais.



Recordar:
Hay 16 onzas en 1 libra.

Respuestas




Gorra de beisbol

- A. 3 onzas
- B. 1 onza
- C. 440 libras
- D. 11 libras



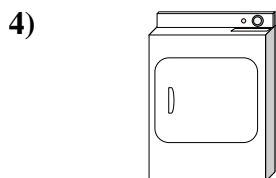
Monitor

- A. 1000 libras
- B. 20 onzas
- C. 0.2 onzas
- D. 20 libras




Lata de soda

- A. 0.04 onzas
- B. 9 onzas
- C. 4 libras
- D. 100 libras



Secadora de ropa

- A. 1 onza
- B. 110 libras
- C. 160 onzas
- D. 7 libras




Cepillo de dientes

- A. 1 onza
- B. 1100 libras
- C. 16 onzas
- D. 30 libras




Martillo

- A. 10 libras
- B. 16 onzas
- C. 3 libras
- D. 1 onza



Destornillador

- A. 0.1 onzas
- B. 15 onzas
- C. 29 libras
- D. 2 onzas



Sillón reclinable

- A. 3 onzas
- B. 5 onzas
- C. 70 libras
- D. 2 libras



Caja de cereal

- A. 90 libras
- B. 15 onzas
- C. 1.1 onzas
- D. 15 libras

- 1. **A**
- 2. **D**
- 3. **B**
- 4. **B**
- 5. **A**
- 6. **C**
- 7. **D**
- 8. **C**
- 9. **B**



Determina cuál letra mejor representa el peso del objeto.


Respuestas

Onza (oz)

Libra (lb)


Una onza es aproximadamente el peso de una rebanada de pan.

Una libra é mais ou menos o peso de uma lata de vegetais.



Recordar:
Hay 16 onzas en 1 libra.

1)



Paleta

- A. 44 libras
- B. 7 onzas
- C. 0.7 onzas
- D. 10 libras

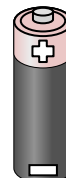
2)



Bicicleta

- A. 30 libras
- B. 220 libras
- C. 4 onzas
- D. 0.53 onzas

3)



Batería

- A. 20 libras
- B. 100 libras
- C. 10 onzas
- D. 0.5 onzas

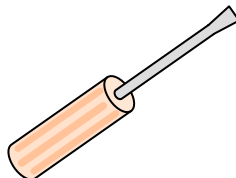
4)



Archivador

- A. 11 onzas
- B. 160 onzas
- C. 2 libras
- D. 120 libras

5)



Destornillador

- A. 15 onzas
- B. 2 onzas
- C. 29 libras
- D. 0.1 onzas

6)



Barra de pegamento

- A. 15 onzas
- B. 2 libras
- C. 2.2 onzas
- D. 1 libra


7)



Sillón reclinable

- A. 70 libras
- B. 3 onzas
- C. 2 libras
- D. 5 onzas

8)



Elefante

- A. 11000 libras
- B. 4000 onzas
- C. 15 onzas
- D. 300 libras

9)



Teléfono

- A. 10 libras
- B. 1 libra
- C. 0.2 onzas
- D. 5 libras


- 1. _____
- 2. _____
- 3. _____
- 4. _____
- 5. _____
- 6. _____
- 7. _____
- 8. _____
- 9. _____



Determina cuál letra mejor representa el peso del objeto.

Onza (oz)

Una onza es aproximadamente el peso de una rebanada de pan.



Libra (lb)


Una libra é mais ou menos o peso de uma lata de vegetais.



Recordar:
Hay 16 onzas en 1 libra.

Respuestas

1)



Paleta

- A. 44 libras
- B. 7 onzas
- C. 0.7 onzas
- D. 10 libras

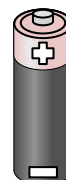
2)



Bicicleta

- A. 30 libras
- B. 220 libras
- C. 4 onzas
- D. 0.53 onzas

3)



Batería

- A. 20 libras
- B. 100 libras
- C. 10 onzas
- D. 0.5 onzas

1. **C**

2. **A**

3. **D**

4. **D**

5. **B**

6. **C**

7. **A**

8. **A**

9. **B**


4)



Archivador

- A. 11 onzas
- B. 160 onzas
- C. 2 libras
- D. 120 libras

5)



Destornillador

- A. 15 onzas
- B. 2 onzas
- C. 29 libras
- D. 0.1 onzas


6)



Barra de pegamento

- A. 15 onzas
- B. 2 libras
- C. 2.2 onzas
- D. 1 libra


7)



Sillón reclinable

- A. 70 libras
- B. 3 onzas
- C. 2 libras
- D. 5 onzas

8)



Elefante

- A. 11000 libras
- B. 4000 onzas
- C. 15 onzas
- D. 300 libras

9)



Teléfono

- A. 10 libras
- B. 1 libra
- C. 0.2 onzas
- D. 5 libras



Determina cuál letra mejor representa el peso del objeto.


Respuestas

Onza (oz)

Libra (lb)

Una onza es aproximadamente el peso de una rebanada de pan.

Una libra é mais ou menos o peso de una lata de vegetais.



Recordar:
Hay 16 onzas en 1 libra.


1)



Estufa

- A. 16 onzas
- B. 30 libras
- C. 160 onzas
- D. 130 libras

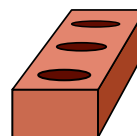
2)



Araña

- A. 4 onzas
- B. 16 onzas
- C. 0.04 onzas
- D. 0.3 libras

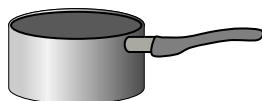
3)



Ladrillo

- A. 4 libras
- B. 100 libras
- C. 15 onzas
- D. 5 onzas

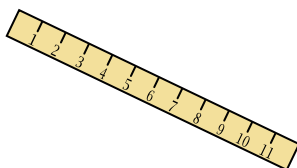
4)



Olla

- A. 0.01 onzas
- B. 5 onzas
- C. 4 libras
- D. 1.7 onzas

5)



Gobernante

- A. 35 onzas
- B. 0.04 onzas
- C. 6 libras
- D. 1 onza

6)



Bicicleta

- A. 0.53 onzas
- B. 220 libras
- C. 4 onzas
- D. 30 libras


7)



Lata de soda

- A. 9 onzas
- B. 4 libras
- C. 100 libras
- D. 0.04 onzas

8)



Paleta

- A. 0.7 onzas
- B. 10 libras
- C. 7 onzas
- D. 44 libras

9)



DVD

- A. 1 libra
- B. 2.5 libras
- C. 16 onzas
- D. 0.6 libras


- 1. _____
- 2. _____
- 3. _____
- 4. _____
- 5. _____
- 6. _____
- 7. _____
- 8. _____
- 9. _____



Determina cuál letra mejor representa el peso del objeto.

Onza (oz)

Una onza es aproximadamente el peso de una rebanada de pan.



Libra (lb)

Una libra é mais ou menos o peso de uma lata de vegetais.



Recordar:
Hay 16 onzas en 1 libra.

Respuestas


1)



Estufa

- A. 16 onzas
- B. 30 libras
- C. 160 onzas
- D. 130 libras

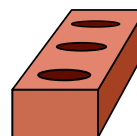
2)



Araña

- A. 4 onzas
- B. 16 onzas
- C. 0.04 onzas
- D. 0.3 libras

3)



Ladrillo

- A. 4 libras
- B. 100 libras
- C. 15 onzas
- D. 5 onzas

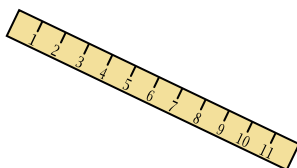
4)



Olla

- A. 0.01 onzas
- B. 5 onzas
- C. 4 libras
- D. 1.7 onzas

5)



Gobernante

- A. 35 onzas
- B. 0.04 onzas
- C. 6 libras
- D. 1 onza

6)



Bicicleta

- A. 0.53 onzas
- B. 220 libras
- C. 4 onzas
- D. 30 libras


7)



Lata de soda

- A. 9 onzas
- B. 4 libras
- C. 100 libras
- D. 0.04 onzas

8)



Paleta

- A. 0.7 onzas
- B. 10 libras
- C. 7 onzas
- D. 44 libras

9)



DVD

- A. 1 libra
- B. 2.5 libras
- C. 16 onzas
- D. 0.6 libras

- 1. **D**
- 2. **C**
- 3. **A**
- 4. **C**
- 5. **D**
- 6. **D**
- 7. **A**
- 8. **A**
- 9. **D**



Determina cuál letra mejor representa el peso del objeto.


Respuestas

Onza (oz)

Libra (lb)

Una onza es aproximadamente el peso de una rebanada de pan.

Una libra é mais ou menos o peso de uma lata de vegetais.



Recordar:
Hay 16 onzas en 1 libra.

1. _____
2. _____
3. _____
4. _____
5. _____
6. _____
7. _____
8. _____
9. _____

1)



Estufa

- A. 30 libras
- B. 130 libras
- C. 160 onzas
- D. 16 onzas


2)



Coche

- A. 2000 libras
- B. 5200 onzas
- C. 500 libras
- D. 15 onzas


3)



Elefante

- A. 15 onzas
- B. 4000 onzas
- C. 11000 libras
- D. 300 libras

4)



Hoja de cuaderno

- A. 3 onzas
- B. 10 onzas
- C. 2 libras
- D. 0.1 onzas

5)



DVD

- A. 0.6 libras
- B. 1 libra
- C. 2.5 libras
- D. 16 onzas


6)



Palomitas de maiz

- A. 0.3 libras
- B. 0.04 onzas
- C. 2 libras
- D. 10 onzas


7)



Escarabajo

- A. 8 onzas
- B. 16 onzas
- C. 4 libras
- D. 0.04 onzas

8)



Bola de boliche

- A. 198 libras
- B. 13 libras
- C. 7 onzas
- D. 110 libras

9)



Cuchara


- A. 0.11 onzas
- B. 10 libras
- C. 7 libras
- D. 0.8 onzas



Determina cuál letra mejor representa el peso del objeto.

Onza (oz)

Una onza es aproximadamente el peso de una rebanada de pan.



Libra (lb)

Una libra é mais ou menos o peso de uma lata de vegetais.



Recordar:
Hay 16 onzas en 1 libra.

Respuestas


1)



Estufa

- A. 30 libras
- B. 130 libras
- C. 160 onzas
- D. 16 onzas


2)



Coche

- A. 2000 libras
- B. 5200 onzas
- C. 500 libras
- D. 15 onzas


3)



Elefante

- A. 15 onzas
- B. 4000 onzas
- C. 11000 libras
- D. 300 libras

4)



Hoja de cuaderno

- A. 3 onzas
- B. 10 onzas
- C. 2 libras
- D. 0.1 onzas

5)



DVD

- A. 0.6 libras
- B. 1 libra
- C. 2.5 libras
- D. 16 onzas


6)



Palomitas de maiz

- A. 0.3 libras
- B. 0.04 onzas
- C. 2 libras
- D. 10 onzas


7)



Escarabajo

- A. 8 onzas
- B. 16 onzas
- C. 4 libras
- D. 0.04 onzas

8)



Bola de boliche

- A. 198 libras
- B. 13 libras
- C. 7 onzas
- D. 110 libras

9)



Cuchara

- A. 0.11 onzas
- B. 10 libras
- C. 7 libras
- D. 0.8 onzas

- 1. **B**
- 2. **A**
- 3. **C**
- 4. **D**
- 5. **A**
- 6. **B**
- 7. **D**
- 8. **B**
- 9. **D**



Determina cuál letra mejor representa el peso del objeto.


Respuestas

Onza (oz)

Libra (lb)

Una onza es aproximadamente el peso de una rebanada de pan.

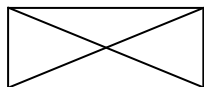
Una libra é mais ou menos o peso de uma lata de vegetais.



Recordar:
Hay 16 onzas en 1 libra.

1. _____
2. _____
3. _____
4. _____
5. _____
6. _____
7. _____
8. _____
9. _____

1)



Sobre

- A. 1 onza
- B. 440 libras
- C. 11 libras
- D. 24 onzas

2)



Monitor

- A. 20 onzas
- B. 20 libras
- C. 0.2 onzas
- D. 1000 libras

3)



Olla

- A. 0.01 onzas
- B. 1.7 onzas
- C. 4 libras
- D. 5 onzas

4)



Barra de pegamento

- A. 1 libra
- B. 2 libras
- C. 2.2 onzas
- D. 15 onzas

5)



Rana

- A. 2 libras
- B. 11000 libras
- C. 2 onzas
- D. 17 onzas

6)



Teléfono

- A. 1 libra
- B. 5 libras
- C. 0.2 onzas
- D. 10 libras

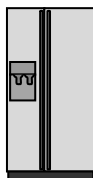
7)



Cepillo de dientes

- A. 1100 libras
- B. 16 onzas
- C. 30 libras
- D. 1 onza

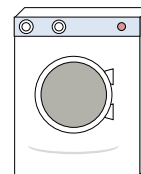
8)



Refrigerador

- A. 20 libras
- B. 7 onzas
- C. 1 onza
- D. 250 libras

9)



Lavadora


- A. 0.2 onzas
- B. 3 toneladas
- C. 165 libras
- D. 16 libras



Determina cuál letra mejor representa el peso del objeto.

Onza (oz)

Una onza es aproximadamente el peso de una rebanada de pan.



Libra (lb)

Una libra é mais ou menos o peso de uma lata de vegetais.

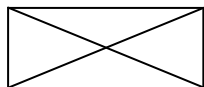


Recordar:

Hay 16 onzas en 1 libra.

Respuestas

1)



Sobre

- A. 1 onza
- B. 440 libras
- C. 11 libras
- D. 24 onzas

2)



Monitor

- A. 20 onzas
- B. 20 libras
- C. 0.2 onzas
- D. 1000 libras

3)



Olla

- A. 0.01 onzas
- B. 1.7 onzas
- C. 4 libras
- D. 5 onzas

4)



Barra de pegamento

- A. 1 libra
- B. 2 libras
- C. 2.2 onzas
- D. 15 onzas

5)



Rana

- A. 2 libras
- B. 11000 libras
- C. 2 onzas
- D. 17 onzas

6)



Teléfono

- A. 1 libra
- B. 5 libras
- C. 0.2 onzas
- D. 10 libras

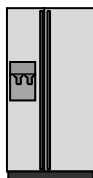
7)



Cepillo de dientes

- A. 1100 libras
- B. 16 onzas
- C. 30 libras
- D. 1 onza

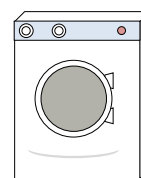
8)



Refrigerador

- A. 20 libras
- B. 7 onzas
- C. 1 onza
- D. 250 libras

9)



Lavadora

- A. 0.2 onzas
- B. 3 toneladas
- C. 165 libras
- D. 16 libras

- 1. **A**
- 2. **B**
- 3. **C**
- 4. **C**
- 5. **C**
- 6. **A**
- 7. **D**
- 8. **D**
- 9. **C**