



Determina cuál letra mejor representa el peso del objeto.

Respuestas

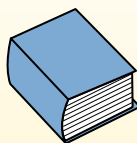
**Gramas (g)**

Un gramo es aproximadamente el peso de un clip.



**Kilogramo (kilogramo)**


Un kilogramo es aproximadamente el peso de un libro grueso.



**Recuerda:**

Kilo significa 1,000. Entonces, un kilogramo son 1,000 gramos. 1 kilogramo también pesa aproximadamente lo mismo que 2 libras.

1)



- 2 litros de Soda
- A. 50 gramos
  - B. 2 kilogramos
  - C. 100 gramos
  - D. 3 gramos

2)



- Televisor de pantalla gigante
- A. 20 gramos
  - B. 20 kilogramos
  - C. 100 gramos
  - D. 1000 kilogramos

3)



- Pala
- A. 30 kilogramos
  - B. 5 kilogramos
  - C. 10 gramos
  - D. 1 gramo

4)




- Monitor
- A. 500 kilogramos
  - B. 8 kilogramos
  - C. 8 gramos
  - D. 500 gramos

5)



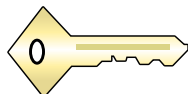
- Pegamento
- A. 500 gramos
  - B. 1 kilogramo
  - C. 62 gramos
  - D. 1 gramo

6)



- Reclinadora
- A. 150 gramos
  - B. 1 kilogramo
  - C. 35 kilogramos
  - D. 90 gramos

7)



- Llave
- A. 1 gramo
  - B. 100 kilogramos
  - C. 100 gramos
  - D. 1 kilogramo

8)



- Gabinete
- A. 1 gramo
  - B. 55 kilogramos
  - C. 1 kilogramo
  - D. 300 gramos

9)



- Escoba
- A. 10 kilogramos
  - B. 200 kilogramos
  - C. 10 gramos
  - D. 500 gramos

- 1. \_\_\_\_\_
- 2. \_\_\_\_\_
- 3. \_\_\_\_\_
- 4. \_\_\_\_\_
- 5. \_\_\_\_\_
- 6. \_\_\_\_\_
- 7. \_\_\_\_\_
- 8. \_\_\_\_\_
- 9. \_\_\_\_\_



Determina cuál letra mejor representa el peso del objeto.

**Respuestas**


**Gramas (g)**

Un gramo es aproximadamente el peso de un clip.



**Kilogramo (kilogramo)**


Un kilogramo es aproximadamente el peso de un libro grueso.



**Recuerda:**

Kilo significa 1,000. Entonces, un kilogramo son 1,000 gramos. 1 kilogramo también pesa aproximadamente lo mismo que 2 libras.

1)



2 litros de Soda

- A. 50 gramos
- B. 2 kilogramos
- C. 100 gramos
- D. 3 gramos

2)



Televisor de pantalla gigante

- A. 20 gramos
- B. 20 kilogramos
- C. 100 gramos
- D. 1000 kilogramos

3)



Pala

- A. 30 kilogramos
- B. 5 kilogramos
- C. 10 gramos
- D. 1 gramo

4)



Monitor

- A. 500 kilogramos
- B. 8 kilogramos
- C. 8 gramos
- D. 500 gramos


5)



Pegamento

- A. 500 gramos
- B. 1 kilogramo
- C. 62 gramos
- D. 1 gramo

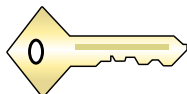
6)



Reclinadora

- A. 150 gramos
- B. 1 kilogramo
- C. 35 kilogramos
- D. 90 gramos

7)



Llave

- A. 1 gramo
- B. 100 kilogramos
- C. 100 gramos
- D. 1 kilogramo

8)



Gabinete

- A. 1 gramo
- B. 55 kilogramos
- C. 1 kilogramo
- D. 300 gramos

9)



Escoba

- A. 10 kilogramos
- B. 200 kilogramos
- C. 10 gramos
- D. 500 gramos

- 1. **B**
- 2. **B**
- 3. **B**
- 4. **B**
- 5. **C**
- 6. **C**
- 7. **C**
- 8. **B**
- 9. **D**