



Determina cuál letra mejor representa el peso del objeto.

Respuestas

**Gramo (g)**

Un gramo es aproximadamente el peso de un clip.



**Kilogramo (kilogramo)**


Un kilogramo es aproximadamente el peso de un libro grueso.



**Recuerda:**

Kilo significa 1,000. Entonces, un kilogramo son 1,000 gramos. 1 kilogramo también pesa aproximadamente lo mismo que 2 libras.

1)



Carro

- A. 15 gramos
- B. 2000 kilogramos
- C. 6000 gramos
- D. 2 kilogramos


2)



Cortadora de césped

- A. 500 gramos
- B. 22 kilogramos
- C. 200 gramos
- D. 100 kilogramos

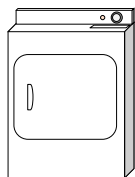
3)



Araña

- A. 1 gramo
- B. 500 gramos
- C. 15 gramos
- D. 1 kilogramo

4)



Secadora

- A. 60 gramos
- B. 3 gramos
- C. 60 kilogramos
- D. 3 kilogramos

5)



Lapicero

- A. 500 gramos
- B. 5000 gramos
- C. 5 gramos
- D. 5 kilogramos


6)



Manzana

- A. 5 kilogramos
- B. 200 kilogramos
- C. 200 gramos
- D. 5 gramos


7)



Lata de Soda

- A. 1 gramo
- B. 250 gramos
- C. 500 kilogramos
- D. 2 kilogramos

8)



Batería

- A. 1 gramo
- B. 15 gramos
- C. 10 kilogramos
- D. 90 kilogramos

9)



Teléfono

- A. 500 gramos
- B. 5 gramos
- C. 15 kilogramos
- D. 500 kilogramos

- 1. \_\_\_\_\_
- 2. \_\_\_\_\_
- 3. \_\_\_\_\_
- 4. \_\_\_\_\_
- 5. \_\_\_\_\_
- 6. \_\_\_\_\_
- 7. \_\_\_\_\_
- 8. \_\_\_\_\_
- 9. \_\_\_\_\_



Determina cuál letra mejor representa el peso del objeto.

Respuestas


**Gramo (g)**

Un gramo es aproximadamente el peso de un clip.



**Kilogramo (kilogramo)**


Un kilogramo es aproximadamente el peso de un libro grueso.



**Recuerda:**

Kilo significa 1,000. Entonces, un kilogramo son 1,000 gramos. 1 kilogramo también pesa aproximadamente lo mismo que 2 libras.


1)



Carro

- A. 15 gramos
- B. 2000 kilogramos
- C. 6000 gramos
- D. 2 kilogramos


2)



Cortadora de césped

- A. 500 gramos
- B. 22 kilogramos
- C. 200 gramos
- D. 100 kilogramos

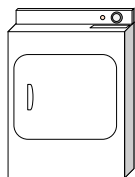
3)



Araña

- A. 1 gramo
- B. 500 gramos
- C. 15 gramos
- D. 1 kilogramo

4)



Secadora

- A. 60 gramos
- B. 3 gramos
- C. 60 kilogramos
- D. 3 kilogramos

5)



Lapicero

- A. 500 gramos
- B. 5000 gramos
- C. 5 gramos
- D. 5 kilogramos


6)



Manzana

- A. 5 kilogramos
- B. 200 kilogramos
- C. 200 gramos
- D. 5 gramos

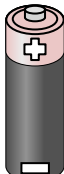
7)



Lata de Soda

- A. 1 gramo
- B. 250 gramos
- C. 500 kilogramos
- D. 2 kilogramos

8)



Batería

- A. 1 gramo
- B. 15 gramos
- C. 10 kilogramos
- D. 90 kilogramos

9)



Teléfono

- A. 500 gramos
- B. 5 gramos
- C. 15 kilogramos
- D. 500 kilogramos

- 1. **B**
- 2. **B**
- 3. **A**
- 4. **C**
- 5. **C**
- 6. **C**
- 7. **B**
- 8. **B**
- 9. **A**