



Determina cuál letra mejor representa el peso del objeto.

Respuestas


**Gramas (g)**

Un gramo es aproximadamente el peso de un clip.



**Kilogramo (kilogramo)**

Un kilogramo es aproximadamente el peso de un libro grueso.



**Recuerda:**

Kilo significa 1,000. Entonces, un kilogramo son 1,000 gramos. 1 kilogramo también pesa aproximadamente lo mismo que 2 libras.

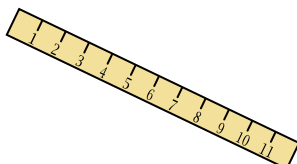
1)



Bola de tenis

- A. 1 gramo
- B. 15 kilogramos
- C. 1 kilogramo
- D. 50 gramos

2)



Regla

- A. 999 gramos
- B. 30 kilogramos
- C. 20 gramos
- D. 1 gramo

3)



Vela

- A. 4 gramos
- B. 10 kilogramos
- C. 500 gramos
- D. 2 kilogramos

4)



Juego de pesas

- A. 200 gramos
- B. 1 kilogramo
- C. 100 kilogramos
- D. 100 gramos

5)



Palomita de maíz

- A. 1 kilogramo
- B. 100 gramos
- C. 100 kilogramos
- D. 1 gramo

6)



Estufa

- A. 15 kilogramos
- B. 15 gramos
- C. 70 gramos
- D. 70 kilogramos

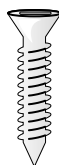
7)



Clavo

- A. 3 gramos
- B. 500 gramos
- C. 3 kilogramos
- D. 2 kilogramos

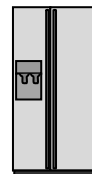
8)



Tornillo

- A. 1 gramo
- B. 500 kilogramos
- C. 500 gramos
- D. 1 kilogramo

9)



Refrigerador

- A. 40 gramos
- B. 200 gramos
- C. 10 kilogramos
- D. 90 kilogramos

- 1. \_\_\_\_\_
- 2. \_\_\_\_\_
- 3. \_\_\_\_\_
- 4. \_\_\_\_\_
- 5. \_\_\_\_\_
- 6. \_\_\_\_\_
- 7. \_\_\_\_\_
- 8. \_\_\_\_\_
- 9. \_\_\_\_\_



Determina cuál letra mejor representa el peso del objeto.


**Gramas (g)**

Un gramo es aproximadamente el peso de un clip.



**Kilogramo (kilogramo)**

Un kilogramo es aproximadamente el peso de un libro grueso.



**Recuerda:**

Kilo significa 1,000. Entonces, un kilogramo son 1,000 gramos. 1 kilogramo también pesa aproximadamente lo mismo que 2 libras.

**Respuestas**

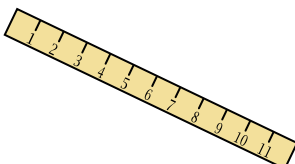
1)



Bola de tenis

- A. 1 gramo
- B. 15 kilogramos
- C. 1 kilogramo
- D. 50 gramos

2)



Regla

- A. 999 gramos
- B. 30 kilogramos
- C. 20 gramos
- D. 1 gramo

3)



Vela

- A. 4 gramos
- B. 10 kilogramos
- C. 500 gramos
- D. 2 kilogramos

1. **D**

2. **C**

3. **A**

4. **C**

5. **D**

6. **D**

7. **A**

8. **A**

9. **D**

4)



Juego de pesas

- A. 200 gramos
- B. 1 kilogramo
- C. 100 kilogramos
- D. 100 gramos

5)



Palomita de maíz

- A. 1 kilogramo
- B. 100 gramos
- C. 100 kilogramos
- D. 1 gramo

6)



Estufa

- A. 15 kilogramos
- B. 15 gramos
- C. 70 gramos
- D. 70 kilogramos


7)



Clavo

- A. 3 gramos
- B. 500 gramos
- C. 3 kilogramos
- D. 2 kilogramos

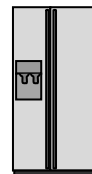
8)



Tornillo

- A. 1 gramo
- B. 500 kilogramos
- C. 500 gramos
- D. 1 kilogramo

9)



Refrigerador

- A. 40 gramos
- B. 200 gramos
- C. 10 kilogramos
- D. 90 kilogramos