



Determina cuál letra mejor representa el peso del objeto.

Respuestas


Gramas (g)

Un gramo es aproximadamente el peso de un clip.



Kilogramo (kilogramo)


Un kilogramo es aproximadamente el peso de un libro grueso.



Recuerda:

Kilo significa 1,000. Entonces, un kilogramo son 1,000 gramos. 1 kilogramo también pesa aproximadamente lo mismo que 2 libras.

1)



- 2 litros de Soda
- A. 50 gramos
 - B. 2 kilogramos
 - C. 100 gramos
 - D. 3 gramos

2)



- Televisor de pantalla gigante
- A. 20 gramos
 - B. 20 kilogramos
 - C. 100 gramos
 - D. 1000 kilogramos

3)



- Pala
- A. 30 kilogramos
 - B. 5 kilogramos
 - C. 10 gramos
 - D. 1 gramo

4)




- Monitor
- A. 500 kilogramos
 - B. 8 kilogramos
 - C. 8 gramos
 - D. 500 gramos

5)



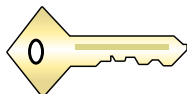
- Pegamento
- A. 500 gramos
 - B. 1 kilogramo
 - C. 62 gramos
 - D. 1 gramo

6)



- Reclinadora
- A. 150 gramos
 - B. 1 kilogramo
 - C. 35 kilogramos
 - D. 90 gramos

7)



- Llave
- A. 1 gramo
 - B. 100 kilogramos
 - C. 100 gramos
 - D. 1 kilogramo

8)



- Gabinete
- A. 1 gramo
 - B. 55 kilogramos
 - C. 1 kilogramo
 - D. 300 gramos

9)



- Escoba
- A. 10 kilogramos
 - B. 200 kilogramos
 - C. 10 gramos
 - D. 500 gramos

- 1. _____
- 2. _____
- 3. _____
- 4. _____
- 5. _____
- 6. _____
- 7. _____
- 8. _____
- 9. _____



Determina cuál letra mejor representa el peso del objeto.

Respuestas

Gramas (g)

Un gramo es aproximadamente el peso de un clip.



Kilogramo (kilogramo)


Un kilogramo es aproximadamente el peso de un libro grueso.



Recuerda:

Kilo significa 1,000. Entonces, un kilogramo son 1,000 gramos. 1 kilogramo también pesa aproximadamente lo mismo que 2 libras.

1)



2 litros de Soda

- A. 50 gramos
- B. 2 kilogramos
- C. 100 gramos
- D. 3 gramos

2)



Televisor de pantalla gigante

- A. 20 gramos
- B. 20 kilogramos
- C. 100 gramos
- D. 1000 kilogramos

3)



Pala

- A. 30 kilogramos
- B. 5 kilogramos
- C. 10 gramos
- D. 1 gramo

4)



Monitor

- A. 500 kilogramos
- B. 8 kilogramos
- C. 8 gramos
- D. 500 gramos


5)



Pegamento

- A. 500 gramos
- B. 1 kilogramo
- C. 62 gramos
- D. 1 gramo

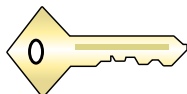
6)



Reclinadora

- A. 150 gramos
- B. 1 kilogramo
- C. 35 kilogramos
- D. 90 gramos

7)



Llave

- A. 1 gramo
- B. 100 kilogramos
- C. 100 gramos
- D. 1 kilogramo

8)



Gabinete

- A. 1 gramo
- B. 55 kilogramos
- C. 1 kilogramo
- D. 300 gramos

9)



Escoba

- A. 10 kilogramos
- B. 200 kilogramos
- C. 10 gramos
- D. 500 gramos

- 1. **B**
- 2. **B**
- 3. **B**
- 4. **B**
- 5. **C**
- 6. **C**
- 7. **C**
- 8. **B**
- 9. **D**



Determina cuál letra mejor representa el peso del objeto.

Respuestas


Gramo (g)

Un gramo es aproximadamente el peso de un clip.



Kilogramo (kilogramo)


Un kilogramo es aproximadamente el peso de un libro grueso.



Recuerda:

Kilo significa 1,000. Entonces, un kilogramo son 1,000 gramos. 1 kilogramo también pesa aproximadamente lo mismo que 2 libras.

1)



Carro

- A. 15 gramos
- B. 2000 kilogramos
- C. 6000 gramos
- D. 2 kilogramos


2)



Cortadora de césped

- A. 500 gramos
- B. 22 kilogramos
- C. 200 gramos
- D. 100 kilogramos

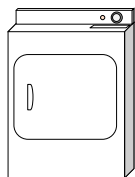
3)



Araña

- A. 1 gramo
- B. 500 gramos
- C. 15 gramos
- D. 1 kilogramo

4)



Secadora

- A. 60 gramos
- B. 3 gramos
- C. 60 kilogramos
- D. 3 kilogramos

5)



Lapicero

- A. 500 gramos
- B. 5000 gramos
- C. 5 gramos
- D. 5 kilogramos


6)



Manzana

- A. 5 kilogramos
- B. 200 kilogramos
- C. 200 gramos
- D. 5 gramos

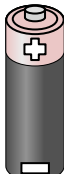
7)



Lata de Soda

- A. 1 gramo
- B. 250 gramos
- C. 500 kilogramos
- D. 2 kilogramos

8)



Batería

- A. 1 gramo
- B. 15 gramos
- C. 10 kilogramos
- D. 90 kilogramos

9)



Teléfono

- A. 500 gramos
- B. 5 gramos
- C. 15 kilogramos
- D. 500 kilogramos

- 1. _____
- 2. _____
- 3. _____
- 4. _____
- 5. _____
- 6. _____
- 7. _____
- 8. _____
- 9. _____



Determina cuál letra mejor representa el peso del objeto.

Respuestas


Gramas (g)

Un gramo es aproximadamente el peso de un clip.



Kilogramo (kilogramo)


Un kilogramo es aproximadamente el peso de un libro grueso.



Recuerda:

Kilo significa 1,000. Entonces, un kilogramo son 1,000 gramos. 1 kilogramo también pesa aproximadamente lo mismo que 2 libras.

1)



Carro

- A. 15 gramos
- B. 2000 kilogramos
- C. 6000 gramos
- D. 2 kilogramos


2)



Cortadora de césped

- A. 500 gramos
- B. 22 kilogramos
- C. 200 gramos
- D. 100 kilogramos

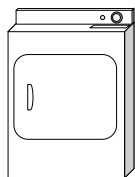
3)



Araña

- A. 1 gramo
- B. 500 gramos
- C. 15 gramos
- D. 1 kilogramo

4)



Secadora

- A. 60 gramos
- B. 3 gramos
- C. 60 kilogramos
- D. 3 kilogramos

5)



Lapicero

- A. 500 gramos
- B. 5000 gramos
- C. 5 gramos
- D. 5 kilogramos


6)



Manzana

- A. 5 kilogramos
- B. 200 kilogramos
- C. 200 gramos
- D. 5 gramos

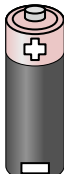
7)



Lata de Soda

- A. 1 gramo
- B. 250 gramos
- C. 500 kilogramos
- D. 2 kilogramos

8)



Batería

- A. 1 gramo
- B. 15 gramos
- C. 10 kilogramos
- D. 90 kilogramos

9)



Teléfono

- A. 500 gramos
- B. 5 gramos
- C. 15 kilogramos
- D. 500 kilogramos

- 1. **B**
- 2. **B**
- 3. **A**
- 4. **C**
- 5. **C**
- 6. **C**
- 7. **B**
- 8. **B**
- 9. **A**



Determina cuál letra mejor representa el peso del objeto.

Respuestas


Gramas (g)

Un gramo es aproximadamente el peso de un clip.



Kilogramo (kilogramo)


Un kilogramo es aproximadamente el peso de un libro grueso.



Recuerda:

Kilo significa 1,000. Entonces, un kilogramo son 1,000 gramos. 1 kilogramo también pesa aproximadamente lo mismo que 2 libras.

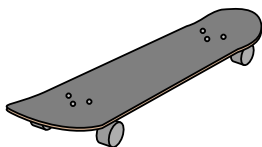
1)



Cuaderno de papel

- A. 1 kilogramo
- B. 3 gramos
- C. 500 gramos
- D. 85 gramos

2)



Monopatín

- A. 20 gramos
- B. 15 kilogramos
- C. 2 kilogramos
- D. 200 gramos


3)



Escoba

- A. 500 gramos
- B. 10 kilogramos
- C. 10 gramos
- D. 200 kilogramos


4)



Pera

- A. 2 kilogramos
- B. 170 kilogramos
- C. 170 gramos
- D. 2 gramos

5)



Cortadora de césped

- A. 500 gramos
- B. 100 kilogramos
- C. 200 gramos
- D. 22 kilogramos

6)



Gabinete

- A. 55 kilogramos
- B. 1 gramo
- C. 300 gramos
- D. 1 kilogramo

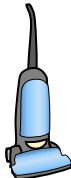
7)



Reloj de mano

- A. 1 gramo
- B. 90 gramos
- C. 1 kilogramo
- D. 500 kilogramos


8)



Aspiradora

- A. 20 kilogramos
- B. 90 gramos
- C. 500 kilogramos
- D. 50 gramos

9)



Manzana

- A. 5 gramos
- B. 200 kilogramos
- C. 200 gramos
- D. 5 kilogramos

- 1. _____
- 2. _____
- 3. _____
- 4. _____
- 5. _____
- 6. _____
- 7. _____
- 8. _____
- 9. _____



Determina cuál letra mejor representa el peso del objeto.

Respuestas

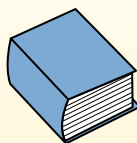
Gramas (g)

Un gramo es aproximadamente el peso de un clip.



Kilogramo (kilogramo)


Un kilogramo es aproximadamente el peso de un libro grueso.



Recuerda:

Kilo significa 1,000. Entonces, un kilogramo son 1,000 gramos. 1 kilogramo también pesa aproximadamente lo mismo que 2 libras.

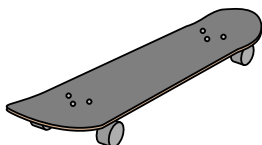
1)



Cuaderno de papel

- A. 1 kilogramo
- B. 3 gramos
- C. 500 gramos
- D. 85 gramos

2)



Monopatín

- A. 20 gramos
- B. 15 kilogramos
- C. 2 kilogramos
- D. 200 gramos


3)



Escoba

- A. 500 gramos
- B. 10 kilogramos
- C. 10 gramos
- D. 200 kilogramos

4)



Pera

- A. 2 kilogramos
- B. 170 kilogramos
- C. 170 gramos
- D. 2 gramos

5)



Cortadora de césped

- A. 500 gramos
- B. 100 kilogramos
- C. 200 gramos
- D. 22 kilogramos

6)



Gabinete

- A. 55 kilogramos
- B. 1 gramo
- C. 300 gramos
- D. 1 kilogramo

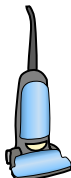
7)



Reloj de mano

- A. 1 gramo
- B. 90 gramos
- C. 1 kilogramo
- D. 500 kilogramos

8)



Aspiradora

- A. 20 kilogramos
- B. 90 gramos
- C. 500 kilogramos
- D. 50 gramos

9)



Manzana

- A. 5 gramos
- B. 200 kilogramos
- C. 200 gramos
- D. 5 kilogramos

- 1. **B**
- 2. **C**
- 3. **A**
- 4. **C**
- 5. **D**
- 6. **A**
- 7. **B**
- 8. **A**
- 9. **C**



Determina cuál letra mejor representa el peso del objeto.

Respuestas


Gramo (g)

Un gramo es aproximadamente el peso de un clip.



Kilogramo (kilogramo)

Un kilogramo es aproximadamente el peso de un libro grueso.

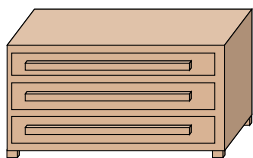


Recuerda:

Kilo significa 1,000. Entonces, un kilogramo son 1,000 gramos. 1 kilogramo también pesa aproximadamente lo mismo que 2 libras.

1. _____
2. _____
3. _____
4. _____
5. _____
6. _____
7. _____
8. _____
9. _____

1)



Cómoda

- A. 500 kilogramos
- B. 70 kilogramos
- C. 20 gramos
- D. 350 gramos

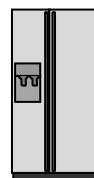
2)



Estufa

- A. 70 kilogramos
- B. 15 gramos
- C. 70 gramos
- D. 15 kilogramos


3)



Refrigerador

- A. 10 kilogramos
- B. 40 gramos
- C. 90 kilogramos
- D. 200 gramos

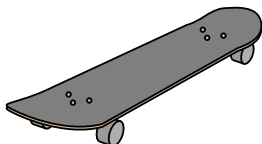
4)



Pera

- A. 170 kilogramos
- B. 2 kilogramos
- C. 170 gramos
- D. 2 gramos

5)



Monopatín

- A. 20 gramos
- B. 200 gramos
- C. 2 kilogramos
- D. 15 kilogramos

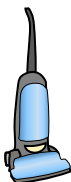
6)



Monitor

- A. 8 kilogramos
- B. 500 gramos
- C. 500 kilogramos
- D. 8 gramos

7)



Aspiradora

- A. 20 kilogramos
- B. 90 gramos
- C. 500 kilogramos
- D. 50 gramos

8)



Reclinadora

- A. 90 gramos
- B. 150 gramos
- C. 1 kilogramo
- D. 35 kilogramos

9)



Reloj de mano

- A. 500 kilogramos
- B. 1 kilogramo
- C. 1 gramo
- D. 90 gramos



Determina cuál letra mejor representa el peso del objeto.

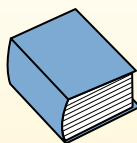
Gramo (g)

Un gramo es aproximadamente el peso de un clip.



Kilogramo (kilogramo)

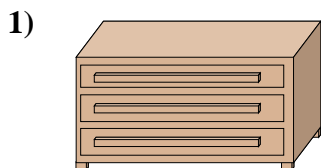
Un kilogramo es aproximadamente el peso de un libro grueso.



Recuerda:

Kilo significa 1,000. Entonces, un kilogramo son 1,000 gramos. 1 kilogramo también pesa aproximadamente lo mismo que 2 libras.

Respuestas



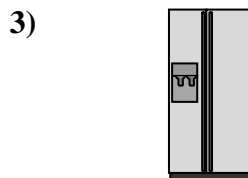
Cómoda

- A. 500 kilogramos
- B. 70 kilogramos
- C. 20 gramos
- D. 350 gramos



Estufa

- A. 70 kilogramos
- B. 15 gramos
- C. 70 gramos
- D. 15 kilogramos




Refrigerador

- A. 10 kilogramos
- B. 40 gramos
- C. 90 kilogramos
- D. 200 gramos



Pera

- A. 170 kilogramos
- B. 2 kilogramos
- C. 170 gramos
- D. 2 gramos



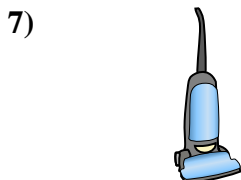
Monopatín

- A. 20 gramos
- B. 200 gramos
- C. 2 kilogramos
- D. 15 kilogramos




Monitor

- A. 8 kilogramos
- B. 500 gramos
- C. 500 kilogramos
- D. 8 gramos



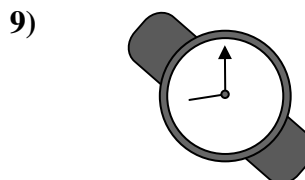
Aspiradora

- A. 20 kilogramos
- B. 90 gramos
- C. 500 kilogramos
- D. 50 gramos



Reclinadora

- A. 90 gramos
- B. 150 gramos
- C. 1 kilogramo
- D. 35 kilogramos



Reloj de mano

- A. 500 kilogramos
- B. 1 kilogramo
- C. 1 gramo
- D. 90 gramos

- 1. **B**
- 2. **A**
- 3. **C**
- 4. **C**
- 5. **C**
- 6. **A**
- 7. **A**
- 8. **D**
- 9. **D**



Determina cuál letra mejor representa el peso del objeto.

Respuestas

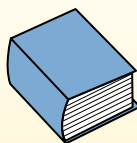
Gramas (g)

Un gramo es aproximadamente el peso de un clip.



Kilogramo (kilogramo)

Un kilogramo es aproximadamente el peso de un libro grueso.

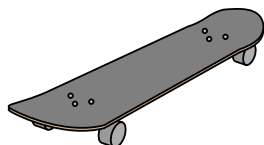


Recuerda:

Kilo significa 1,000. Entonces, un kilogramo son 1,000 gramos. 1 kilogramo también pesa aproximadamente lo mismo que 2 libras.

- 1. _____
- 2. _____
- 3. _____
- 4. _____
- 5. _____
- 6. _____
- 7. _____
- 8. _____
- 9. _____

1)



Monopatín

- A. 20 gramos
- B. 200 gramos
- C. 15 kilogramos
- D. 2 kilogramos

2)



Pala

- A. 1 gramo
- B. 5 kilogramos
- C. 10 gramos
- D. 30 kilogramos


3)



Vela

- A. 4 gramos
- B. 10 kilogramos
- C. 500 gramos
- D. 2 kilogramos


4)



Escarabajo

- A. 500 gramos
- B. 1 gramo
- C. 2 kilogramos
- D. 5000 gramos

5)



Araña

- A. 1 gramo
- B. 15 gramos
- C. 500 gramos
- D. 1 kilogramo

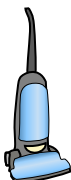
6)



Pegamento

- A. 1 gramo
- B. 500 gramos
- C. 1 kilogramo
- D. 62 gramos


7)



Aspiradora

- A. 500 kilogramos
- B. 50 gramos
- C. 90 gramos
- D. 20 kilogramos

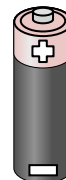
8)



Reclinadora

- A. 90 gramos
- B. 1 kilogramo
- C. 150 gramos
- D. 35 kilogramos

9)



Batería

- A. 15 gramos
- B. 10 kilogramos
- C. 1 gramo
- D. 90 kilogramos



Determina cuál letra mejor representa el peso del objeto.

Respuestas

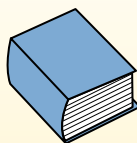
Gramas (g)

Un gramo es aproximadamente el peso de un clip.



Kilogramo (kilogramo)

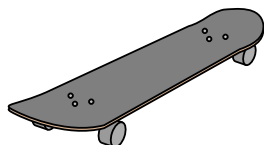
Un kilogramo es aproximadamente el peso de un libro grueso.



Recuerda:

Kilo significa 1,000. Entonces, un kilogramo son 1,000 gramos. 1 kilogramo también pesa aproximadamente lo mismo que 2 libras.

1)



Monopatín

- A. 20 gramos
- B. 200 gramos
- C. 15 kilogramos
- D. 2 kilogramos

2)



Pala

- A. 1 gramo
- B. 5 kilogramos
- C. 10 gramos
- D. 30 kilogramos


3)



Vela

- A. 4 gramos
- B. 10 kilogramos
- C. 500 gramos
- D. 2 kilogramos

4)



Escarabajo

- A. 500 gramos
- B. 1 gramo
- C. 2 kilogramos
- D. 5000 gramos

5)



Araña

- A. 1 gramo
- B. 15 gramos
- C. 500 gramos
- D. 1 kilogramo

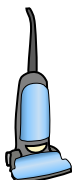
6)



Pegamento

- A. 1 gramo
- B. 500 gramos
- C. 1 kilogramo
- D. 62 gramos


7)



Aspiradora

- A. 500 kilogramos
- B. 50 gramos
- C. 90 gramos
- D. 20 kilogramos

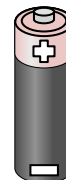
8)



Reclinadora

- A. 90 gramos
- B. 1 kilogramo
- C. 150 gramos
- D. 35 kilogramos

9)



Batería

- A. 15 gramos
- B. 10 kilogramos
- C. 1 gramo
- D. 90 kilogramos

- 1. **D**
- 2. **B**
- 3. **A**
- 4. **B**
- 5. **A**
- 6. **D**
- 7. **D**
- 8. **D**
- 9. **A**



Determina cuál letra mejor representa el peso del objeto.

Respuestas

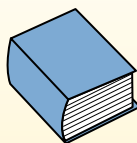
Gramas (g)

Un gramo es aproximadamente el peso de un clip.



Kilogramo (kilogramo)


Un kilogramo es aproximadamente el peso de un libro grueso.



Recuerda:

Kilo significa 1,000. Entonces, un kilogramo son 1,000 gramos. 1 kilogramo también pesa aproximadamente lo mismo que 2 libras.


1)



Cuaderno de papel

- A. 3 gramos
- B. 85 gramos
- C. 1 kilogramo
- D. 500 gramos

2)



Escarabajo

- A. 2 kilogramos
- B. 5000 gramos
- C. 500 gramos
- D. 1 gramo

3)



Cepillo de dientes

- A. 15 kilogramos
- B. 30 gramos
- C. 500 kilogramos
- D. 1 gramo


4)



Lapicero

- A. 5 kilogramos
- B. 5 gramos
- C. 5000 gramos
- D. 500 gramos

5)



Carro

- A. 2000 kilogramos
- B. 15 gramos
- C. 6000 gramos
- D. 2 kilogramos

6)



Caja de cereal

- A. 5 gramos
- B. 425 kilogramos
- C. 425 gramos
- D. 5 kilogramos

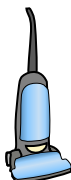
7)



Insecto

- A. 50 gramos
- B. 50 kilogramos
- C. 1 kilogramo
- D. 1 gramo

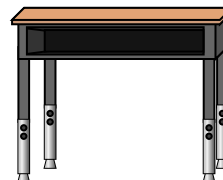
8)



Aspiradora

- A. 500 kilogramos
- B. 50 gramos
- C. 20 kilogramos
- D. 90 gramos

9)



Escritorio

- A. 300 kilogramos
- B. 15 kilogramos
- C. 15 gramos
- D. 300 gramos

- 1. _____
- 2. _____
- 3. _____
- 4. _____
- 5. _____
- 6. _____
- 7. _____
- 8. _____
- 9. _____



Determina cuál letra mejor representa el peso del objeto.

Respuestas


Gramas (g)

Un gramo es aproximadamente el peso de un clip.



Kilogramo (kilogramo)


Un kilogramo es aproximadamente el peso de un libro grueso.



Recuerda:

Kilo significa 1,000. Entonces, un kilogramo son 1,000 gramos. 1 kilogramo también pesa aproximadamente lo mismo que 2 libras.


1)



Cuaderno de papel

- A. 3 gramos
- B. 85 gramos
- C. 1 kilogramo
- D. 500 gramos

2)



Escarabajo

- A. 2 kilogramos
- B. 5000 gramos
- C. 500 gramos
- D. 1 gramo

3)



Cepillo de dientes

- A. 15 kilogramos
- B. 30 gramos
- C. 500 kilogramos
- D. 1 gramo


4)



Lapicero

- A. 5 kilogramos
- B. 5 gramos
- C. 5000 gramos
- D. 500 gramos

5)



Carro

- A. 2000 kilogramos
- B. 15 gramos
- C. 6000 gramos
- D. 2 kilogramos

6)



Caja de cereal

- A. 5 gramos
- B. 425 kilogramos
- C. 425 gramos
- D. 5 kilogramos

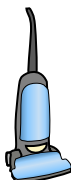
7)



Insecto

- A. 50 gramos
- B. 50 kilogramos
- C. 1 kilogramo
- D. 1 gramo

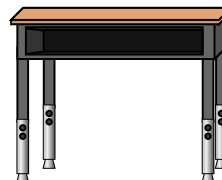
8)



Aspiradora

- A. 500 kilogramos
- B. 50 gramos
- C. 20 kilogramos
- D. 90 gramos

9)



Escritorio

- A. 300 kilogramos
- B. 15 kilogramos
- C. 15 gramos
- D. 300 gramos

- 1. **A**
- 2. **D**
- 3. **B**
- 4. **B**
- 5. **A**
- 6. **C**
- 7. **D**
- 8. **C**
- 9. **B**



Determina cuál letra mejor representa el peso del objeto.

Respuestas


Gramas (g)

Un gramo es aproximadamente el peso de un clip.



Kilogramo (kilogramo)

Un kilogramo es aproximadamente el peso de un libro grueso.



Recuerda:

Kilo significa 1,000. Entonces, un kilogramo son 1,000 gramos. 1 kilogramo también pesa aproximadamente lo mismo que 2 libras.

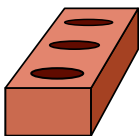
1)



Vela

- A. 10 kilogramos
- B. 500 gramos
- C. 4 gramos
- D. 2 kilogramos


2)



Ladrillo

- A. 2 kilogramos
- B. 500 kilogramos
- C. 3 gramos
- D. 500 gramos


3)



Pluma

- A. 200 gramos
- B. 200 kilogramos
- C. 1 kilogramo
- D. 1 gramo

4)



Plancha

- A. 15 gramos
- B. 100 gramos
- C. 15 kilogramos
- D. 2 kilogramos

5)



Pala

- A. 30 kilogramos
- B. 5 kilogramos
- C. 10 gramos
- D. 1 gramo

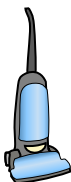
6)



Gabinete

- A. 1 gramo
- B. 1 kilogramo
- C. 55 kilogramos
- D. 300 gramos

7)



Aspiradora

- A. 20 kilogramos
- B. 500 kilogramos
- C. 90 gramos
- D. 50 gramos


8)



Memoria USB

- A. 10 gramos
- B. 90 kilogramos
- C. 10 kilogramos
- D. 1 kilogramo

9)



Caballo adulto

- A. 30 kilogramos
- B. 400 kilogramos
- C. 400 gramos
- D. 30 gramos

- 1. _____
- 2. _____
- 3. _____
- 4. _____
- 5. _____
- 6. _____
- 7. _____
- 8. _____
- 9. _____



Determina cuál letra mejor representa el peso del objeto.


Gramas (g)

Un gramo es aproximadamente el peso de un clip.



Kilogramo (kilogramo)

Un kilogramo es aproximadamente el peso de un libro grueso.



Recuerda:

Kilo significa 1,000. Entonces, un kilogramo son 1,000 gramos. 1 kilogramo también pesa aproximadamente lo mismo que 2 libras.

Respuestas

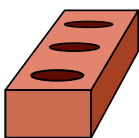
1)



Vela

- A. 10 kilogramos
- B. 500 gramos
- C. 4 gramos
- D. 2 kilogramos


2)



Ladrillo

- A. 2 kilogramos
- B. 500 kilogramos
- C. 3 gramos
- D. 500 gramos

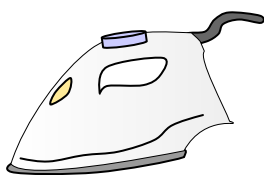
3)



Pluma

- A. 200 gramos
- B. 200 kilogramos
- C. 1 kilogramo
- D. 1 gramo

4)



Plancha

- A. 15 gramos
- B. 100 gramos
- C. 15 kilogramos
- D. 2 kilogramos

5)



Pala

- A. 30 kilogramos
- B. 5 kilogramos
- C. 10 gramos
- D. 1 gramo

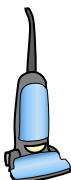
6)



Gabinete

- A. 1 gramo
- B. 1 kilogramo
- C. 55 kilogramos
- D. 300 gramos

7)



Aspiradora

- A. 20 kilogramos
- B. 500 kilogramos
- C. 90 gramos
- D. 50 gramos


8)



Memoria USB

- A. 10 gramos
- B. 90 kilogramos
- C. 10 kilogramos
- D. 1 kilogramo

9)



Caballo adulto

- A. 30 kilogramos
- B. 400 kilogramos
- C. 400 gramos
- D. 30 gramos

- 1. **C**
- 2. **A**
- 3. **D**
- 4. **D**
- 5. **B**
- 6. **C**
- 7. **A**
- 8. **A**
- 9. **B**



Determina cuál letra mejor representa el peso del objeto.

Respuestas


Gramas (g)

Un gramo es aproximadamente el peso de un clip.



Kilogramo (kilogramo)

Un kilogramo es aproximadamente el peso de un libro grueso.



Recuerda:

Kilo significa 1,000. Entonces, un kilogramo son 1,000 gramos. 1 kilogramo también pesa aproximadamente lo mismo que 2 libras.

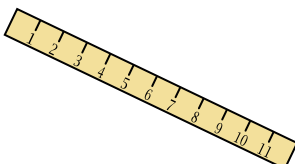
1)



Bola de tenis

- A. 1 gramo
- B. 15 kilogramos
- C. 1 kilogramo
- D. 50 gramos

2)



Regla

- A. 999 gramos
- B. 30 kilogramos
- C. 20 gramos
- D. 1 gramo

3)



Vela

- A. 4 gramos
- B. 10 kilogramos
- C. 500 gramos
- D. 2 kilogramos

4)



Juego de pesas

- A. 200 gramos
- B. 1 kilogramo
- C. 100 kilogramos
- D. 100 gramos

5)



Palomita de maíz

- A. 1 kilogramo
- B. 100 gramos
- C. 100 kilogramos
- D. 1 gramo

6)



Estufa

- A. 15 kilogramos
- B. 15 gramos
- C. 70 gramos
- D. 70 kilogramos

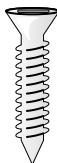
7)



Clavo

- A. 3 gramos
- B. 500 gramos
- C. 3 kilogramos
- D. 2 kilogramos

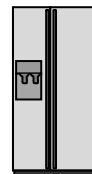
8)



Tornillo

- A. 1 gramo
- B. 500 kilogramos
- C. 500 gramos
- D. 1 kilogramo

9)



Refrigerador

- A. 40 gramos
- B. 200 gramos
- C. 10 kilogramos
- D. 90 kilogramos

- 1. _____
- 2. _____
- 3. _____
- 4. _____
- 5. _____
- 6. _____
- 7. _____
- 8. _____
- 9. _____



Determina cuál letra mejor representa el peso del objeto.

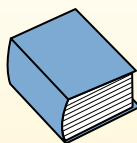
Gramas (g)

Un gramo es aproximadamente el peso de un clip.



Kilogramo (kilogramo)

Un kilogramo es aproximadamente el peso de un libro grueso.



Recuerda:

Kilo significa 1,000. Entonces, un kilogramo son 1,000 gramos. 1 kilogramo también pesa aproximadamente lo mismo que 2 libras.

Respuestas

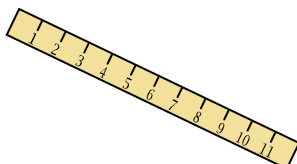
1)



Bola de tenis

- A. 1 gramo
- B. 15 kilogramos
- C. 1 kilogramo
- D. 50 gramos

2)



Regla

- A. 999 gramos
- B. 30 kilogramos
- C. 20 gramos
- D. 1 gramo

3)



Vela

- A. 4 gramos
- B. 10 kilogramos
- C. 500 gramos
- D. 2 kilogramos

1. **D**

2. **C**

3. **A**

4. **C**

5. **D**

6. **D**

7. **A**

8. **A**

9. **D**

4)



Juego de pesas

- A. 200 gramos
- B. 1 kilogramo
- C. 100 kilogramos
- D. 100 gramos

5)



Palomita de maíz

- A. 1 kilogramo
- B. 100 gramos
- C. 100 kilogramos
- D. 1 gramo

6)



Estufa

- A. 15 kilogramos
- B. 15 gramos
- C. 70 gramos
- D. 70 kilogramos

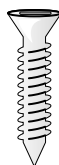
7)



Clavo

- A. 3 gramos
- B. 500 gramos
- C. 3 kilogramos
- D. 2 kilogramos

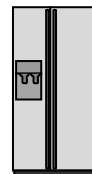
8)



Tornillo

- A. 1 gramo
- B. 500 kilogramos
- C. 500 gramos
- D. 1 kilogramo

9)



Refrigerador

- A. 40 gramos
- B. 200 gramos
- C. 10 kilogramos
- D. 90 kilogramos



Determina cuál letra mejor representa el peso del objeto.

Respuestas

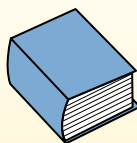
Gramo (g)

Un gramo es aproximadamente el peso de un clip.



Kilogramo (kilogramo)

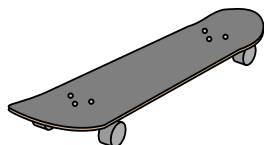
Un kilogramo es aproximadamente el peso de un libro grueso.



Recuerda:

Kilo significa 1,000. Entonces, un kilogramo son 1,000 gramos. 1 kilogramo también pesa aproximadamente lo mismo que 2 libras.

1)



Monopatín

- A. 15 kilogramos
- B. 2 kilogramos
- C. 20 gramos
- D. 200 gramos

2)



Televisor de pantalla gigante

- A. 20 kilogramos
- B. 1000 kilogramos
- C. 100 gramos
- D. 20 gramos

3)



2 litros de Soda

- A. 100 gramos
- B. 3 gramos
- C. 2 kilogramos
- D. 50 gramos


4)



Lapicero

- A. 5 kilogramos
- B. 5000 gramos
- C. 500 gramos
- D. 5 gramos

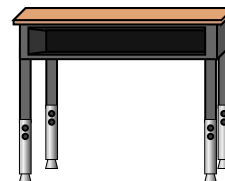
5)



Escarabajo

- A. 1 gramo
- B. 500 gramos
- C. 5000 gramos
- D. 2 kilogramos

6)



Escritorio

- A. 300 gramos
- B. 15 kilogramos
- C. 300 kilogramos
- D. 15 gramos

7)



Escoba

- A. 200 kilogramos
- B. 10 gramos
- C. 10 kilogramos
- D. 500 gramos


8)



Pala

- A. 30 kilogramos
- B. 5 kilogramos
- C. 1 gramo
- D. 10 gramos

9)



Elefante

- A. 30 kilogramos
- B. 90 gramos
- C. 5000 gramos
- D. 5000 kilogramos

- 1. _____
- 2. _____
- 3. _____
- 4. _____
- 5. _____
- 6. _____
- 7. _____
- 8. _____
- 9. _____



Determina cuál letra mejor representa el peso del objeto.

Respuestas

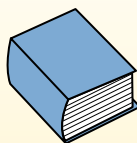
Gramas (g)

Un gramo es aproximadamente el peso de un clip.



Kilogramo (kilogramo)

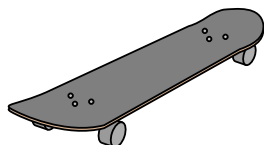
Un kilogramo es aproximadamente el peso de un libro grueso.



Recuerda:

Kilo significa 1,000. Entonces, un kilogramo son 1,000 gramos. 1 kilogramo también pesa aproximadamente lo mismo que 2 libras.

1)



Monopatín

- A. 15 kilogramos
- B. 2 kilogramos
- C. 20 gramos
- D. 200 gramos

2)



Televisor de pantalla gigante

- A. 20 kilogramos
- B. 1000 kilogramos
- C. 100 gramos
- D. 20 gramos

3)



2 litros de Soda

- A. 100 gramos
- B. 3 gramos
- C. 2 kilogramos
- D. 50 gramos


4)



Lapicero

- A. 5 kilogramos
- B. 5000 gramos
- C. 500 gramos
- D. 5 gramos

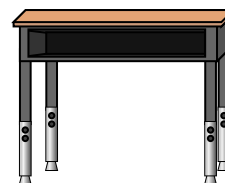
5)



Escarabajo

- A. 1 gramo
- B. 500 gramos
- C. 5000 gramos
- D. 2 kilogramos

6)



Escritorio

- A. 300 gramos
- B. 15 kilogramos
- C. 300 kilogramos
- D. 15 gramos

7)



Escoba

- A. 200 kilogramos
- B. 10 gramos
- C. 10 kilogramos
- D. 500 gramos


8)



Pala

- A. 30 kilogramos
- B. 5 kilogramos
- C. 1 gramo
- D. 10 gramos

9)



Elefante

- A. 30 kilogramos
- B. 90 gramos
- C. 5000 gramos
- D. 5000 kilogramos

- 1. **B**
- 2. **A**
- 3. **C**
- 4. **D**
- 5. **A**
- 6. **B**
- 7. **D**
- 8. **B**
- 9. **D**



Determina cuál letra mejor representa el peso del objeto.

Respuestas


Gramas (g)

Un gramo es aproximadamente el peso de un clip.



Kilogramo (kilogramo)


Un kilogramo es aproximadamente el peso de un libro grueso.



Recuerda:

Kilo significa 1,000. Entonces, un kilogramo son 1,000 gramos. 1 kilogramo también pesa aproximadamente lo mismo que 2 libras.

1)



Manzana

- A. 200 gramos
- B. 5 gramos
- C. 5 kilogramos
- D. 200 kilogramos

2)



Memoria USB

- A. 10 kilogramos
- B. 10 gramos
- C. 1 kilogramo
- D. 90 kilogramos

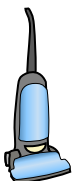
3)



Reloj de mano

- A. 500 kilogramos
- B. 1 gramo
- C. 90 gramos
- D. 1 kilogramo

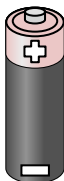
4)



Aspiradora

- A. 500 kilogramos
- B. 90 gramos
- C. 20 kilogramos
- D. 50 gramos

5)



Batería

- A. 10 kilogramos
- B. 90 kilogramos
- C. 15 gramos
- D. 1 gramo

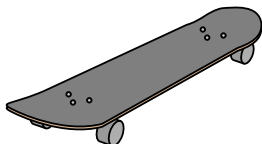
6)



Cepillo de dientes

- A. 30 gramos
- B. 500 kilogramos
- C. 1 gramo
- D. 15 kilogramos

7)



Monopatín

- A. 20 gramos
- B. 200 gramos
- C. 15 kilogramos
- D. 2 kilogramos

8)



Bola de tenis

- A. 15 kilogramos
- B. 1 kilogramo
- C. 1 gramo
- D. 50 gramos

9)



Pera

- A. 170 kilogramos
- B. 2 kilogramos
- C. 170 gramos
- D. 2 gramos

- 1. _____
- 2. _____
- 3. _____
- 4. _____
- 5. _____
- 6. _____
- 7. _____
- 8. _____
- 9. _____



Determina cuál letra mejor representa el peso del objeto.

Gramo (g)

Un gramo es aproximadamente el peso de un clip.



Kilogramo (kilogramo)


Un kilogramo es aproximadamente el peso de un libro grueso.



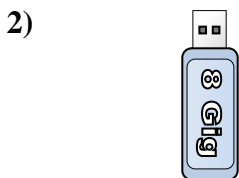
Recuerda:

Kilo significa 1,000. Entonces, un kilogramo son 1,000 gramos. 1 kilogramo también pesa aproximadamente lo mismo que 2 libras.

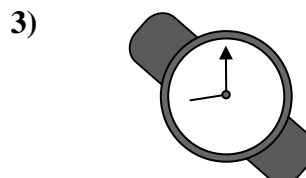
Respuestas



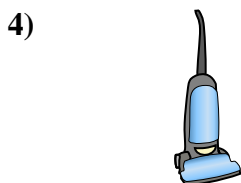
- Manzana
- A. 200 gramos
 - B. 5 gramos
 - C. 5 kilogramos
 - D. 200 kilogramos



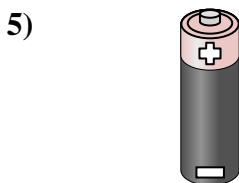
- Memoria USB
- A. 10 kilogramos
 - B. 10 gramos
 - C. 1 kilogramo
 - D. 90 kilogramos




- Reloj de mano
- A. 500 kilogramos
 - B. 1 gramo
 - C. 90 gramos
 - D. 1 kilogramo




- Aspiradora
- A. 500 kilogramos
 - B. 90 gramos
 - C. 20 kilogramos
 - D. 50 gramos



- Batería
- A. 10 kilogramos
 - B. 90 kilogramos
 - C. 15 gramos
 - D. 1 gramo



- Cepillo de dientes
- A. 30 gramos
 - B. 500 kilogramos
 - C. 1 gramo
 - D. 15 kilogramos



- Monopatín
- A. 20 gramos
 - B. 200 gramos
 - C. 15 kilogramos
 - D. 2 kilogramos



- Bola de tenis
- A. 15 kilogramos
 - B. 1 kilogramo
 - C. 1 gramo
 - D. 50 gramos



- Pera
- A. 170 kilogramos
 - B. 2 kilogramos
 - C. 170 gramos
 - D. 2 gramos

- 1. **A**
- 2. **B**
- 3. **C**
- 4. **C**
- 5. **C**
- 6. **A**
- 7. **D**
- 8. **D**
- 9. **C**