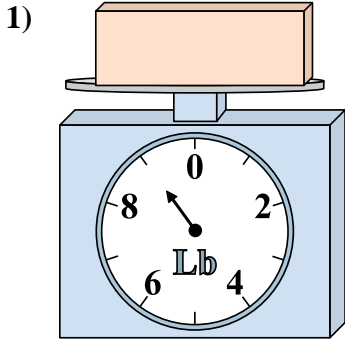


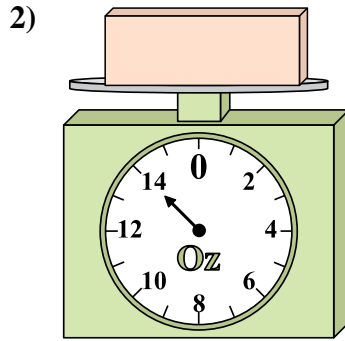


Usar las escalas mostradas para responder a las preguntas.

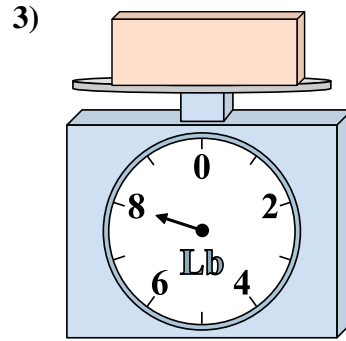
Respuestas



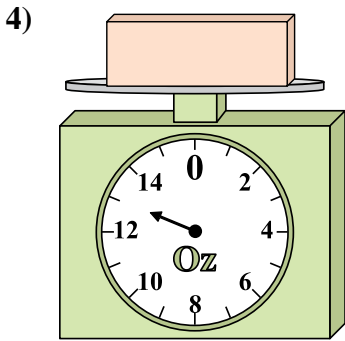
¿Cuál es el peso (en libras) del bloque?



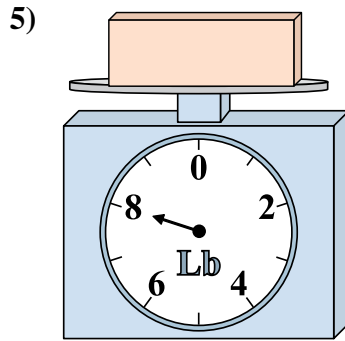
Si el bloque que se muestra fuera 5 onzas más pesado, ¿cuánto pesaría?



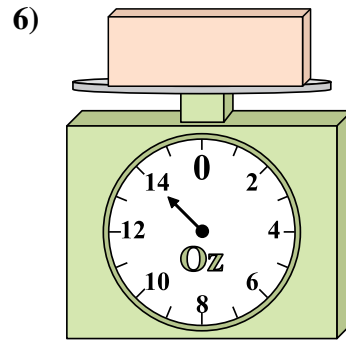
Si el bloque que se muestra fuera 5 libras más ligero, ¿cuánto pesa?



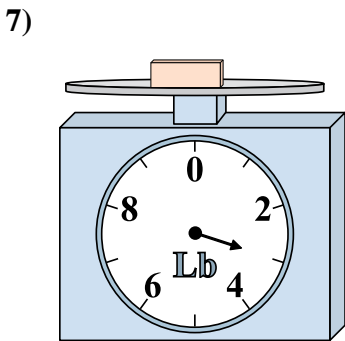
Si el bloque que se muestra fuera 8 onzas más ligero, ¿cuánto pesa?



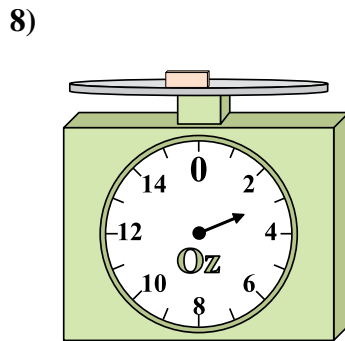
Si usted tiene 10 bloques que son del mismo peso, ¿cuántos libras en total pesan los bloques?



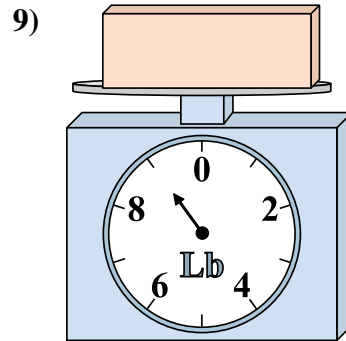
Si el bloque que se muestra fuera 2 onzas más pesado, ¿cuánto pesaría?



Si usted tiene 9 bloques que son del mismo peso, ¿cuántos libras en total pesan los bloques?



Si el bloque que se muestra fuera 3 onzas más pesado, ¿cuánto pesaría?

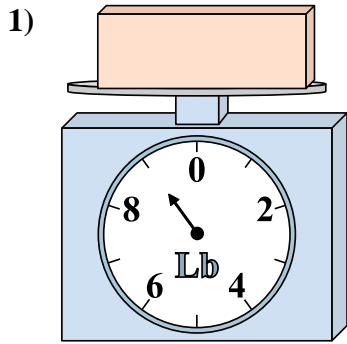


¿Cuál es el peso (en libras) del bloque?

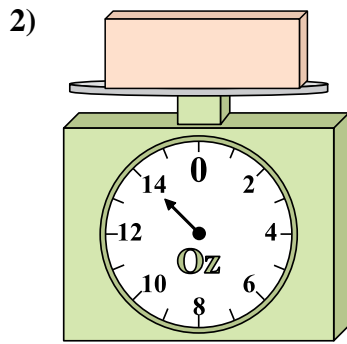
1. _____
2. _____
3. _____
4. _____
5. _____
6. _____
7. _____
8. _____
9. _____



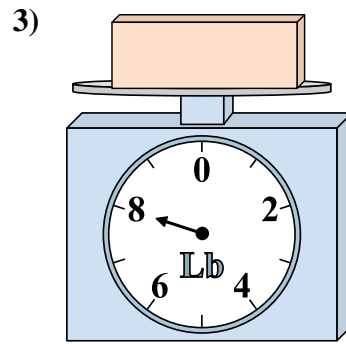
Usar las escalas mostradas para responder a las preguntas.



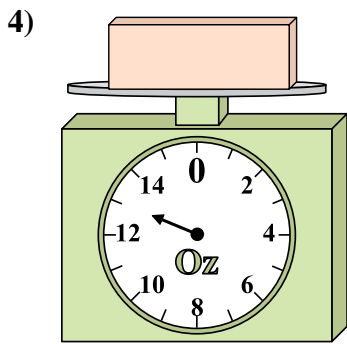
¿Cuál es el peso (en libras) del bloque?



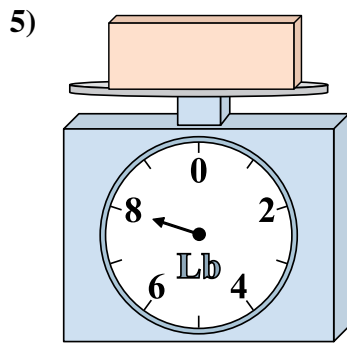
Si el bloque que se muestra fuera 5 onzas más pesado, ¿cuánto pesaría?



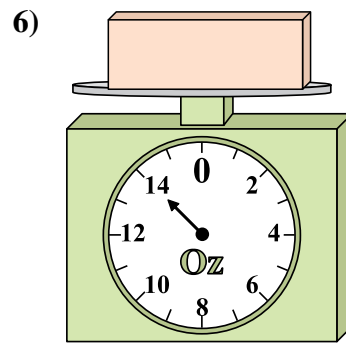
Si el bloque que se muestra fuera 5 libras más ligero, ¿cuánto pesa?



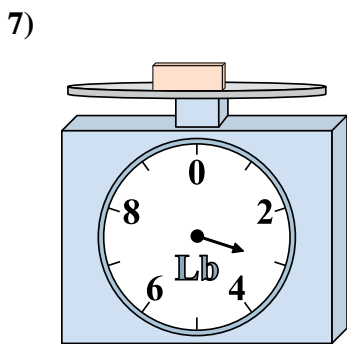
Si el bloque que se muestra fuera 8 onzas más ligero, ¿cuánto pesa?



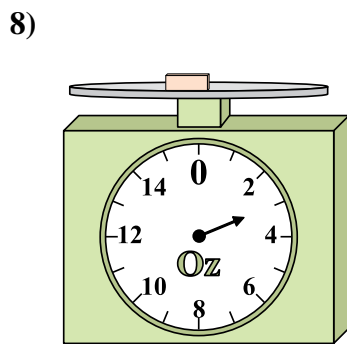
Si usted tiene 10 bloques que son del mismo peso, ¿cuántos libras en total pesan los bloques?



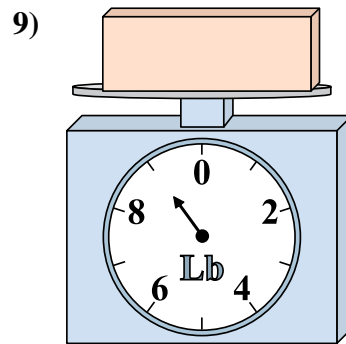
Si el bloque que se muestra fuera 2 onzas más pesado, ¿cuánto pesaría?



Si usted tiene 9 bloques que son del mismo peso, ¿cuántos libras en total pesan los bloques?



Si el bloque que se muestra fuera 3 onzas más pesado, ¿cuánto pesaría?



¿Cuál es el peso (en libras) del bloque?

Respuestas

- 1. 9
- 2. 19
- 3. 3
- 4. 5
- 5. 80
- 6. 16
- 7. 27
- 8. 6
- 9. 9