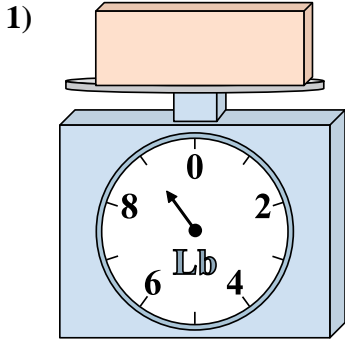


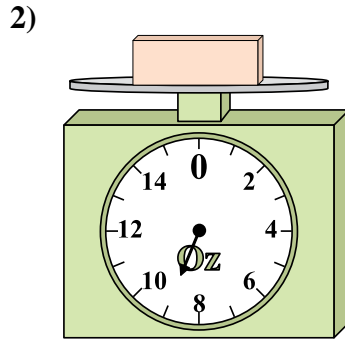


Usar las escalas mostradas para responder a las preguntas.

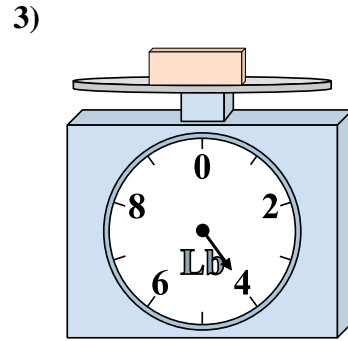
Respuestas



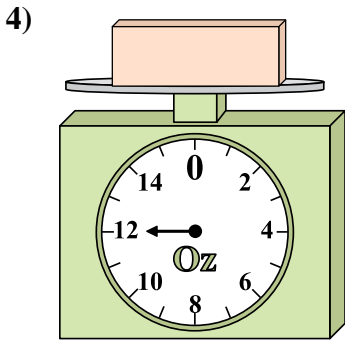
Si el bloque que se muestra fuera 4 libras más ligero, ¿cuánto pesa?



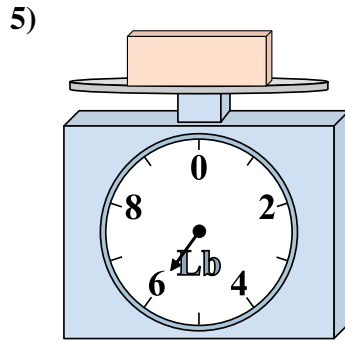
¿Cuál es el peso (en onzas) del bloque?



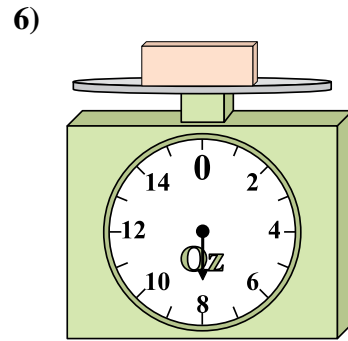
¿Cuál es el peso (en libras) del bloque?



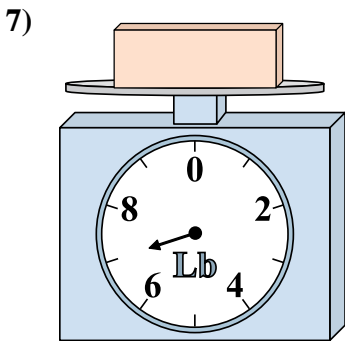
Si usted tiene 2 bloques que son del mismo peso, ¿cuántos onzas en total pesan los bloques?



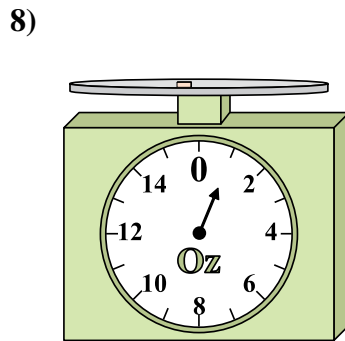
Si el bloque que se muestra fuera 2 libras más ligero, ¿cuánto pesa?



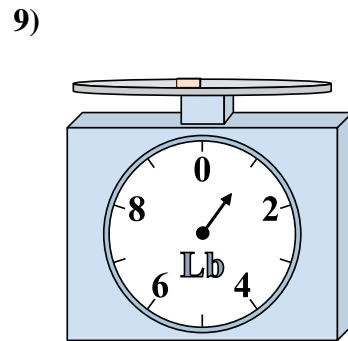
Si usted tiene 5 bloques que son del mismo peso, ¿cuántos onzas en total pesan los bloques?



Si el bloque que se muestra fuera 2 libras más pesado, ¿cuánto pesaría?



Si usted tiene 6 bloques que son del mismo peso, ¿cuántos onzas en total pesan los bloques?

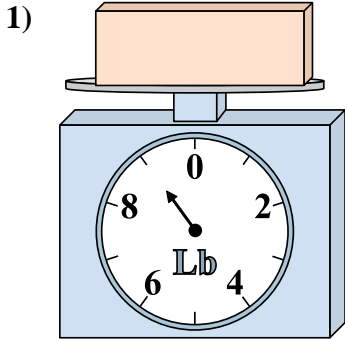


Si el bloque que se muestra fuera 4 libras más pesado, ¿cuánto pesaría?

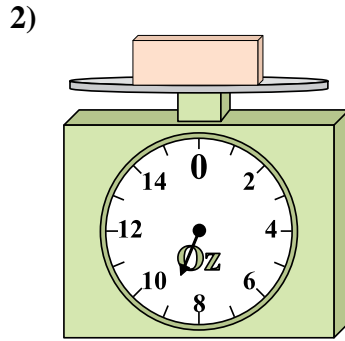
1. _____
2. _____
3. _____
4. _____
5. _____
6. _____
7. _____
8. _____
9. _____



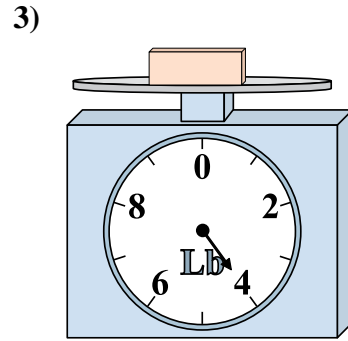
Usar las escalas mostradas para responder a las preguntas.



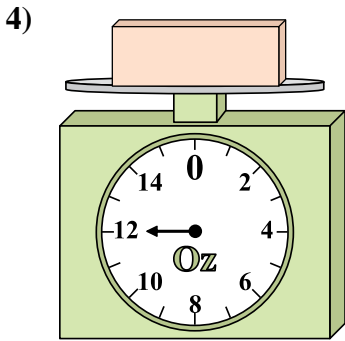
Si el bloque que se muestra fuera 4 libras más ligero, ¿cuánto pesa?



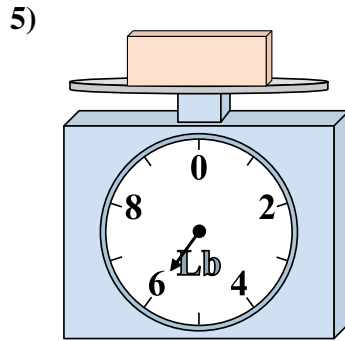
¿Cuál es el peso (en onzas) del bloque?



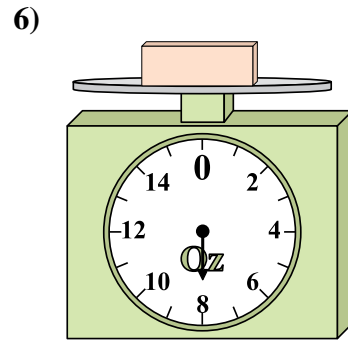
¿Cuál es el peso (en libras) del bloque?



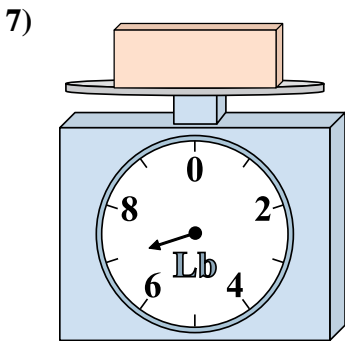
Si usted tiene 2 bloques que son del mismo peso, ¿cuántos onzas en total pesan los bloques?



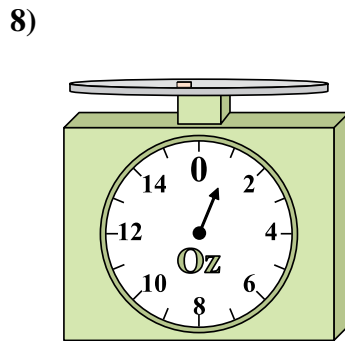
Si el bloque que se muestra fuera 2 libras más ligero, ¿cuánto pesa?



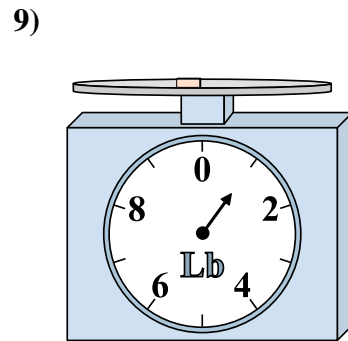
Si usted tiene 5 bloques que son del mismo peso, ¿cuántos onzas en total pesan los bloques?



Si el bloque que se muestra fuera 2 libras más pesado, ¿cuánto pesaría?



Si usted tiene 6 bloques que son del mismo peso, ¿cuántos onzas en total pesan los bloques?



Si el bloque que se muestra fuera 4 libras más pesado, ¿cuánto pesaría?

Respuestas

- 1. 5
- 2. 9
- 3. 4
- 4. 24
- 5. 4
- 6. 40
- 7. 9
- 8. 6
- 9. 5