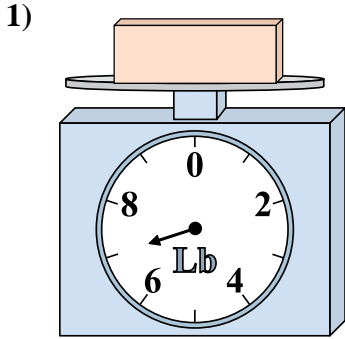


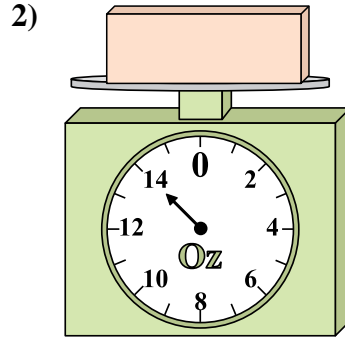


Usar las escalas mostradas para responder a las preguntas.

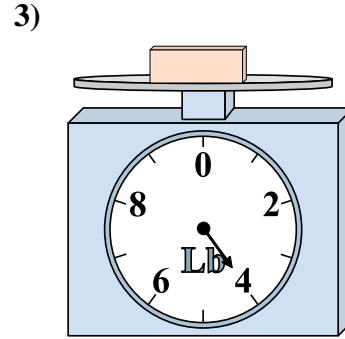
Respuestas



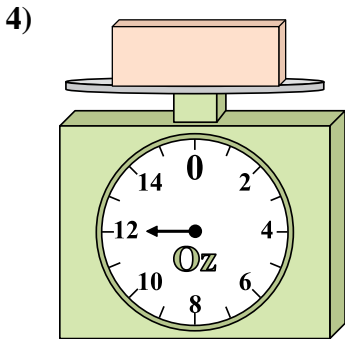
¿Cuál es el peso (en libras) del bloque?



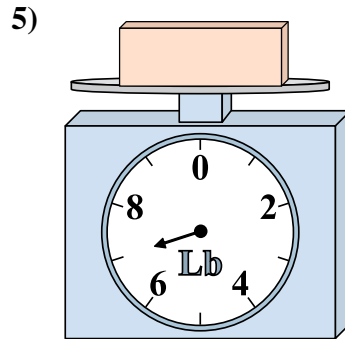
Si el bloque que se muestra fuera 8 onzas más pesado, ¿cuánto pesaría?



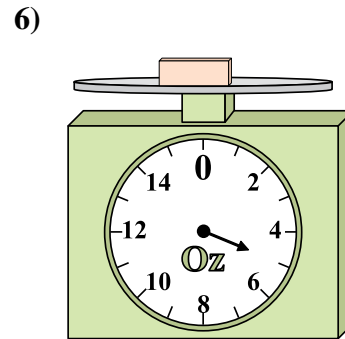
Si usted tiene 2 bloques que son del mismo peso, ¿cuántos libras en total pesan los bloques?



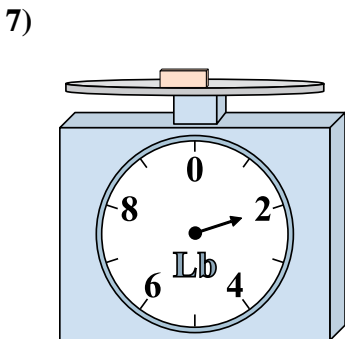
Si usted tiene 8 bloques que son del mismo peso, ¿cuántos onzas en total pesan los bloques?



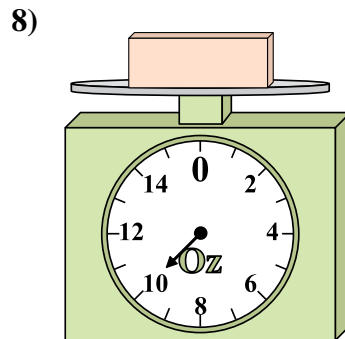
Si el bloque que se muestra fuera 2 libras más pesado, ¿cuánto pesaría?



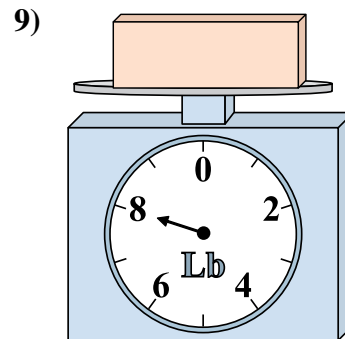
Si el bloque que se muestra fuera 4 onzas más ligero, ¿cuánto pesa?



Si usted tiene 8 bloques que son del mismo peso, ¿cuántos libras en total pesan los bloques?



¿Cuál es el peso (en onzas) del bloque?

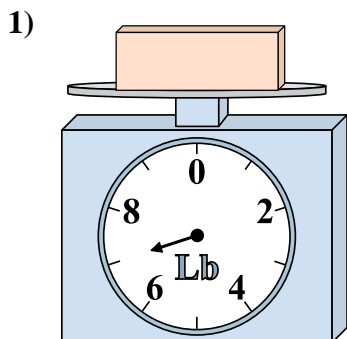


Si el bloque que se muestra fuera 3 libras más ligero, ¿cuánto pesa?

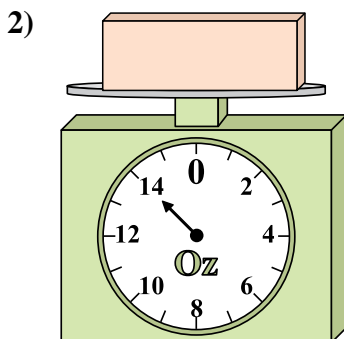
1. _____
2. _____
3. _____
4. _____
5. _____
6. _____
7. _____
8. _____
9. _____



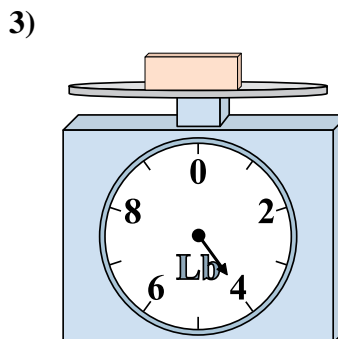
Usar las escalas mostradas para responder a las preguntas.



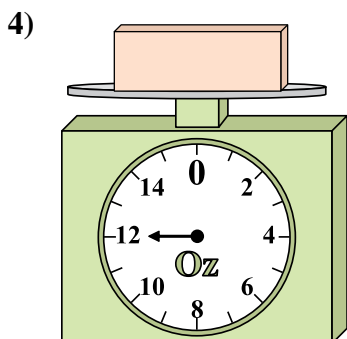
¿Cuál es el peso (en libras) del bloque?



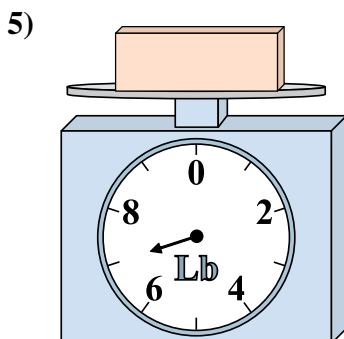
Si el bloque que se muestra fuera 8 onzas más pesado, ¿cuánto pesaría?



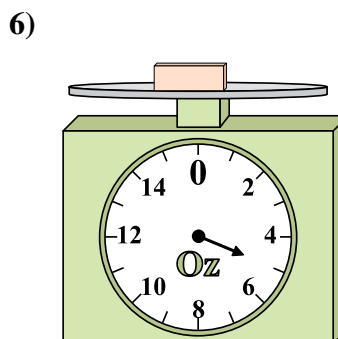
Si usted tiene 2 bloques que son del mismo peso, ¿cuántos libras en total pesan los bloques?



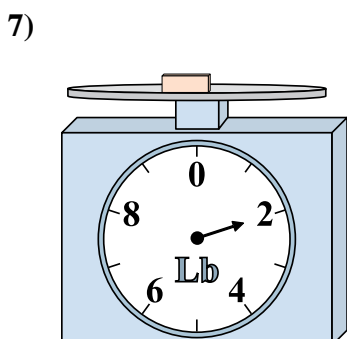
Si usted tiene 8 bloques que son del mismo peso, ¿cuántos onzas en total pesan los bloques?



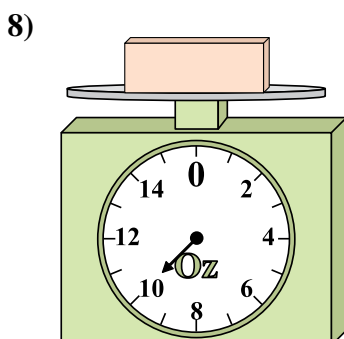
Si el bloque que se muestra fuera 2 libras más pesado, ¿cuánto pesaría?




Si el bloque que se muestra fuera 4 onzas más ligero, ¿cuánto pesa?



Si usted tiene 8 bloques que son del mismo peso, ¿cuántos libras en total pesan los bloques?



¿Cuál es el peso (en onzas) del bloque?



Si el bloque que se muestra fuera 3 libras más ligero, ¿cuánto pesa?

Respuestas

1. 7

2. 22

3. 8

4. 96

5. 9

6. 1

7. 16

8. 10

9. 5