




Usar las escalas mostradas para responder a las preguntas.


Respuestas

1)



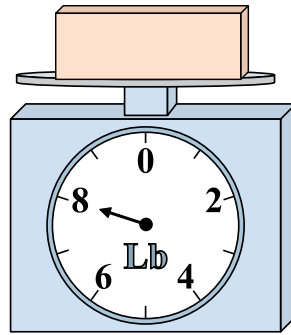
Si usted tiene 3 bloques que son del mismo peso, ¿cuántos libras en total pesan los bloques?

2)



Si el bloque que se muestra fuera 4 onzas más ligero, ¿cuánto pesa?

3)



Si usted tiene 9 bloques que son del mismo peso, ¿cuántos libras en total pesan los bloques?

1. _____

2. _____


3. _____

4. _____

5. _____

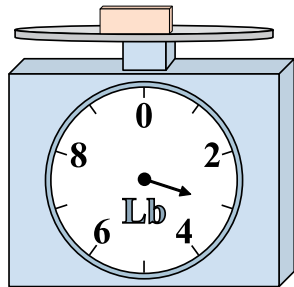
6. _____

4)




Si usted tiene 2 bloques que son del mismo peso, ¿cuántos onzas en total pesan los bloques?

5)



Si el bloque que se muestra fuera 8 libras más pesado, ¿cuánto pesaría?

6)



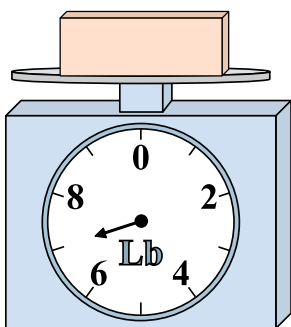
Si el bloque que se muestra fuera 3 onzas más ligero, ¿cuánto pesa?

7. _____

8. _____


9. _____

7)



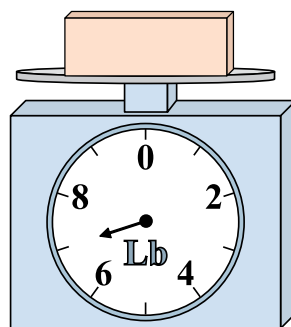
Si el bloque que se muestra fuera 4 libras más pesado, ¿cuánto pesaría?

8)



¿Cuál es el peso (en onzas) del bloque?

9)




¿Cuál es el peso (en libras) del bloque?




Usar las escalas mostradas para responder a las preguntas.

1)



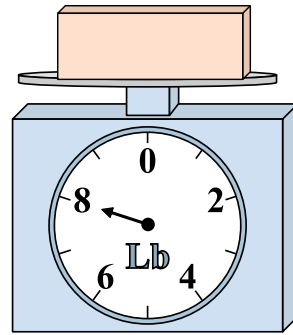
Si usted tiene 3 bloques que son del mismo peso, ¿cuántos libras en total pesan los bloques?

2)




Si el bloque que se muestra fuera 4 onzas más ligero, ¿cuánto pesa?

3)



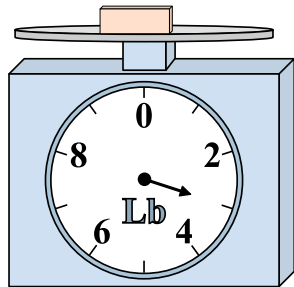
Si usted tiene 9 bloques que son del mismo peso, ¿cuántos libras en total pesan los bloques?

4)




Si usted tiene 2 bloques que son del mismo peso, ¿cuántos onzas en total pesan los bloques?

5)




Si el bloque que se muestra fuera 8 libras más pesado, ¿cuánto pesaría?

6)




Si el bloque que se muestra fuera 3 onzas más ligero, ¿cuánto pesa?

7)



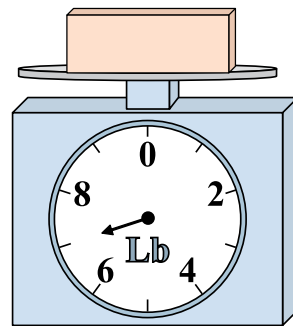
Si el bloque que se muestra fuera 4 libras más pesado, ¿cuánto pesaría?

8)



¿Cuál es el peso (en onzas) del bloque?

9)



¿Cuál es el peso (en libras) del bloque?

Respuestas

1. 6

2. 5

3. 72

4. 26

5. 11

6. 10

7. 11

8. 3

9. 7