



Determina si el ángulo mostrado es 'mayor', 'menor' o 'igual' a 90°.

**Respuestas**

Ej)



1)



2)



Ej. **menor**

3)



4)



5)



6)



7)



8)



9)



10)



11)



12)



13)



14)



15)



16)



17)



18)



19)



20)



- 1. \_\_\_\_\_
- 2. \_\_\_\_\_
- 3. \_\_\_\_\_
- 4. \_\_\_\_\_
- 5. \_\_\_\_\_
- 6. \_\_\_\_\_
- 7. \_\_\_\_\_
- 8. \_\_\_\_\_
- 9. \_\_\_\_\_
- 10. \_\_\_\_\_
- 11. \_\_\_\_\_
- 12. \_\_\_\_\_
- 13. \_\_\_\_\_
- 14. \_\_\_\_\_
- 15. \_\_\_\_\_
- 16. \_\_\_\_\_
- 17. \_\_\_\_\_
- 18. \_\_\_\_\_
- 19. \_\_\_\_\_
- 20. \_\_\_\_\_

1-10	95	90	85	80	75	70	65	60	55	50
11-20	45	40	35	30	25	20	15	10	5	0

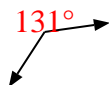


Determina si el ángulo mostrado es 'mayor', 'menor' o 'igual' a  $90^\circ$ .

Ej)



1)



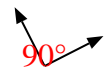
2)



3)



4)



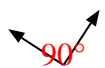
5)



6)



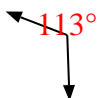
7)



8)



9)



10)



11)



12)



13)



14)



15)



16)



17)



18)



19)



20)



**Respuestas**

Ej. menor

1. mayor

2. mayor

3. menor

4. igual

5. mayor

6. igual

7. igual

8. igual

9. mayor

10. menor

11. igual

12. mayor

13. mayor

14. menor

15. menor

16. igual

17. menor

18. igual

19. mayor

20. igual