



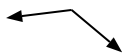
Determina si el ángulo mostrado es 'mayor', 'menor' o 'igual' a 90°.

Respuestas

Ej)



1)



2)



Ej. **igual**

3)



4)



5)



6)



7)



8)



9)



10)



11)



12)



13)



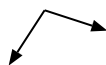
14)



15)



16)



17)



18)



19)



20)



- 1. _____
- 2. _____
- 3. _____
- 4. _____
- 5. _____
- 6. _____
- 7. _____
- 8. _____
- 9. _____
- 10. _____
- 11. _____
- 12. _____
- 13. _____
- 14. _____
- 15. _____
- 16. _____
- 17. _____
- 18. _____
- 19. _____
- 20. _____

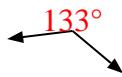


Determina si el ángulo mostrado es 'mayor', 'menor' o 'igual' a 90° .

Ej)



1)



2)



3)



4)



5)



6)



7)



8)



9)



10)



11)




12)



13)



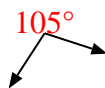
14)



15)



16)



17)



18)



19)



20)



Respuestas

Ej. igual

1. mayor

2. igual

3. menor

4. igual

5. menor

6. menor

7. mayor

8. menor

9. menor

10. menor

11. igual

12. mayor

13. igual

14. mayor

15. igual

16. mayor

17. igual

18. menor

19. igual

20. menor