



Determina si el ángulo mostrado es 'mayor', 'menor' o 'igual' a 90°.

Respuestas

Ej)



1)



2)



Ej. **igual**

1. _____

2. _____

3)



4)



5)



3. _____

4. _____

5. _____

6)



7)



8)



6. _____

7. _____

8. _____

9)



10)



11)

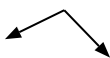


9. _____

10. _____

11. _____

12)



13)



14)



12. _____

13. _____

14. _____

15)



16)



17)



15. _____

16. _____

17. _____

18)



19)



20)



18. _____




19. _____




20. _____









Determina si el ángulo mostrado es 'mayor', 'menor' o 'igual' a 90° .




Respuestas




Ej)  1)  2) 




3)  4)  5) 

6)  7)  8) 

9)  10)  11) 

12)  13)  14) 

15)  16)  17) 

18)  19)  20) 

- Ej. igual
1. mayor
2. menor
3. menor
4. mayor
5. mayor
6. mayor
7. igual
8. menor
9. menor
10. menor
11. igual
12. mayor
13. menor
14. menor
15. igual
16. mayor
17. mayor
18. igual
19. igual
20. igual

1-10	95	90	85	80	75	70	65	60	55	50
11-20	45	40	35	30	25	20	15	10	5	0



Determina si el ángulo mostrado es 'mayor', 'menor' o 'igual' a 90°.

Respuestas

Ej)



1)



2)



Ej. menor

1. _____

2. _____

3)



4)



5)



3. _____

4. _____

5. _____

6)



7)



8)

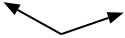


6. _____

7. _____

8. _____

9)



10)



11)



9. _____

10. _____

11. _____

12)



13)



14)



12. _____

13. _____

14. _____

15)



16)



17)



15. _____

16. _____

17. _____

18)



19)



20)



18. _____

19. _____

20. _____



Determina si el ángulo mostrado es 'mayor', 'menor' o 'igual' a 90° .

Ej)



1)



2)



3)



4)



5)



6)



7)



8)



9)



10)



11)



12)



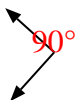
13)



14)



15)



16)



17)



18)



19)



20)



Respuestas

Ej. **menor**

1. **igual**

2. **menor**

3. **menor**

4. **menor**

5. **menor**

6. **menor**

7. **igual**

8. **mayor**

9. **mayor**

10. **menor**

11. **igual**

12. **igual**

13. **mayor**

14. **menor**

15. **igual**

16. **igual**

17. **mayor**

18. **mayor**

19. **igual**

20. **mayor**



Determina si el ángulo mostrado es 'mayor', 'menor' o 'igual' a 90°.

Respuestas

Ej)



1)



2)



Ej. **menor**

3)



4)



5)



6)



7)



8)



9)



10)



11)



12)



13)



14)



15)



16)



17)



18)



19)



20)



1. _____

2. _____

3. _____

4. _____

5. _____

6. _____

7. _____

8. _____

9. _____

10. _____

11. _____

12. _____

13. _____

14. _____

15. _____

16. _____

17. _____

18. _____

19. _____

20. _____

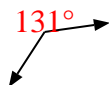


Determina si el ángulo mostrado es 'mayor', 'menor' o 'igual' a 90° .

Ej)



1)



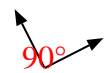
2)



3)



4)



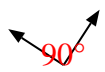
5)



6)



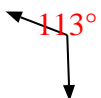
7)



8)



9)



10)



11)



12)



13)



14)



15)



16)



17)



18)



19)



20)



Respuestas

Ej. menor

1. mayor

2. mayor

3. menor

4. igual

5. mayor

6. igual

7. igual

8. igual

9. mayor

10. menor

11. igual

12. mayor

13. mayor

14. menor

15. menor

16. igual

17. menor

18. igual

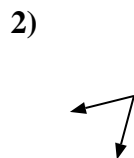
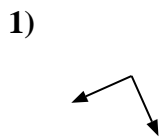
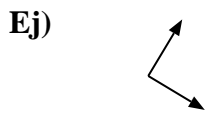
19. mayor

20. igual

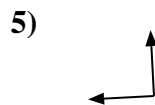


Determina si el ángulo mostrado es 'mayor', 'menor' o 'igual' a 90°.

Respuestas



Ej. **igual**



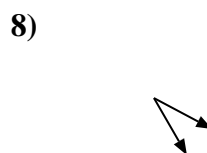
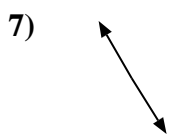
1. _____

2. _____

3. _____

4. _____

5. _____



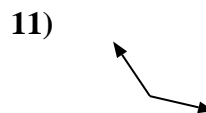
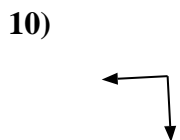
6. _____

7. _____

8. _____

9. _____

10. _____



11. _____

12. _____

13. _____

14. _____

15. _____

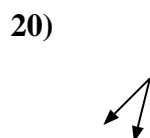
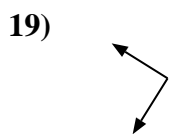
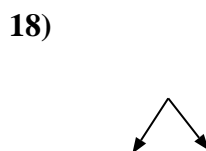
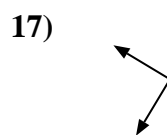
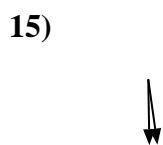
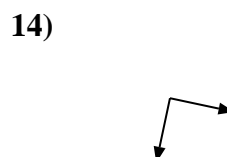
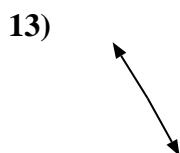
16. _____

17. _____

18. _____

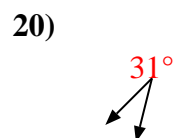
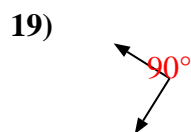
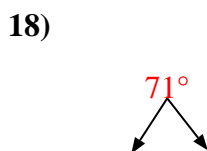
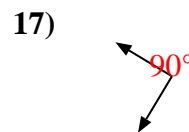
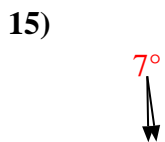
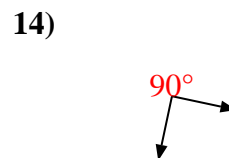
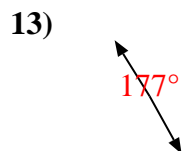
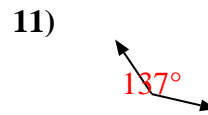
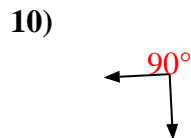
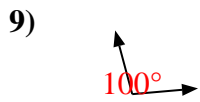
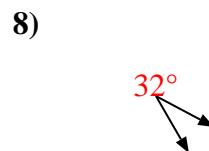
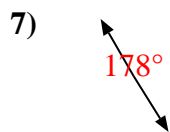
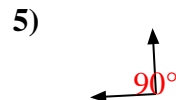
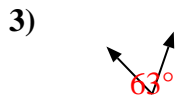
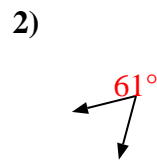
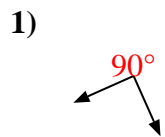
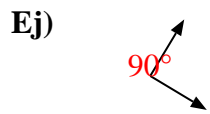
19. _____

20. _____





Determina si el ángulo mostrado es 'mayor', 'menor' o 'igual' a 90° .



Respuestas

Ej. igual

1. igual

2. menor

3. menor

4. igual

5. igual

6. mayor

7. mayor

8. menor

9. mayor

10. igual

11. mayor

12. menor

13. mayor

14. igual

15. menor

16. mayor

17. igual

18. menor

19. igual

20. menor



Determina si el ángulo mostrado es 'mayor', 'menor' o 'igual' a 90°.

Respuestas

Ej)



1)



2)



Ej. **menor**

1. _____

2. _____

3)



4)



5)

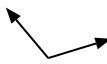


3. _____

4. _____

5. _____

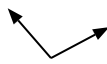
6)



7)



8)



6. _____

7. _____

8. _____

9)



10)



11)



9. _____

10. _____

11. _____

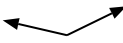
12)



13)



14)



12. _____

13. _____

14. _____

15)



16)



17)



15. _____

16. _____

18)



19)



20)



18. _____

19. _____

20. _____



Determina si el ángulo mostrado es 'mayor', 'menor' o 'igual' a 90° .

Ej)



1)



2)



3)



4)



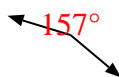
5)



6)



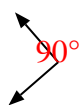
7)



8)



9)



10)



11)



12)



13)



14)



15)



16)



17)



18)



19)



20)



Respuestas

Ej. **menor**

1. **menor**

2. **menor**

3. **mayor**

4. **igual**

5. **menor**

6. **mayor**

7. **mayor**

8. **mayor**

9. **igual**

10. **menor**

11. **menor**

12. **mayor**

13. **igual**

14. **mayor**

15. **igual**

16. **igual**

17. **mayor**

18. **igual**

19. **igual**

20. **menor**



Determina si el ángulo mostrado es 'mayor', 'menor' o 'igual' a 90°.

Ej)



1)



2)



3)



4)



5)



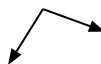
6)



7)



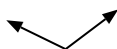
8)



9)



10)



11)



12)



13)



14)



15)



16)



17)



18)



19)



20)



Respuestas

Ej. menor

1. _____

2. _____

3. _____

4. _____

5. _____

6. _____

7. _____

8. _____

9. _____

10. _____

11. _____

12. _____

13. _____

14. _____

15. _____

16. _____

17. _____

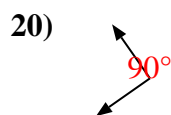
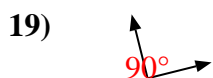
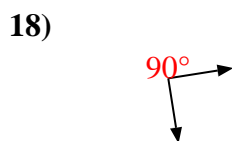
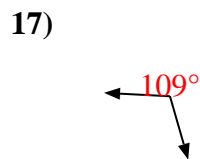
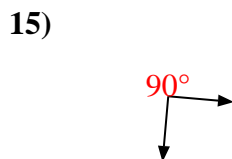
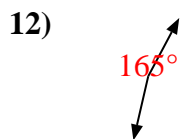
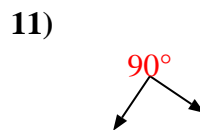
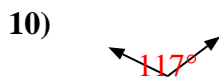
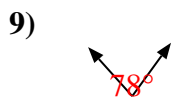
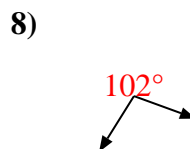
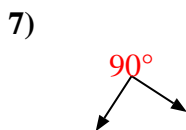
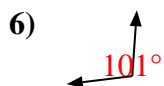
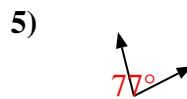
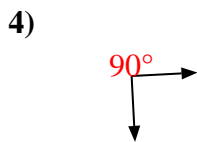
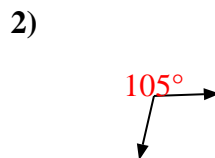
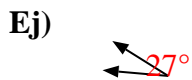
18. _____

19. _____

20. _____



Determina si el ángulo mostrado es 'mayor', 'menor' o 'igual' a 90° .



Respuestas

Ej. menor

1. igual

2. mayor

3. menor

4. igual

5. menor

6. mayor

7. igual

8. mayor

9. menor

10. mayor

11. igual

12. mayor

13. menor

14. menor

15. igual

16. mayor

17. mayor

18. igual

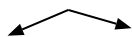
19. igual

20. igual



Determina si el ángulo mostrado es 'mayor', 'menor' o 'igual' a 90°.

Ej)



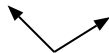
1)



2)



3)



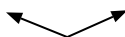
4)



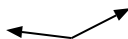
5)



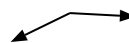
6)



7)



8)



9)



10)



11)



12)



13)



14)



15)



16)



17)



18)



19)



20)



Respuestas

Ej. mayor

1. _____

2. _____

3. _____

4. _____

5. _____

6. _____

7. _____

8. _____

9. _____

10. _____

11. _____

12. _____

13. _____

14. _____

15. _____

16. _____

17. _____

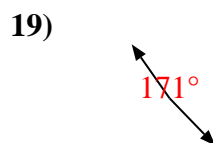
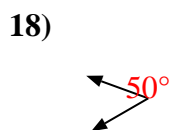
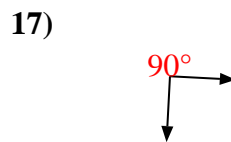
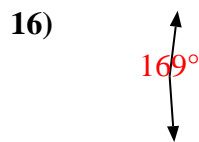
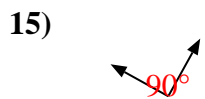
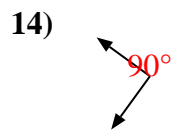
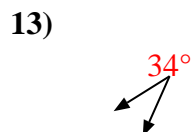
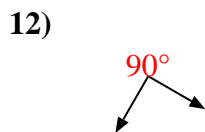

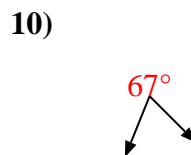
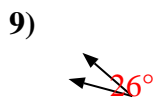
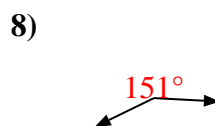
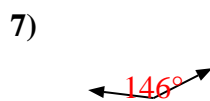
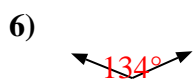
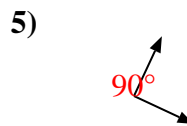
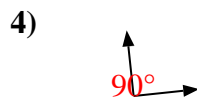

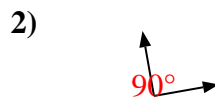
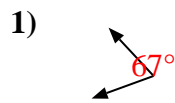
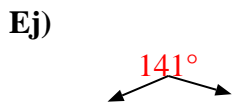
18. _____

19. _____

20. _____



Determina si el ángulo mostrado es 'mayor', 'menor' o 'igual' a 90° .



Respuestas

Ej. mayor

1. menor

2. igual

3. mayor

4. igual

5. igual

6. mayor

7. mayor

8. mayor

9. menor

10. menor

11. menor

12. igual

13. menor

14. igual

15. igual

16. mayor

17. igual

18. menor

19. mayor

20. menor



Determina si el ángulo mostrado es 'mayor', 'menor' o 'igual' a 90°.

Respuestas

Ej)



1)



2)



Ej. **igual**

3)



4)



5)



6)



7)



8)



9)



10)



11)



12)



13)



14)



15)



16)



17)



18)



19)



20)



1. _____

2. _____

3. _____

4. _____

5. _____

6. _____

7. _____

8. _____

9. _____

10. _____

11. _____

12. _____

13. _____

14. _____

15. _____

16. _____

17. _____

18. _____

19. _____

20. _____



Determina si el ángulo mostrado es 'mayor', 'menor' o 'igual' a 90° .

Ej)



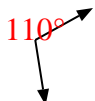
1)



2)



3)



4)



5)



6)



7)



8)



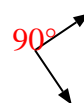
9)



10)



11)



12)



13)



14)



15)



16)



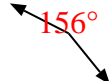
17)



18)



19)



20)



Respuestas

Ej. igual

1. mayor

2. menor

3. mayor

4. menor

5. menor

6. mayor

7. igual

8. mayor

9. igual

10. menor

11. igual

12. menor

13. menor

14. mayor

15. menor

16. igual

17. igual

18. menor

19. mayor

20. igual

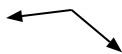


Determina si el ángulo mostrado es 'mayor', 'menor' o 'igual' a 90°.

Ej)



1)



2)



Respuestas

Ej. **igual**

3)



4)



5)



6)



7)



8)



9)



10)



11)



12)



13)



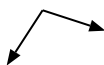
14)



15)



16)



17)



18)



19)



20)



- 1. _____
- 2. _____
- 3. _____
- 4. _____
- 5. _____
- 6. _____
- 7. _____
- 8. _____
- 9. _____
- 10. _____
- 11. _____
- 12. _____
- 13. _____
- 14. _____
- 15. _____
- 16. _____
- 17. _____
- 18. _____
- 19. _____
- 20. _____

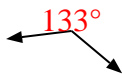


Determina si el ángulo mostrado es 'mayor', 'menor' o 'igual' a 90° .

Ej)



1)



2)



3)



4)



5)



6)



7)



8)



9)



10)



11)



12)



13)



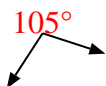
14)



15)



16)



17)



18)



19)



20)



Respuestas

Ej. igual

1. mayor

2. igual

3. menor

4. igual

5. menor

6. menor

7. mayor

8. menor

9. menor

10. menor

11. igual

12. mayor

13. igual

14. mayor

15. igual

16. mayor

17. igual

18. menor

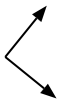
19. igual

20. menor



Determina si el ángulo mostrado es 'mayor', 'menor' o 'igual' a 90°.

Ej)



1)



2)



Respuestas

Ej. **igual**

- 1. _____
- 2. _____
- 3. _____
- 4. _____
- 5. _____
- 6. _____
- 7. _____
- 8. _____
- 9. _____
- 10. _____
- 11. _____
- 12. _____
- 13. _____
- 14. _____
- 15. _____
- 16. _____
- 17. _____
- 18. _____
- 19. _____
- 20. _____

3)



4)



5)



6)



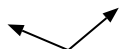
7)



8)



9)



10)



11)



12)



13)



14)



15)



16)



17)



18)



19)



20)





Determina si el ángulo mostrado es 'mayor', 'menor' o 'igual' a 90° .

Ej)



1)



2)



3)



4)



5)



6)



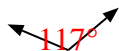
7)



8)



9)



10)



11)



12)



13)



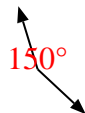
14)



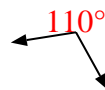
15)



16)



17)



18)



19)



20)



Respuestas

Ej. igual

1. igual

2. menor

3. menor

4. mayor

5. mayor

6. menor

7. menor

8. menor

9. mayor

10. igual

11. mayor

12. menor

13. igual

14. igual

15. igual

16. mayor

17. mayor

18. menor

19. igual

20. menor