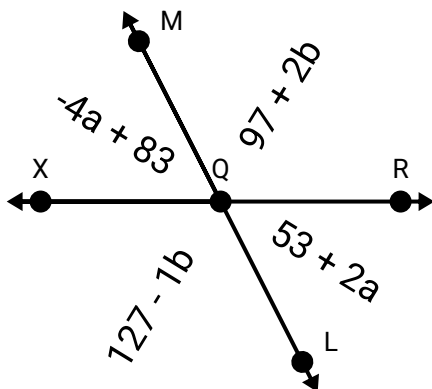




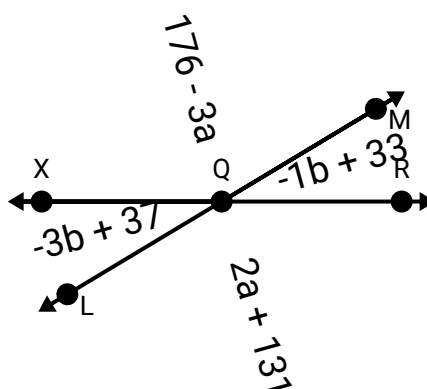
Encuentra el valor de la variable equilibrando las ecuaciones Nombre: \_\_\_\_\_

Encuentra el valor de 'a' y 'b'. El ángulo XQR es de  $180^\circ$ .

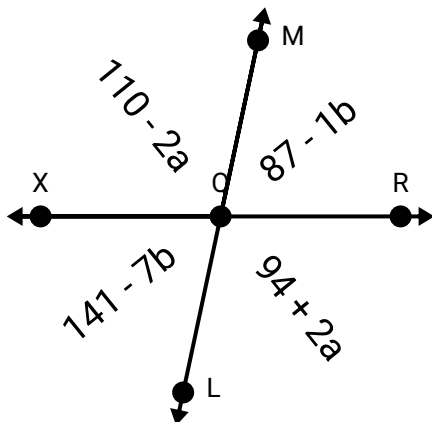
1)



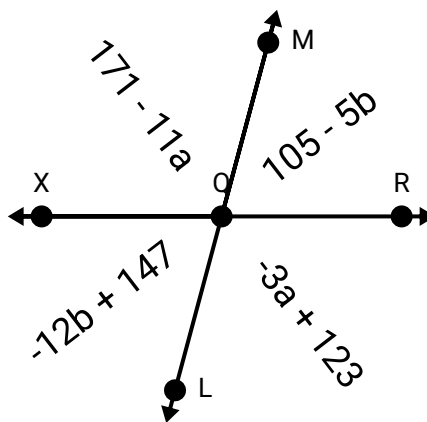
2)



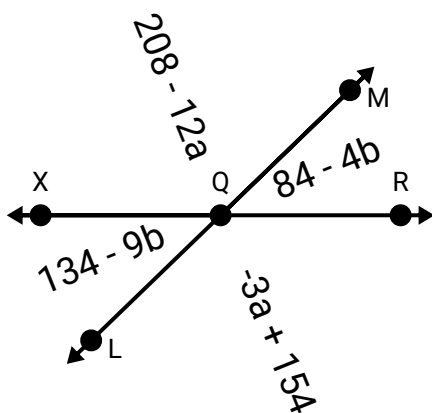
3)



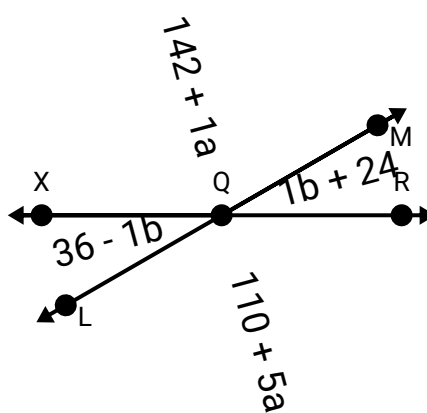
4)



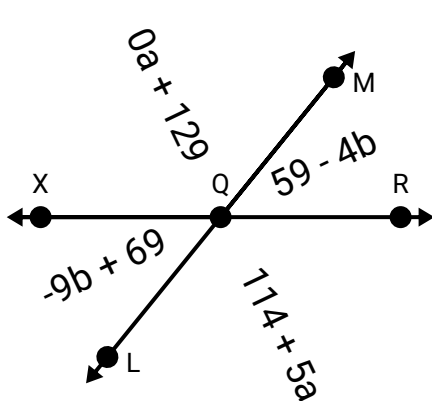
5)



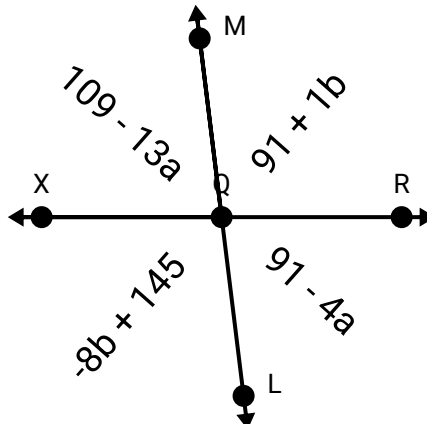
6)



7)



8)



## Respuestas

1. \_\_\_\_\_
2. \_\_\_\_\_
3. \_\_\_\_\_
4. \_\_\_\_\_
5. \_\_\_\_\_
6. \_\_\_\_\_
7. \_\_\_\_\_
8. \_\_\_\_\_

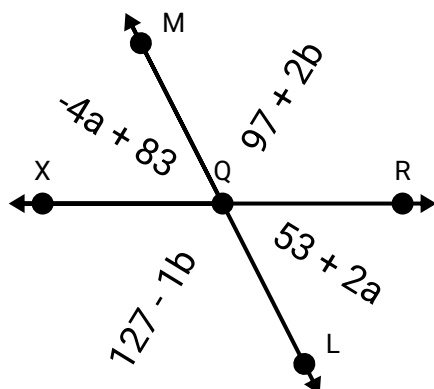


Encuentra el valor de la variable equilibrando las ecuaciones

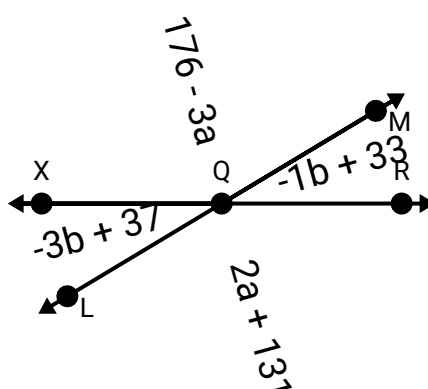
Nombre: **Clave De Respuestas**

Encuentra el valor de 'a' y 'b'. El ángulo XQR es de  $180^\circ$ .

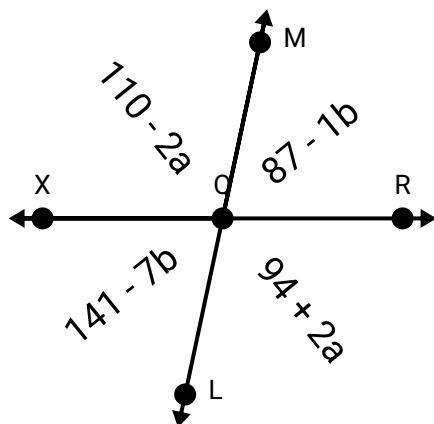
1)



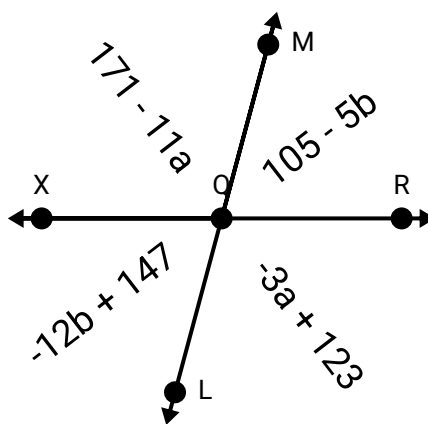
2)



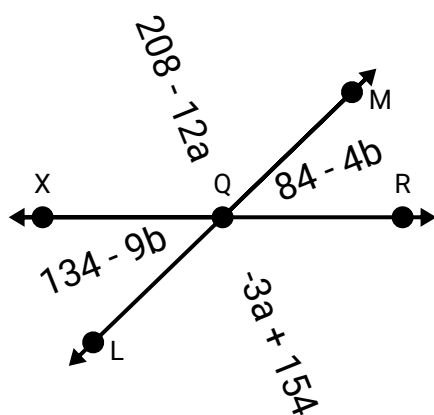
3)



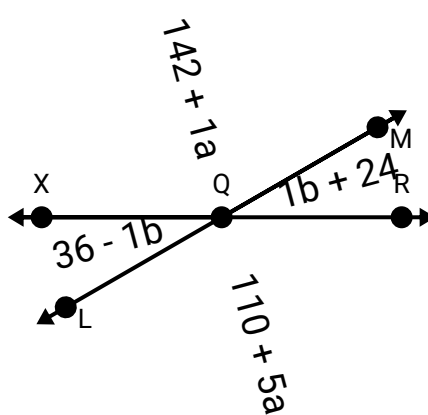
4)



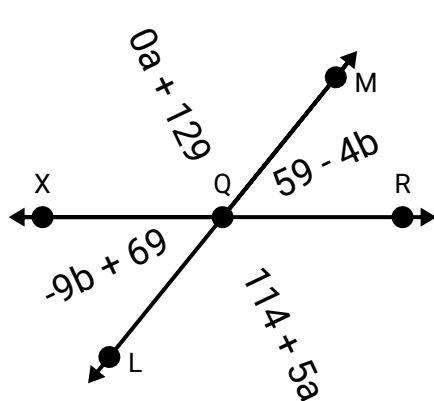
5)



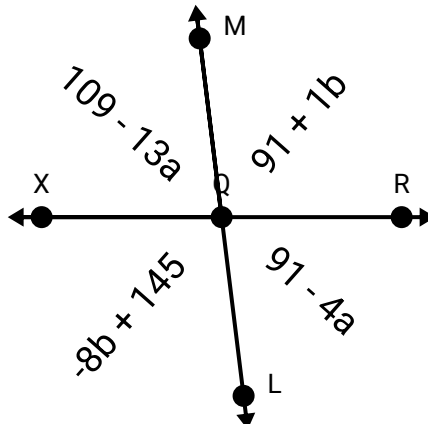
6)



7)



8)



## Respuestas

1.	<b>5</b>	<b>10</b>
2.	<b>9</b>	<b>2</b>
3.	<b>4</b>	<b>9</b>
4.	<b>6</b>	<b>6</b>
5.	<b>6</b>	<b>10</b>
6.	<b>8</b>	<b>6</b>
7.	<b>3</b>	<b>2</b>
8.	<b>2</b>	<b>6</b>