

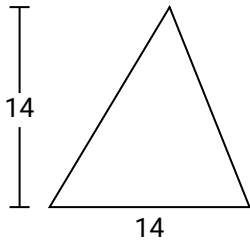


Encuentra el área de los triángulos.

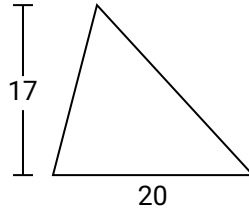
Nombre: _____

Encuentra el área de cada triángulo. Redondea tu respuesta a la décima más cercana.

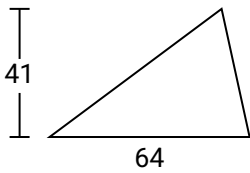
1)



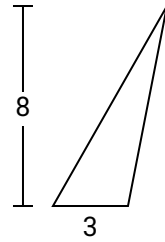
2)



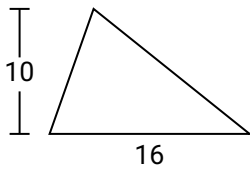
3)



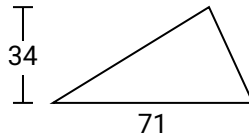
4)



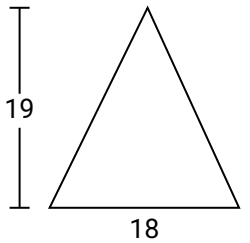
5)



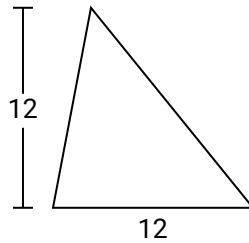
6)



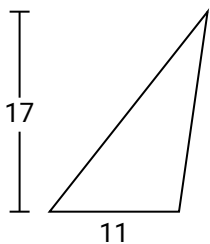
7)



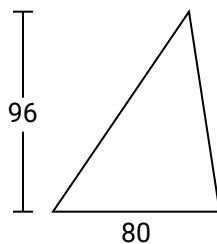
8)



9)



10)



Respuestas

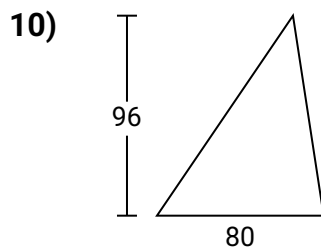
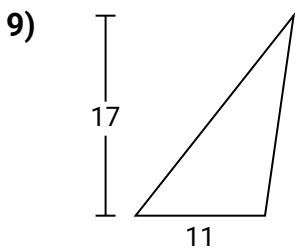
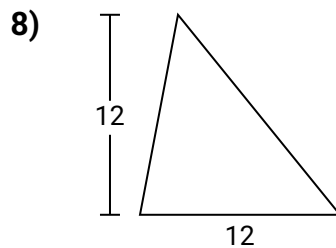
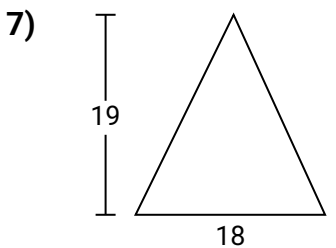
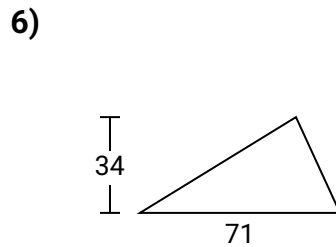
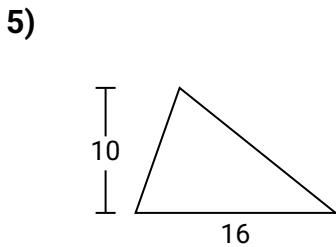
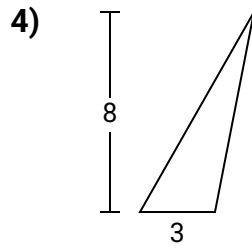
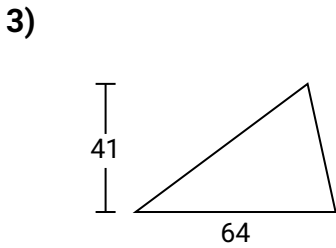
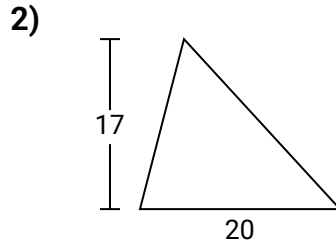
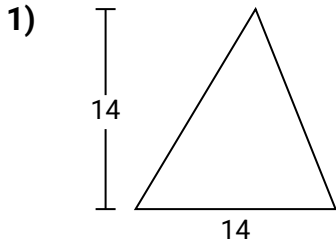
1. _____
2. _____
3. _____
4. _____
5. _____
6. _____
7. _____
8. _____
9. _____
10. _____



Encuentra el área de los triángulos.

Nombre: **Clave De Respuestas**

Encuentra el área de cada triángulo. Redondea tu respuesta a la décima más cercana.



Respuestas

1. 98
2. 170
3. 1,312
4. 12
5. 80
6. 1,207
7. 171
8. 72
9. 93.5
10. 3,840



Encuentra el área de los triángulos.

Nombre: _____

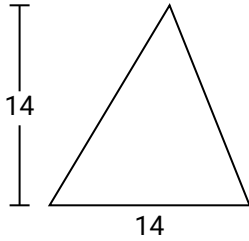
Encuentra el área de cada triángulo. Redondea tu respuesta a la décima más cercana.

93.5
1,312
12

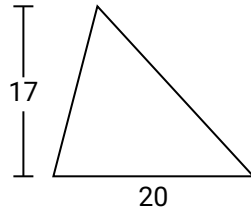
72
171
1,207

98
80
170

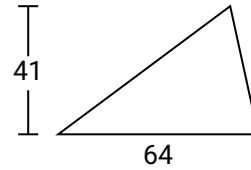
1)



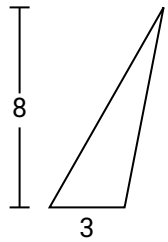
2)



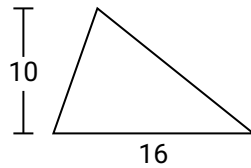
3)



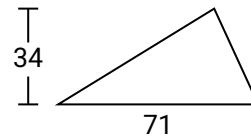
4)



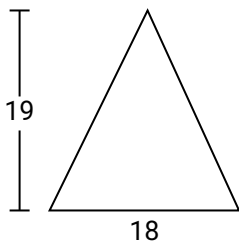
5)



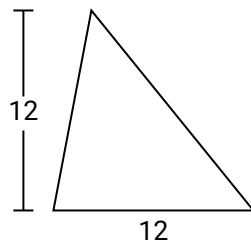
6)



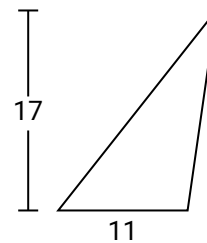
7)



8)



9)



Respuestas

1. _____
2. _____
3. _____
4. _____
5. _____
6. _____
7. _____
8. _____
9. _____
10. _____