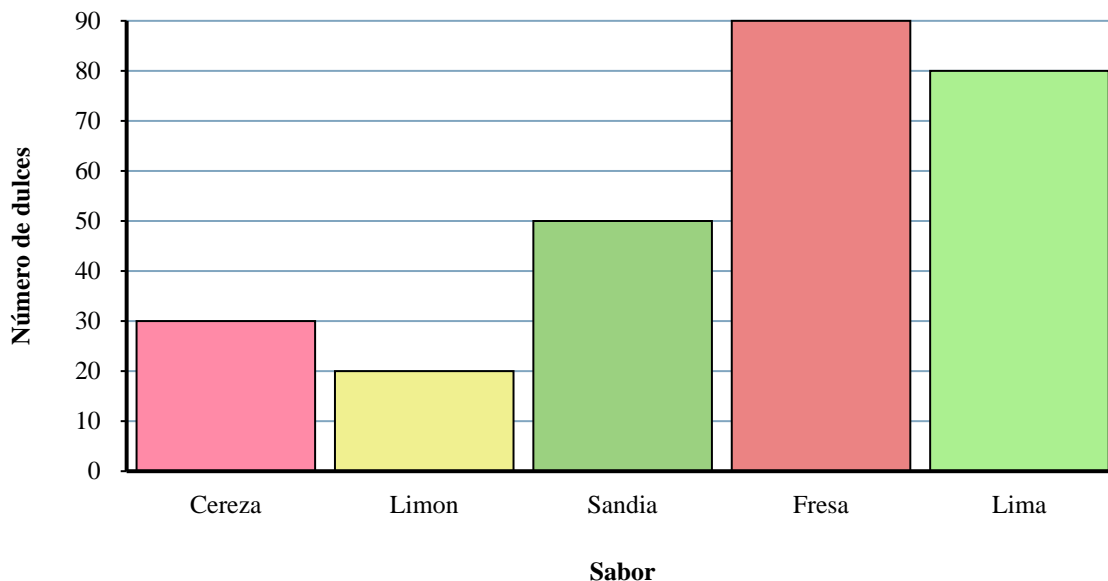




Resuelve cada problema.

Bolsa de dulces



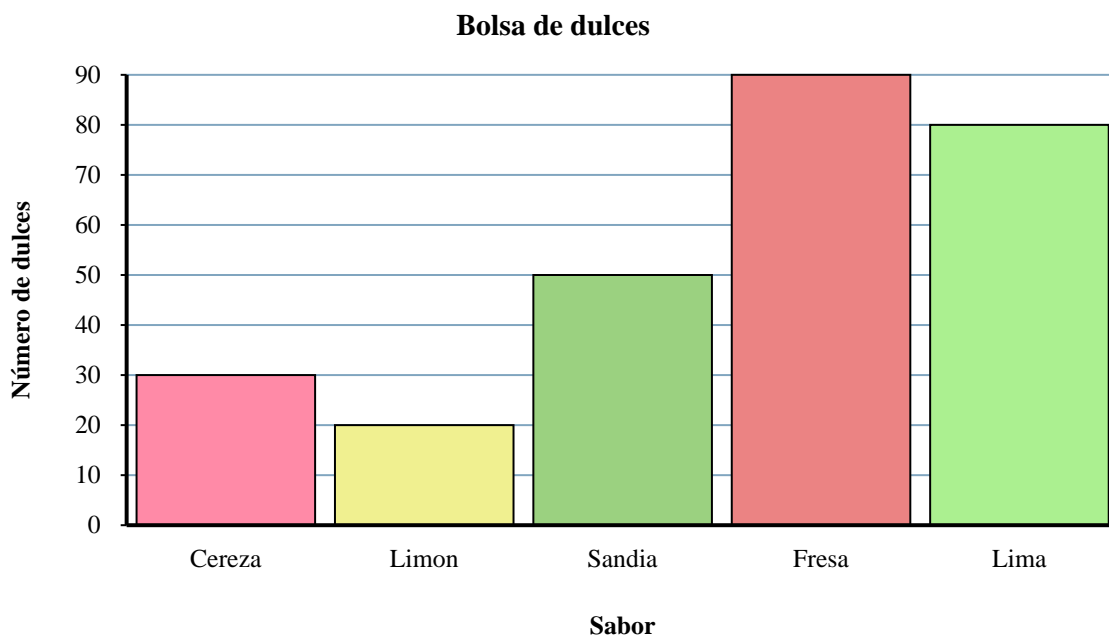
Respuestas

1. _____
2. _____
3. _____
4. _____
5. _____
6. _____
7. _____
8. _____
9. _____
10. _____

- 1) ¿Cuántos dulces más de Lima habían que de Limon?
- 2) ¿Cuál es el número total de dulces de Cereza y Sandia?
- 3) ¿Cuántas dulces hay en total en la bolsa?
- 4) ¿Qué sabor tiene el menor número de dulces en la bolsa?
- 5) ¿Hubo menos dulces Fresa o dulces Lima?
- 6) ¿Qué sabor tenía exactamente 80 dulces en la bolsa?
- 7) ¿Hubo más dulces Sandia o dulces Lima?
- 8) ¿Cuántos dulces menos de Limon habían que de Fresa?
- 9) ¿Cuántos dulces eran de Sandia?
- 10) ¿Cuál es la diferencia en el número de dulces de Lima y el número de piezas Cereza?



Resuelve cada problema.



Respuestas

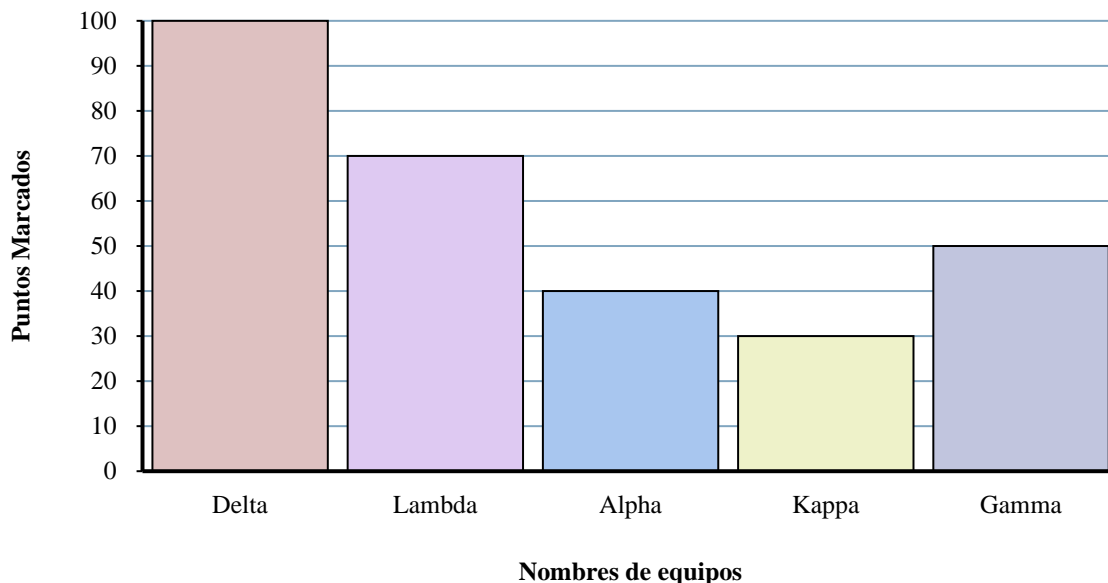
- 1) ¿Cuántos dulces más de Lima habían que de Limon?
- 2) ¿Cuál es el número total de dulces de Cereza y Sandia?
- 3) ¿Cuántas dulces hay en total en la bolsa?
- 4) ¿Qué sabor tiene el menor número de dulces en la bolsa?
- 5) ¿Hubo menos dulces Fresa o dulces Lima?
- 6) ¿Qué sabor tenía exactamente 80 dulces en la bolsa?
- 7) ¿Hubo más dulces Sandia o dulces Lima?
- 8) ¿Cuántos dulces menos de Limon habían que de Fresa?
- 9) ¿Cuántos dulces eran de Sandia?
- 10) ¿Cuál es la diferencia en el número de dulces de Lima y el número de piezas Cereza?

1. 60
2. 80
3. 270
4. Limon
5. Lima
6. Lima
7. Lima
8. 70
9. 50
10. 50



Resuelve cada problema.

Resultados Trivia



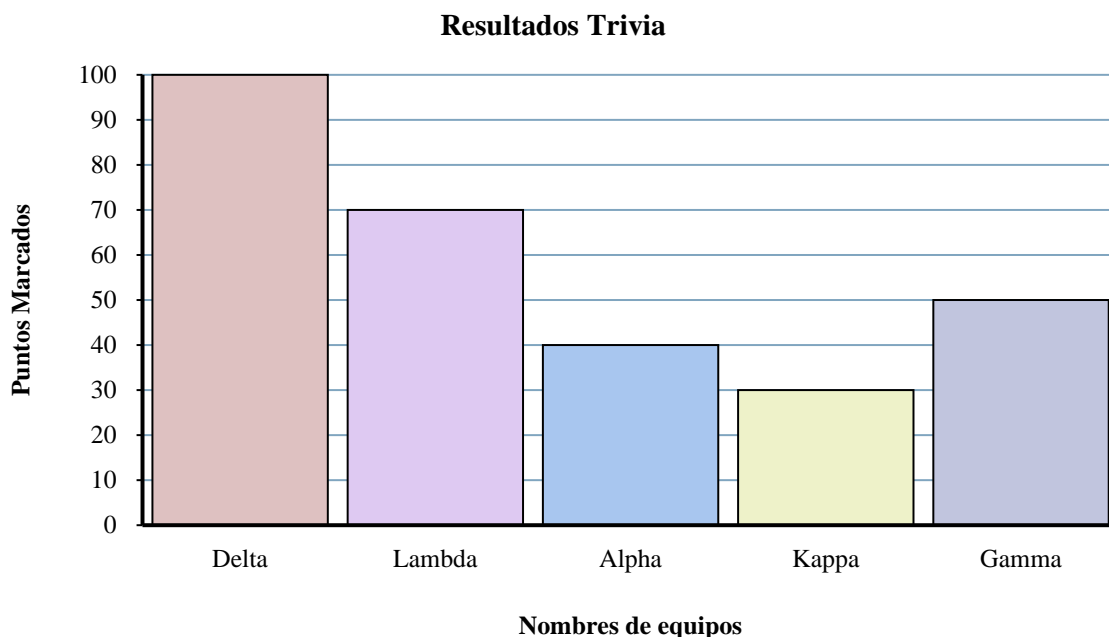
Respuestas

1. _____
2. _____
3. _____
4. _____
5. _____
6. _____
7. _____
8. _____
9. _____
10. _____

- 1) ¿Qué equipo anotó más puntos?
- 2) ¿Qué equipo anotó menos puntos?
- 3) ¿El equipo Alpha o el equipo Gamma anotaron menos puntos?
- 4) ¿Cuál es el número total de puntos obtenidos en el juego?
- 5) ¿El equipo Kappa o equipo Alpha anotaron más puntos?
- 6) ¿Cuántos puntos hizo el equipo Kappa?
- 7) ¿Cual es el puntaje total marcado por Delta y Alpha?
- 8) ¿Cuántos puntos menos hizo equipo Lambda que equipo Delta?
- 9) ¿Qué equipo anotó 70 puntos?
- 10) ¿Cuál es la diferencia en el número de puntos que Delta anotó y el número que Gamma anotó?



Resuelve cada problema.



- 1) ¿Qué equipo anotó más puntos?
- 2) ¿Qué equipo anotó menos puntos?
- 3) ¿El equipo Alpha o el equipo Gamma anotaron menos puntos?
- 4) ¿Cuál es el número total de puntos obtenidos en el juego?
- 5) ¿El equipo Kappa o equipo Alpha anotaron más puntos?
- 6) ¿Cuántos puntos hizo el equipo Kappa?
- 7) ¿Cual es el puntaje total marcado por Delta y Alpha?
- 8) ¿Cuántos puntos menos hizo equipo Lambda que equipo Delta?
- 9) ¿Qué equipo anotó 70 puntos?
- 10) ¿Cuál es la diferencia en el número de puntos que Delta anotó y el número que Gamma anotó?

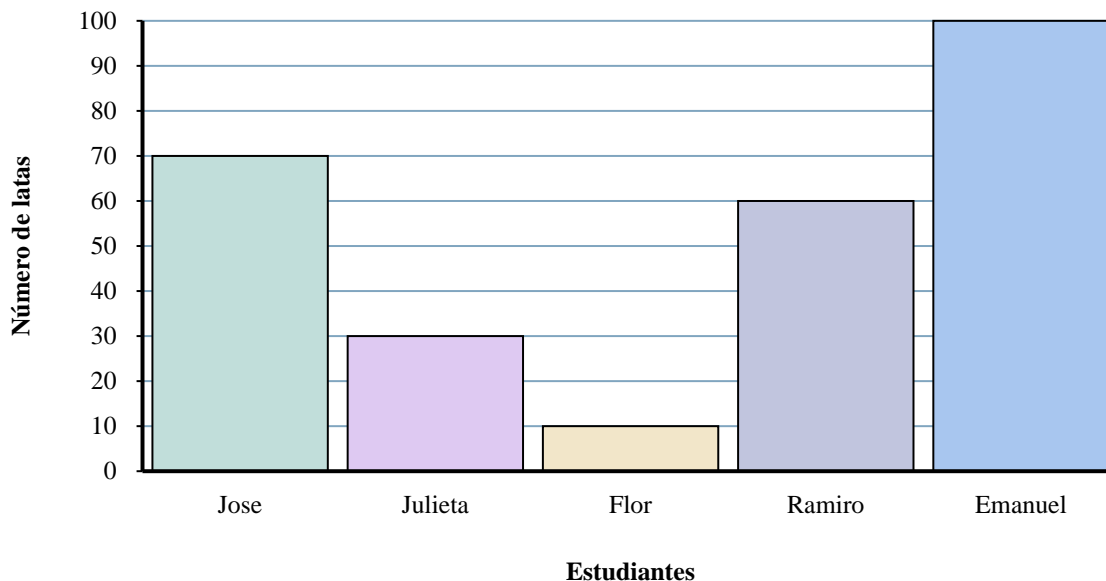
Respuestas

1. **Delta**
2. **Kappa**
3. **Alpha**
4. **290**
5. **Alpha**
6. **30**
7. **140**
8. **30**
9. **Lambda**
10. **50**



Resuelve cada problema.

Latas recolectadas



Respuestas

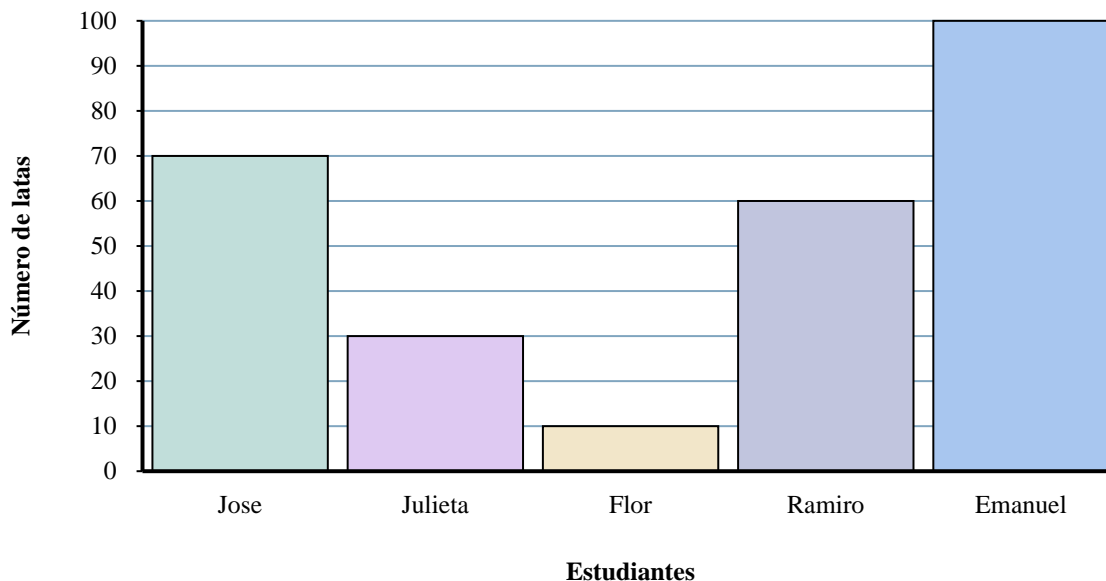
1. _____
2. _____
3. _____
4. _____
5. _____
6. _____
7. _____
8. _____
9. _____
10. _____

- 1) ¿Quién recogió más latas?
- 2) ¿Cuál es la cantidad combinada de latas Ramiro recolectó y la cantidad recolectadas por Emanuel?
- 3) ¿Quién recogió exactamente 10 latas?
- 4) ¿Cuántas latas menos recolectó Jose que Emanuel?
- 5) ¿Cuántas latas más recolectó Ramiro que Flor?
- 6) ¿Cuántas latas recogió Emanuel?
- 7) ¿Quién recogió la menor cantidad de latas?
- 8) ¿Cuál es la diferencia en la cantidad de latas Emanuel recolectó y la cantidad recolectadas por Flor ?
- 9) ¿Cuántas latas en total recolectaron todos los estudiantes?
- 10) ¿Quién recogió menos latas? ¿Jose o Flor?



Resuelve cada problema.

Latas recolectadas



Respuestas

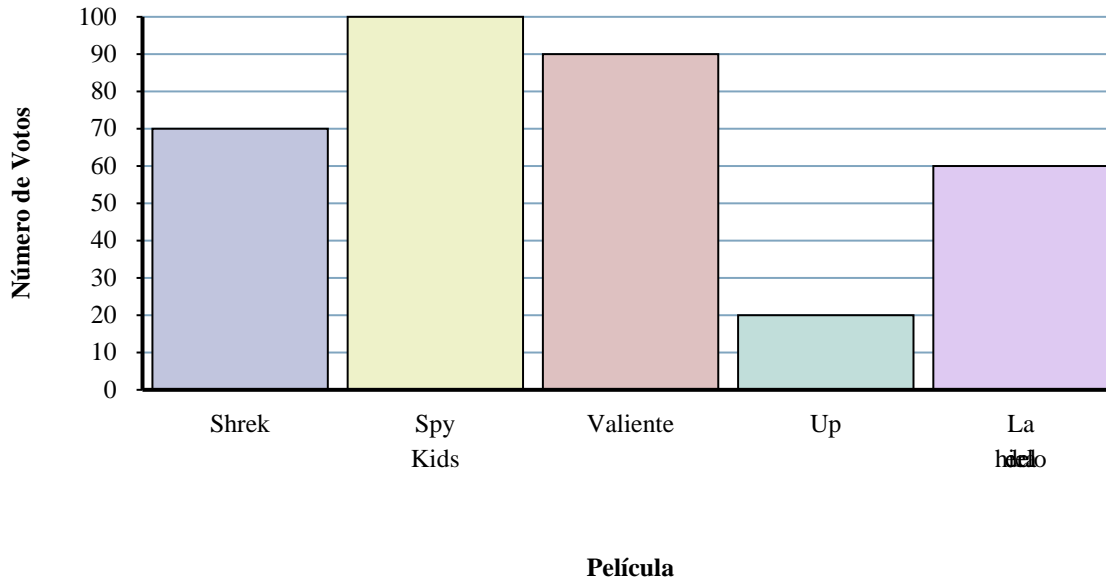
- 1) ¿Quién recogió más latas?
- 2) ¿Cuál es la cantidad combinada de latas Ramiro recolectó y la cantidad recolectadas por Emanuel?
- 3) ¿Quién recogió exactamente 10 latas?
- 4) ¿Cuántas latas menos recolectó Jose que Emanuel?
- 5) ¿Cuántas latas más recolectó Ramiro que Flor?
- 6) ¿Cuántas latas recogió Emanuel?
- 7) ¿Quién recogió la menor cantidad de latas?
- 8) ¿Cuál es la diferencia en la cantidad de latas Emanuel recolectó y la cantidad recolectadas por Flor ?
- 9) ¿Cuántas latas en total recolectaron todos los estudiantes?
- 10) ¿Quién recogió menos latas? ¿Jose o Flor?

1. **Emanuel**
2. **160**
3. **Flor**
4. **30**
5. **50**
6. **100**
7. **Flor**
8. **90**
9. **270**
10. **Flor**



Resuelve cada problema.

Qué película ver



Respuestas

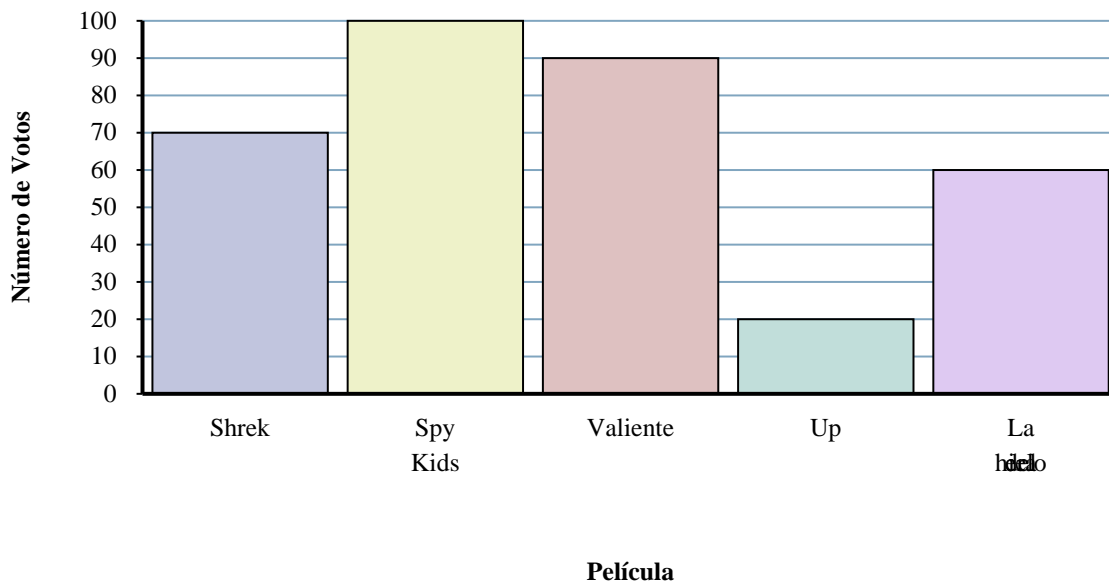
1. _____
2. _____
3. _____
4. _____
5. _____
6. _____
7. _____
8. _____
9. _____
10. _____

- 1) ¿Cuántas personas votaron por Up?
- 2) ¿Qué película recibió la mayoría de votos?
- 3) ¿Qué película obtuvo menos votos?
- 4) ¿Cuántos votos menos tenía La era del hielo que Shrek?
- 5) ¿Qué película recibió exactamente 100 votos?
- 6) ¿Menos estudiantes votaron por Up o Shrek?
- 7) ¿Cuál es la diferencia en el número de personas que votaron por Shrek y los que votaron por Valiente?
- 8) ¿Cuál es el número total de estudiantes que votaron?
- 9) ¿Cuántos votos más tenía Valiente que Up?
- 10) ¿Cuál es el número total de personas que votaron por Shrek y Spy Kids?



Resuelve cada problema.

Qué película ver



Respuestas

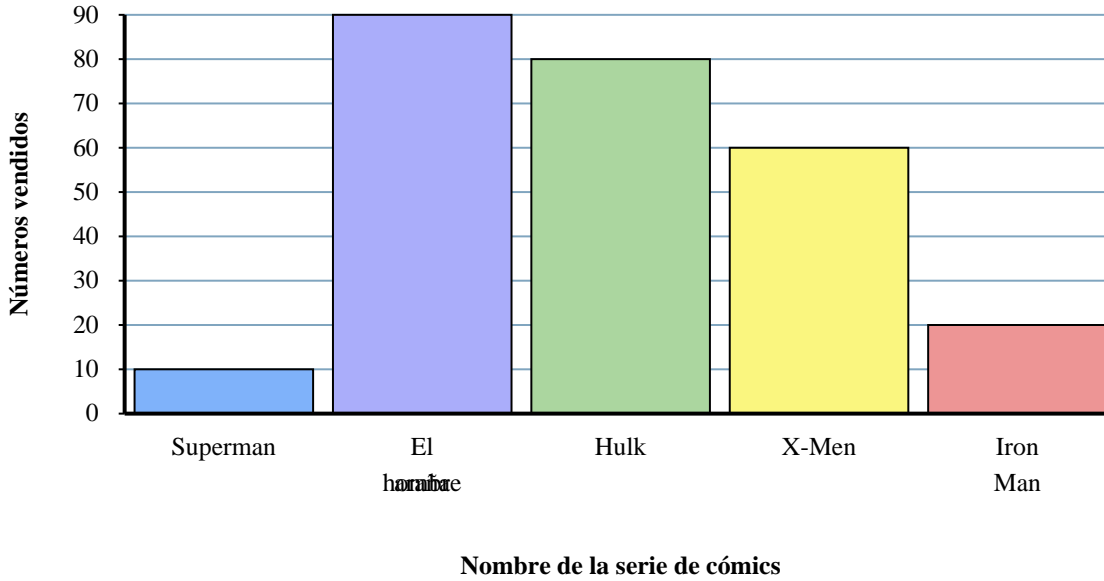
- 1) ¿Cuántas personas votaron por Up?
- 2) ¿Qué película recibió la mayoría de votos?
- 3) ¿Qué película obtuvo menos votos?
- 4) ¿Cuántos votos menos tenía La era del hielo que Shrek?
- 5) ¿Qué película recibió exactamente 100 votos?
- 6) ¿Menos estudiantes votaron por Up o Shrek?
- 7) ¿Cuál es la diferencia en el número de personas que votaron por Shrek y los que votaron por Valiente?
- 8) ¿Cuál es el número total de estudiantes que votaron?
- 9) ¿Cuántos votos más tenía Valiente que Up?
- 10) ¿Cuál es el número total de personas que votaron por Shrek y Spy Kids?

1. **20**
2. **Spy Kids**
3. **Up**
4. **10**
5. **Spy Kids**
6. **Up**
7. **20**
8. **340**
9. **70**
10. **170**



Resuelve cada problema.

Cómics Vendidos



Respuestas

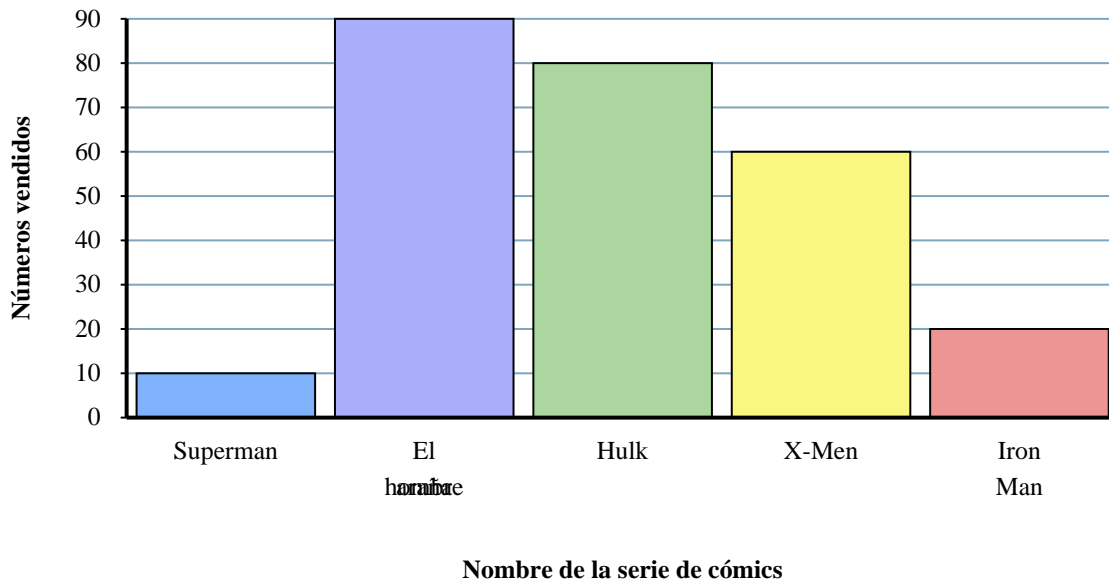
1. _____
2. _____
3. _____
4. _____
5. _____
6. _____
7. _____
8. _____
9. _____
10. _____

- 1) ¿Cuál es la diferencia en el número de X-Men vendidos y el número de El hombre araña vendidos?
- 2) ¿Cuántos números de Superman se vendieron?
- 3) ¿Qué serie de cómics vendieron exactamente 60 números?
- 4) ¿Qué serie de cómics fueron más vendidos, Superman o X-Men?
- 5) ¿Cuál es el número total de números vendidos de todos los cómics?
- 6) ¿Cuántos números más de Iron Man fueron vendidos que de Superman?
- 7) ¿Cuántos números más de Iron Man fueron vendidos que de El hombre araña?
- 8) ¿Cuál es el número total de números vendidos de Superman y El hombre araña?
- 9) ¿Qué serie de cómics vendió la menor cantidad de números?
- 10) ¿Qué serie de cómics vendió la mayor cantidad de números?



Resuelve cada problema.

Cómics Vendidos



Respuestas

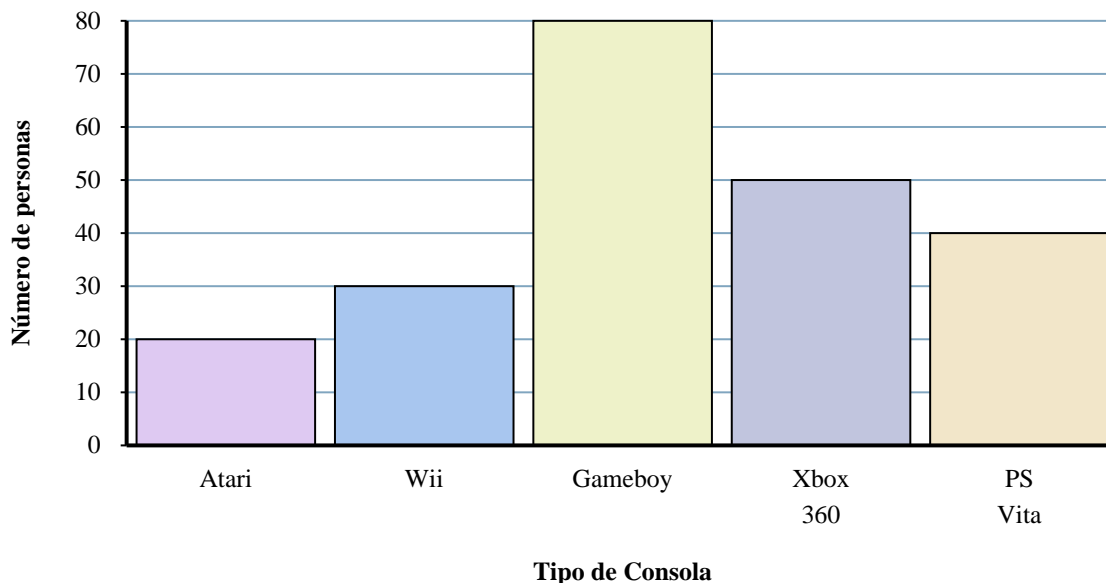
- 1) ¿Cuál es la diferencia en el número de X-Men vendidos y el número de El hombre araña vendidos?
- 2) ¿Cuántos números de Superman se vendieron?
- 3) ¿Qué serie de cómics vendieron exactamente 60 números?
- 4) ¿Qué serie de cómics fueron más vendidos, Superman o X-Men?
- 5) ¿Cuál es el número total de números vendidos de todos los cómics?
- 6) ¿Cuántos números más de Iron Man fueron vendidos que de Superman?
- 7) ¿Cuántos números más de Iron Man fueron vendidos que de El hombre araña?
- 8) ¿Cuál es el número total de números vendidos de Superman y El hombre araña?
- 9) ¿Qué serie de cómics vendió la menor cantidad de números?
- 10) ¿Qué serie de cómics vendió la mayor cantidad de números?

1. 30
2. 10
3. X-Men
4. X-Men
5. 260
6. 10
7. 70
8. 100
9. Superman
10. El hombre araña



Resuelve cada problema.

Consolas



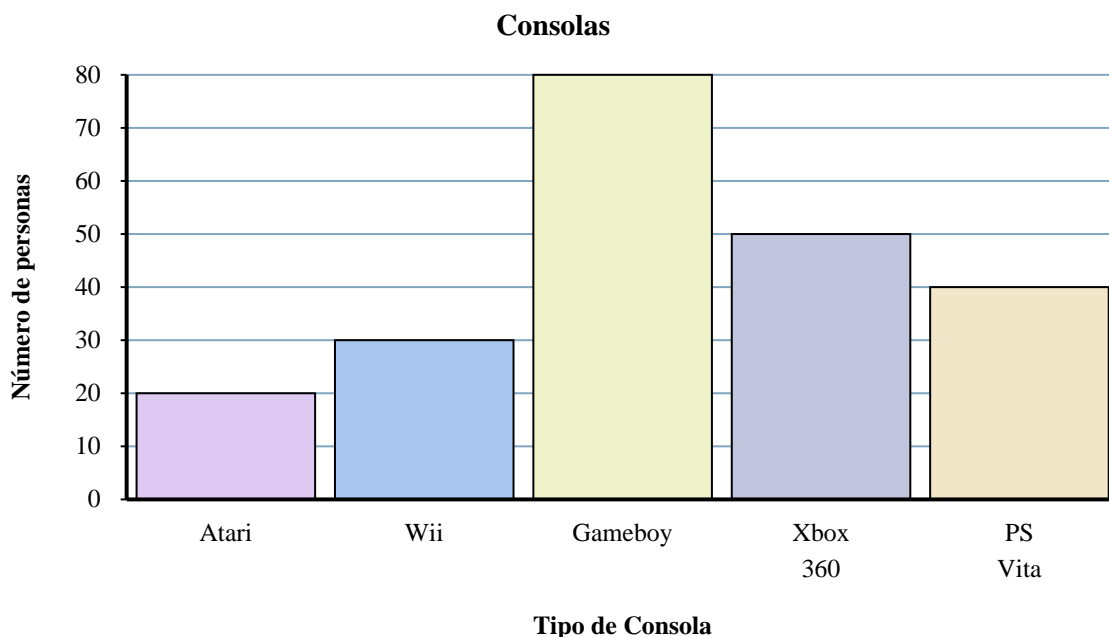
Respuestas

1. _____
2. _____
3. _____
4. _____
5. _____
6. _____
7. _____
8. _____
9. _____
10. _____

- 1) ¿Cuál es el número total de PS Vitas y Xbox 360s?
- 2) ¿Qué consola tenían exactamente 80 personas?
- 3) ¿Cuántas personas más poseían un Xbox 360 que un Wii?
- 4) ¿Cuál es la diferencia en el número de personas que poseían un Wii y el número que poseía un PS Vita?
- 5) ¿Qué consola tenían el menor número de personas?
- 6) ¿Cuántas personas menos poseían un Atari que un Gameboy?
- 7) ¿Cuántas personas poseían un PS Vita?
- 8) ¿Cuántas consolas en total poseían las personas?
- 9) ¿Menos personas poseen un Gameboy o un Wii?
- 10) ¿Más personas poseen un Xbox 360s o un Gameboys?



Resuelve cada problema.



- 1) ¿Cuál es el número total de PS Vitas y Xbox 360s?
- 2) ¿Qué consola tenían exactamente 80 personas?
- 3) ¿Cuántas personas más poseían un Xbox 360 que un Wii?
- 4) ¿Cuál es la diferencia en el número de personas que poseían un Wii y el número que poseía un PS Vita?
- 5) ¿Qué consola tenían el menor número de personas?
- 6) ¿Cuántas personas menos poseían un Atari que un Gameboy?
- 7) ¿Cuántas personas poseían un PS Vita?
- 8) ¿Cuántas consolas en total poseían las personas?
- 9) ¿Menos personas poseen un Gameboy o un Wii?
- 10) ¿Más personas poseen un Xbox 360s o un Gameboys?

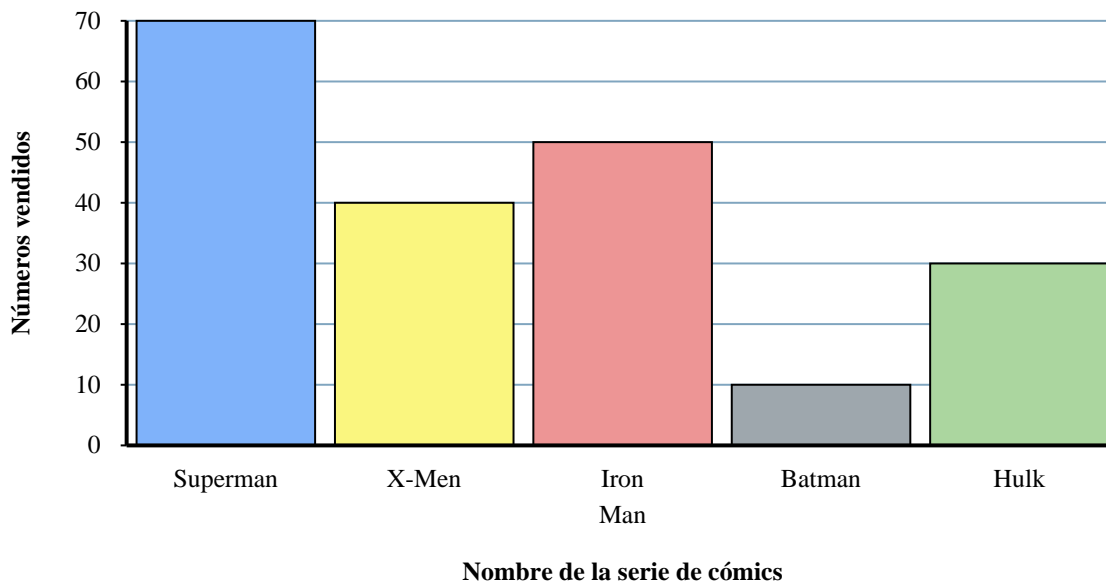
Respuestas

1. **90**
2. **Gameboy**
3. **20**
4. **10**
5. **Atari**
6. **60**
7. **40**
8. **220**
9. **Wii**
10. **Gameboy**



Resuelve cada problema.

Cómics Vendidos



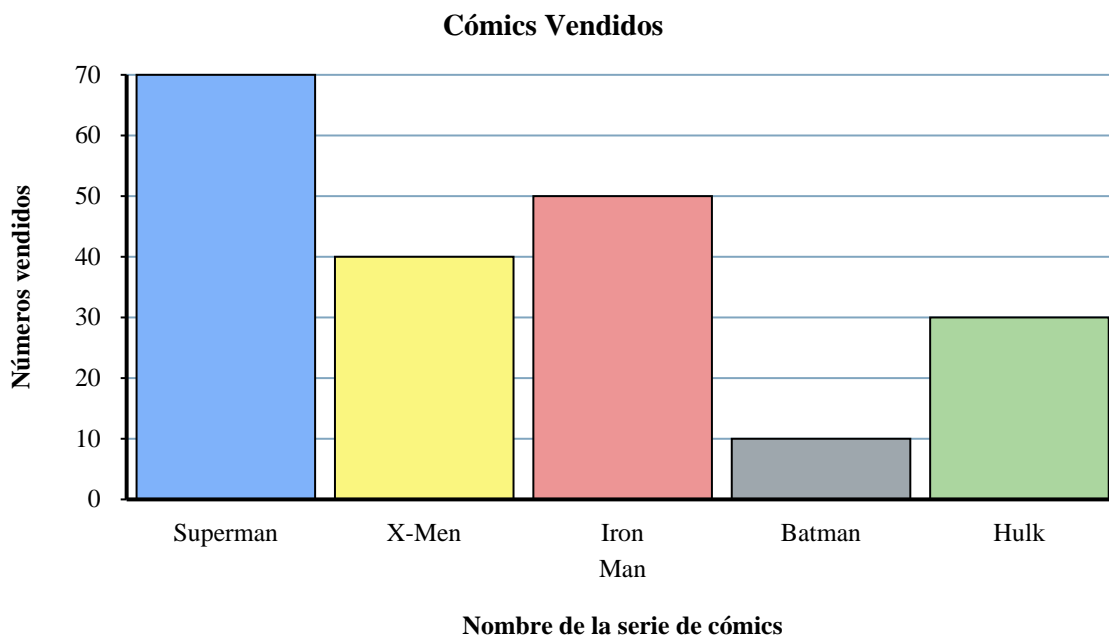
Respuestas

1. _____
2. _____
3. _____
4. _____
5. _____
6. _____
7. _____
8. _____
9. _____
10. _____

- 1) ¿Cuántos números más de Hulk fueron vendidos que de Iron Man?
- 2) ¿Cuántos números más de Iron Man fueron vendidos que de X-Men?
- 3) ¿Qué serie de cómics vendió la mayor cantidad de números?
- 4) ¿Qué serie de cómics fueron más vendidos, Superman o Hulk?
- 5) ¿Cuál es la diferencia en el número de Batman vendidos y el número de Iron Man vendidos?
- 6) ¿Cuál es el número total de números vendidos de Batman y X-Men?
- 7) ¿Qué serie de cómics fueron menos vendidos Batman o Superman?
- 8) ¿Cuál es el número total de números vendidos de todos los cómics?
- 9) ¿Cuántos números de Iron Man se vendieron?
- 10) ¿Qué serie de cómics vendieron exactamente 40 números?



Resuelve cada problema.



Respuestas

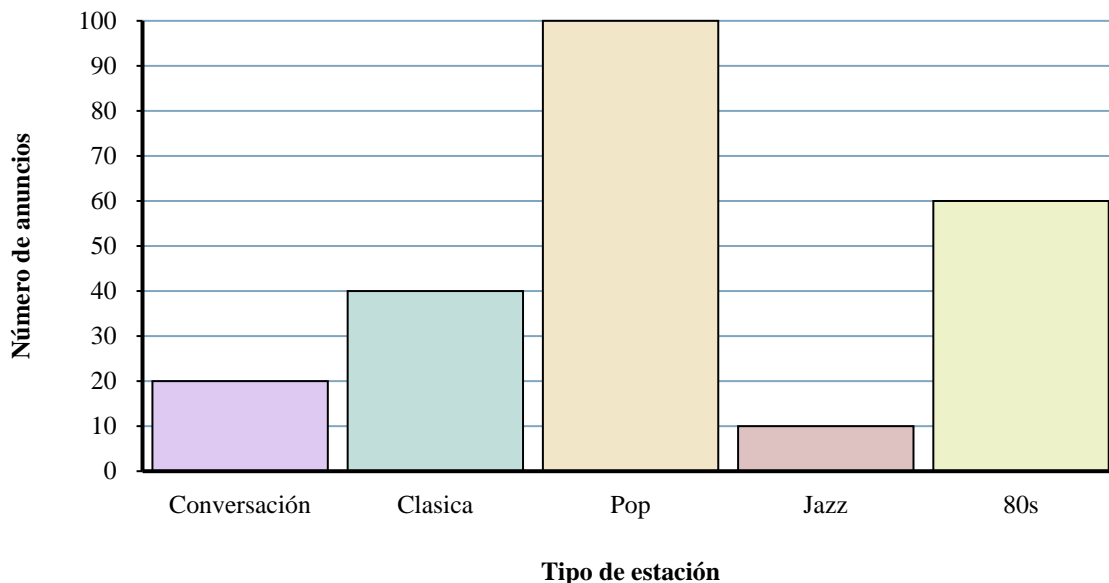
- 1) ¿Cuántos números más de Hulk fueron vendidos que de Iron Man?
- 2) ¿Cuántos números más de Iron Man fueron vendidos que de X-Men?
- 3) ¿Qué serie de cómics vendió la mayor cantidad de números?
- 4) ¿Qué serie de cómics fueron más vendidos, Superman o Hulk?
- 5) ¿Cuál es la diferencia en el número de Batman vendidos y el número de Iron Man vendidos?
- 6) ¿Cuál es el número total de números vendidos de Batman y X-Men?
- 7) ¿Qué serie de cómics fueron menos vendidos Batman o Superman?
- 8) ¿Cuál es el número total de números vendidos de todos los cómics?
- 9) ¿Cuántos números de Iron Man se vendieron?
- 10) ¿Qué serie de cómics vendieron exactamente 40 números?

1. **20**
2. **10**
3. **Superman**
4. **Superman**
5. **40**
6. **50**
7. **Batman**
8. **200**
9. **50**
10. **X-Men**



Resuelve cada problema.

Diferentes estaciones de radio



Respuestas

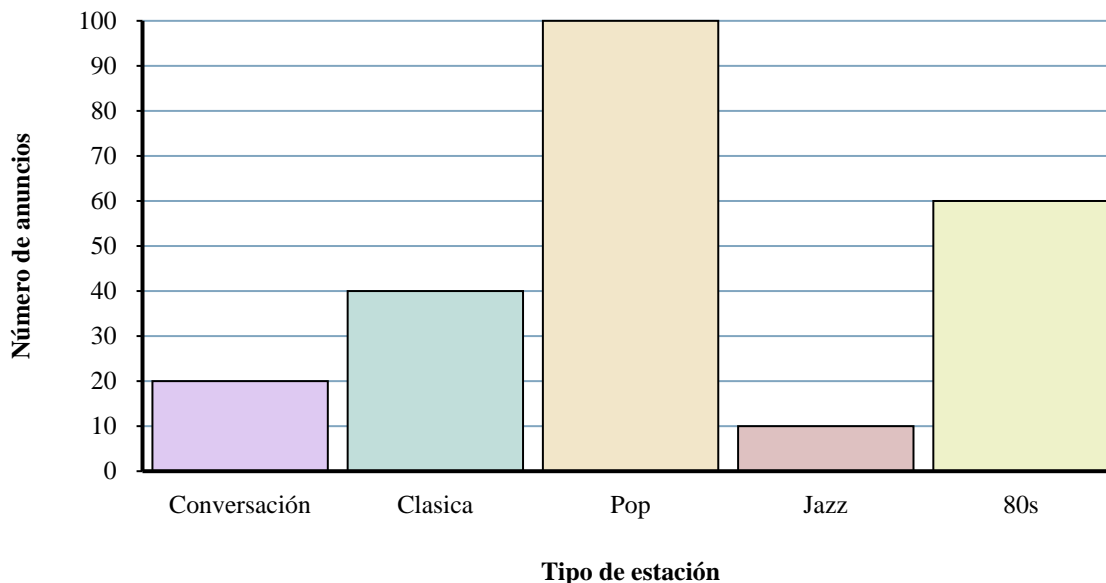
1. _____
2. _____
3. _____
4. _____
5. _____
6. _____
7. _____
8. _____
9. _____
10. _____

- 1) ¿Cuántos anuncios más tenía la estación Conversación que la estación Jazz?
- 2) ¿Cuántos anuncios menos tuvo la estación Conversación que la estación 80s?
- 3) ¿Cuál es el número total de anuncios en todas las estaciones?
- 4) ¿Cuál es el número total de anuncios en la estación 80s y la estación Pop?
- 5) ¿Qué estación tenía la mayoría de los anuncios?
- 6) ¿Cuántos anuncios estaban en la estación Pop?
- 7) ¿Hubo más anuncios en la estación Pop o la estación Conversación?
- 8) ¿Qué estación tenía exactamente 20 anuncios?
- 9) Hubo un menor número de anuncios en la estación Jazz o la estación Clasica?
- 10) ¿Qué estación tenía la menor cantidad de anuncios?



Resuelve cada problema.

Diferentes estaciones de radio



- 1) ¿Cuántos anuncios más tenía la estación Conversación que la estación Jazz?
- 2) ¿Cuántos anuncios menos tuvo la estación Conversación que la estación 80s?
- 3) ¿Cuál es el número total de anuncios en todas las estaciones?
- 4) ¿Cuál es el número total de anuncios en la estación 80s y la estación Pop?
- 5) ¿Qué estación tenía la mayoría de los anuncios?
- 6) ¿Cuántos anuncios estaban en la estación Pop?
- 7) ¿Hubo más anuncios en la estación Pop o la estación Conversación?
- 8) ¿Qué estación tenía exactamente 20 anuncios?
- 9) Hubo un menor número de anuncios en la estación Jazz o la estación Clasica?
- 10) ¿Qué estación tenía la menor cantidad de anuncios?

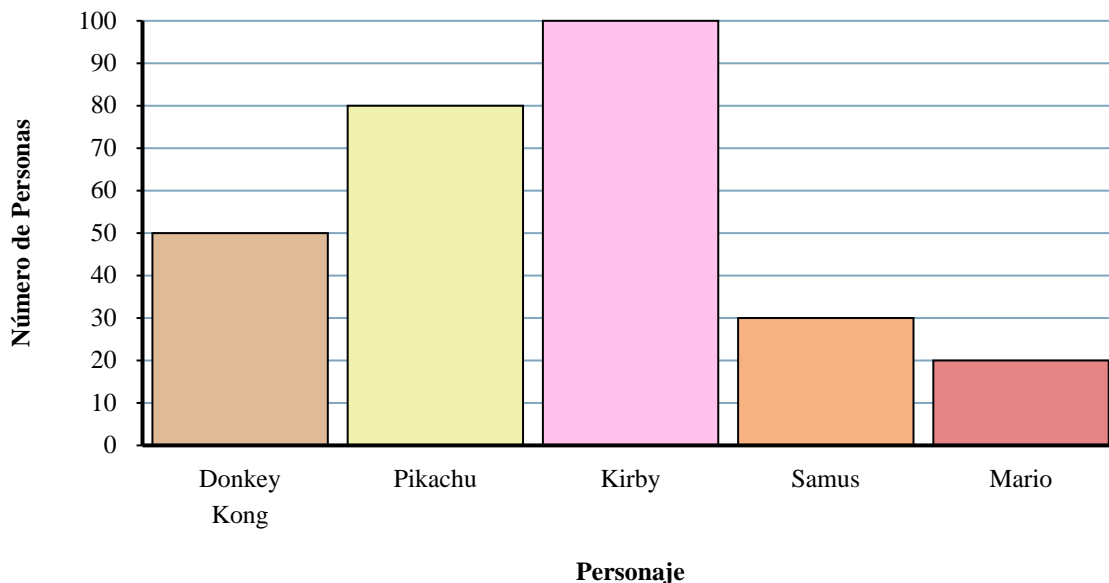
Respuestas

1. **10**
2. **40**
3. **230**
4. **160**
5. **Pop**
6. **100**
7. **Pop**
8. **Conversación**
9. **Jazz**
10. **Jazz**



Resuelve cada problema.

Personaje de juegos favorito



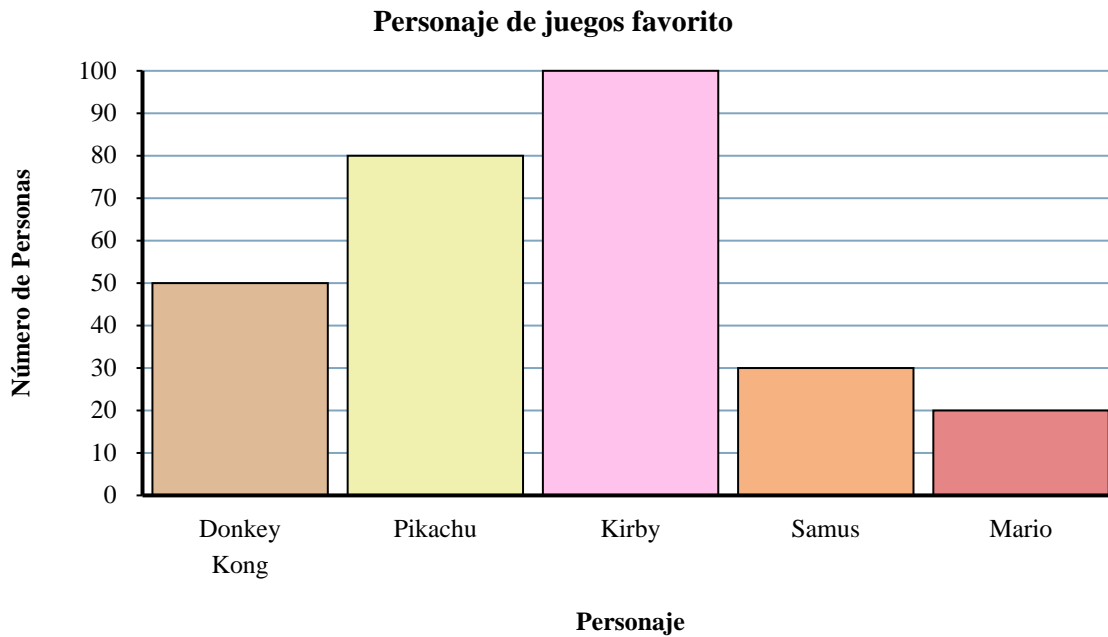
Respuestas

1. _____
2. _____
3. _____
4. _____
5. _____
6. _____
7. _____
8. _____
9. _____
10. _____

- 1) ¿Qué personaje tenía el menor número de personas que dicen que era su favorito?
- 2) ¿A más gente le gusta Mario o Samus?
- 3) ¿A cuántas personas le gusta Samus mas?
- 4) ¿Cuántas personas en total respondieron a la encuesta?
- 5) ¿A menos gente le gusta Pikachu o Kirby?
- 6) ¿A cuántas personas menos le gusta Samus que queridas Samus?
- 7) ¿Qué personaje dicen el mayor número de personas que es su favorito?
- 8) ¿A cuántas personas más les gustaba Kirby que Mario?
- 9) ¿Cuál es la diferencia en el número de gente que le gusta Mario y el número que le gusta Donkey Kong?
- 10) ¿Qué personaje dijeron exactamente 100 personas que era su favorito?



Resuelve cada problema.



- 1) ¿Qué personaje tenía el menor número de personas que dicen que era su favorito?
- 2) ¿A más gente le gusta Mario o Samus?
- 3) ¿A cuántas personas le gusta Samus mas?
- 4) ¿Cuántas personas en total respondieron a la encuesta?
- 5) ¿A menos gente le gusta Pikachu o Kirby?
- 6) ¿A cuántas personas menos le gusta Samus que queridas Samus?
- 7) ¿Qué personaje dicen el mayor número de personas que es su favorito?
- 8) ¿A cuántas personas más les gustaba Kirby que Mario?
- 9) ¿Cuál es la diferencia en el número de gente que le gusta Mario y el número que le gusta Donkey Kong?
- 10) ¿Qué personaje dijeron exactamente 100 personas que era su favorito?

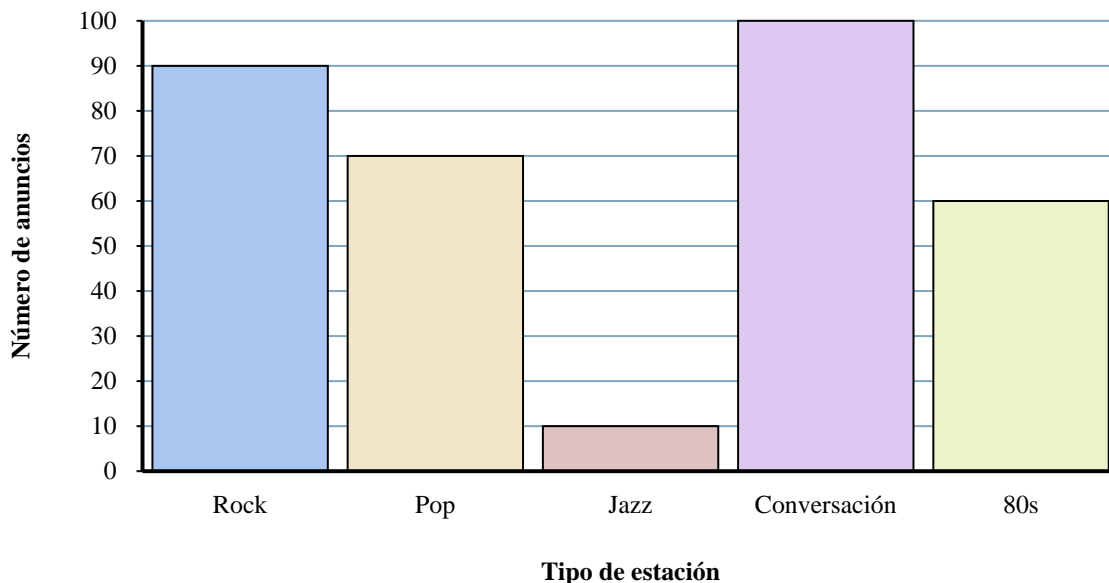
Respuestas

1. **Mario**
2. **Samus**
3. **30**
4. **280**
5. **Pikachu**
6. **20**
7. **Kirby**
8. **80**
9. **30**
10. **Kirby**



Resuelve cada problema.

Diferentes estaciones de radio



Respuestas

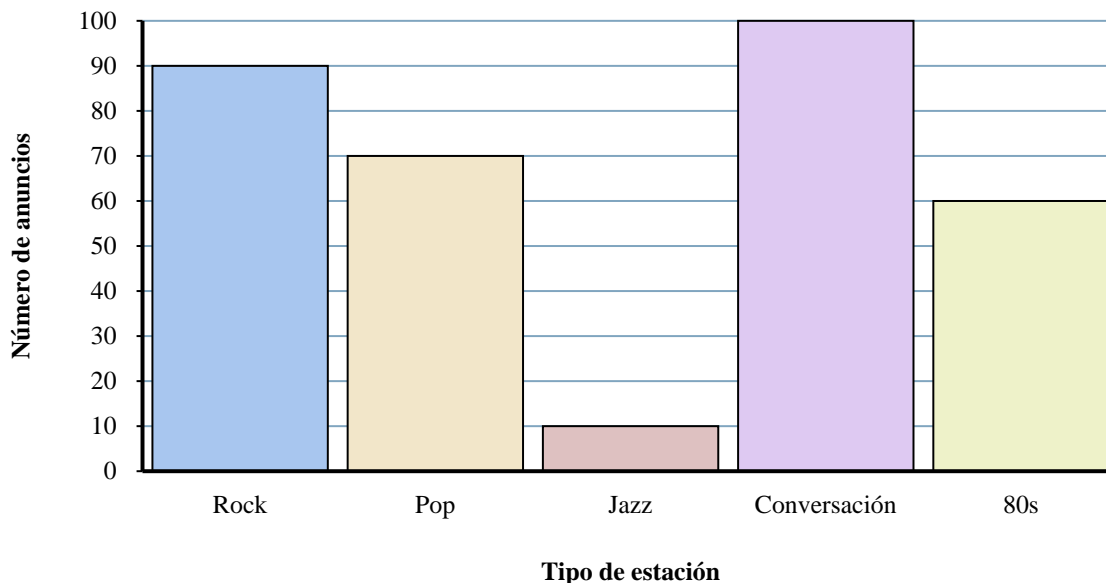
1. _____
2. _____
3. _____
4. _____
5. _____
6. _____
7. _____
8. _____
9. _____
10. _____

- 1) ¿Hubo más anuncios en la estación Rock o la estación Pop?
- 2) ¿Cuál es el número total de anuncios en la estación Jazz y la estación Pop?
- 3) ¿Cuántos anuncios menos tuvo la estación 80s que la estación Rock?
- 4) ¿Qué estación tenía la mayoría de los anuncios?
- 5) ¿Cuántos anuncios más tenía la estación Conversación que la estación Jazz?
- 6) ¿Cuál es la diferencia en el número de anuncios en la estación Jazz y en la estación Rock?
- 7) Hubo un menor número de anuncios en la estación Rock o la estación Conversación?
- 8) ¿Cuántos anuncios estaban en la estación 80s?
- 9) ¿Qué estación tenía la menor cantidad de anuncios?
- 10) ¿Cuál es el número total de anuncios en todas las estaciones?



Resuelve cada problema.

Diferentes estaciones de radio



- 1) ¿Hubo más anuncios en la estación Rock o la estación Pop?
- 2) ¿Cuál es el número total de anuncios en la estación Jazz y la estación Pop?
- 3) ¿Cuántos anuncios menos tuvo la estación 80s que la estación Rock?
- 4) ¿Qué estación tenía la mayoría de los anuncios?
- 5) ¿Cuántos anuncios más tenía la estación Conversación que la estación Jazz?
- 6) ¿Cuál es la diferencia en el número de anuncios en la estación Jazz y en la estación Rock?
- 7) Hubo un menor número de anuncios en la estación Rock o la estación Conversación?
- 8) ¿Cuántos anuncios estaban en la estación 80s?
- 9) ¿Qué estación tenía la menor cantidad de anuncios?
- 10) ¿Cuál es el número total de anuncios en todas las estaciones?

Respuestas

1. **Rock**
2. **80**
3. **30**
4. **Conversación**
5. **90**
6. **80**
7. **Rock**
8. **60**
9. **Jazz**
10. **330**