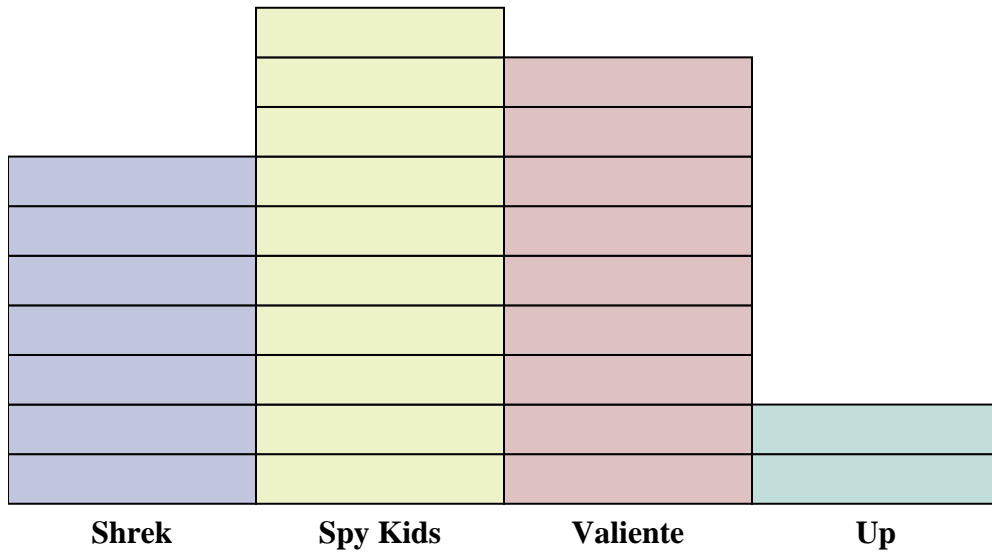




Resuelve cada problema.



Cada = 2 votos


Respuestas


1. _____
2. _____
3. _____
4. _____
5. _____
6. _____
7. _____
8. _____
9. _____
10. _____

- 1) ¿Cuántos votos más tenía Valiente que Shrek?
- 2) ¿Qué película recibió la mayoría de votos?
- 3) ¿Qué película obtuvo menos votos?
- 4) ¿Cuál es el número total de estudiantes que votaron?
- 5) ¿Menos estudiantes votaron por Up o Shrek?
- 6) Más gente votó por Valiente o Spy Kids?
- 7) ¿Qué película recibió exactamente 18 votos?
- 8) ¿Cuántas personas votaron por Spy Kids?
- 9) ¿Cuál es el número total de personas que votaron por Spy Kids y Shrek?
- 10) ¿Cuál es la diferencia en el número de personas que votaron por Up y los que votaron por Valiente?



Resuelve cada problema.



Cada  = 2 votos

Respuestas

1. 4
2. Spy Kids
3. Up
4. 56
5. Up
6. Spy Kids
7. Valiente
8. 20
9. 34
10. 14

- 1) ¿Cuántos votos más tenía Valiente que Shrek?
- 2) ¿Qué película recibió la mayoría de votos?
- 3) ¿Qué película obtuvo menos votos?
- 4) ¿Cuál es el número total de estudiantes que votaron?
- 5) ¿Menos estudiantes votaron por Up o Shrek?
- 6) Más gente votó por Valiente o Spy Kids?
- 7) ¿Qué película recibió exactamente 18 votos?
- 8) ¿Cuántas personas votaron por Spy Kids?
- 9) ¿Cuál es el número total de personas que votaron por Spy Kids y Shrek?
- 10) ¿Cuál es la diferencia en el número de personas que votaron por Up y los que votaron por Valiente?