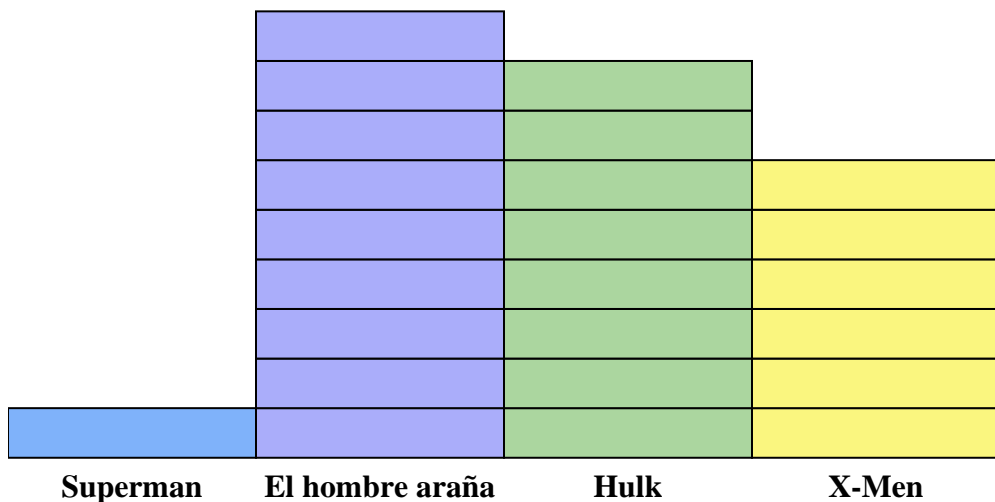





Resuelve cada problema.



Cada  = 2 Números vendidos

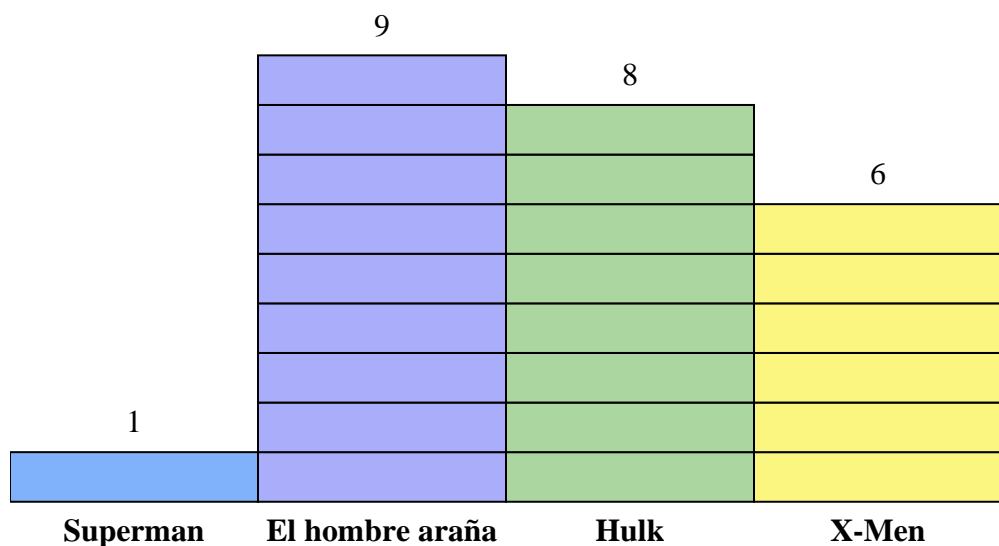
Respuestas


1. _____
2. _____
3. _____
4. _____
5. _____
6. _____
7. _____
8. _____
9. _____
10. _____

- 1) ¿Cuántos números más de El hombre araña fueron vendidos que de Superman?
- 2) ¿Qué serie de cómics vendió la mayor cantidad de números?
- 3) ¿Qué serie de cómics vendió la menor cantidad de números?
- 4) ¿Cuál es el número total de números vendidos de todos los cómics?
- 5) ¿Qué serie de cómics fueron menos vendidos Hulk o X-Men?
- 6) ¿Qué serie de cómics fueron más vendidos, Hulk o El hombre araña?
- 7) ¿Qué serie de cómics vendieron exactamente 16 números?
- 8) ¿Cuántos números de Superman se vendieron?
- 9) ¿Cuál es el número total de números vendidos de El hombre araña y X-Men?
- 10) ¿Cuál es la diferencia en el número de X-Men vendidos y el número de Superman vendidos?



Resuelve cada problema.



Cada  = 2 Números vendidos

- 1) ¿Cuántos números más de El hombre araña fueron vendidos que de Superman?
- 2) ¿Qué serie de cómics vendió la mayor cantidad de números?
- 3) ¿Qué serie de cómics vendió la menor cantidad de números?
- 4) ¿Cuál es el número total de números vendidos de todos los cómics?
- 5) ¿Qué serie de cómics fueron menos vendidos Hulk o X-Men?
- 6) ¿Qué serie de cómics fueron más vendidos, Hulk o El hombre araña?
- 7) ¿Qué serie de cómics vendieron exactamente 16 números?
- 8) ¿Cuántos números de Superman se vendieron?
- 9) ¿Cuál es el número total de números vendidos de El hombre araña y X-Men?
- 10) ¿Cuál es la diferencia en el número de X-Men vendidos y el número de Superman vendidos?

Respuestas

1. 16
2. El hombre araña
3. Superman
4. 48
5. X-Men
6. El hombre araña
7. Hulk
8. 2
9. 30
10. 10