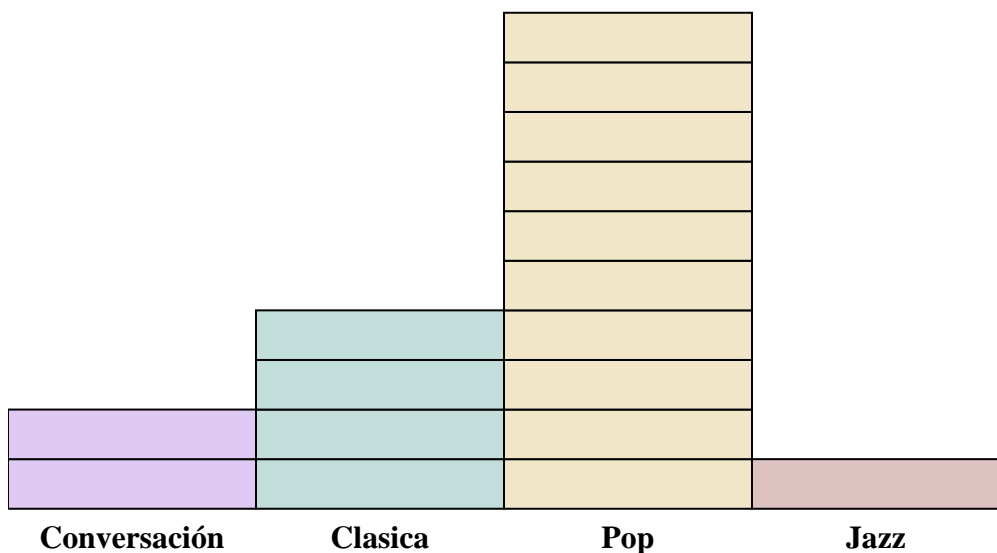





Resuelve cada problema.



Cada  = 2 anuncios reproducidos

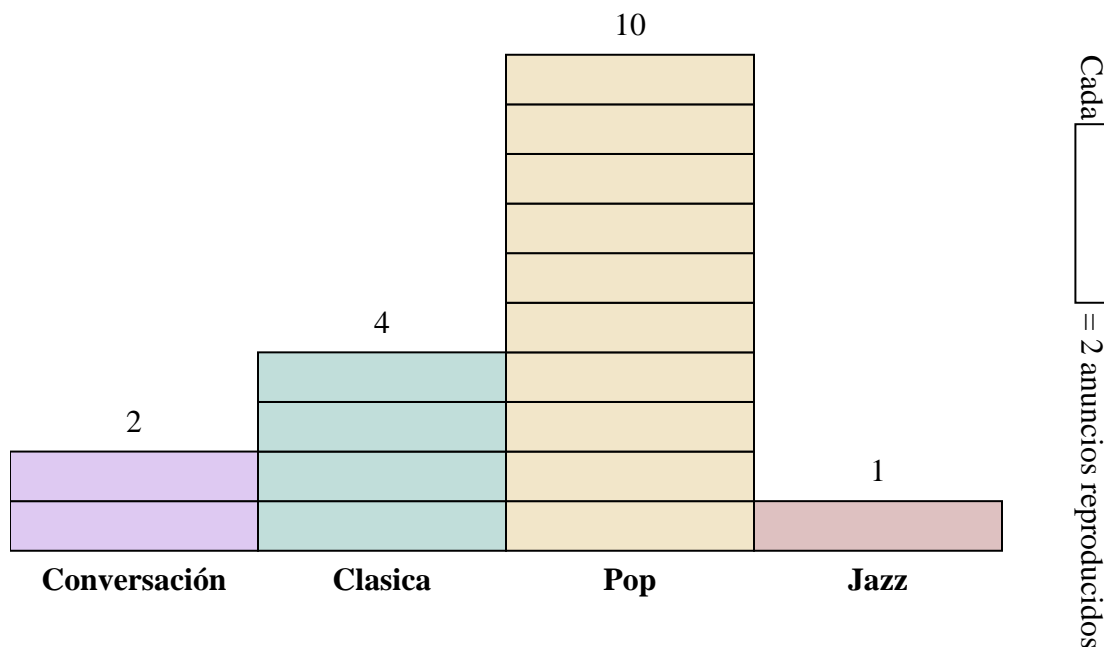
Respuestas

1. _____
2. _____
3. _____
4. _____
5. _____
6. _____
7. _____
8. _____
9. _____
10. _____

- 1) ¿Cuántos anuncios más tenía la estación Clasica que la estación Conversación?
- 2) ¿Qué estación tenía la mayoría de los anuncios?
- 3) ¿Qué estación tenía la menor cantidad de anuncios?
- 4) ¿Cuál es el número total de anuncios en todas las estaciones?
- 5) Hubo un menor número de anuncios en la estación Jazz o la estación Conversación?
- 6) ¿Hubo más anuncios en la estación Pop o la estación Conversación?
- 7) ¿Qué estación tenía exactamente 8 anuncios?
- 8) ¿Cuántos anuncios estaban en la estación Pop?
- 9) ¿Cuál es el número total de anuncios en la estación Jazz y la estación Pop?
- 10) ¿Cuál es la diferencia en el número de anuncios en la estación Jazz y en la estación Clasica?



Resuelve cada problema.



- 1) ¿Cuántos anuncios más tenía la estación Clasica que la estación Conversación?
- 2) ¿Qué estación tenía la mayoría de los anuncios?
- 3) ¿Qué estación tenía la menor cantidad de anuncios?
- 4) ¿Cuál es el número total de anuncios en todas las estaciones?
- 5) Hubo un menor número de anuncios en la estación Jazz o la estación Conversación?
- 6) ¿Hubo más anuncios en la estación Pop o la estación Conversación?
- 7) ¿Qué estación tenía exactamente 8 anuncios?
- 8) ¿Cuántos anuncios estaban en la estación Pop?
- 9) ¿Cuál es el número total de anuncios en la estación Jazz y la estación Pop?
- 10) ¿Cuál es la diferencia en el número de anuncios en la estación Jazz y en la estación Clasica?

Respuestas

1. **4**
2. **Pop**
3. **Jazz**
4. **34**
5. **Jazz**
6. **Pop**
7. **Clasica**
8. **20**
9. **22**
10. **6**