



Determina cuál letra mejor representa el volúmen.

Respuestas

Xícara

Una taza se refiere a la cantidad de leche que se obtiene de la cafetería.



Pinta

Uma pinta é aproximadamente a quantidade que você recebe em um copo grande.
1 pinta = 2 xícaras



Quarto

Um quarto é mais ou menos a quantidade que você consegue em um recipiente grande de leite.
1 cuarto = 2 pintas

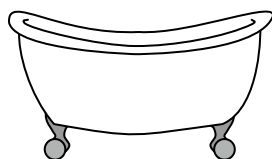


Galón

Un galón es la cantidad que viene en un recipiente de plástico grande.
1 galón = 4 cuartos




1)



Bañera

- A. 40 tazas
- B. 8 cuartos
- C. 20 Pintas
- D. 45 galones


2)



cuentagotas

- A. 1 Pinta
- B. 3 galones
- C. menor que 1 taza
- D. 1 taza

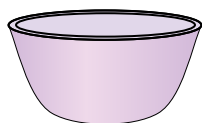
3)



Líquido en una jarra

- A. 2 tazas
- B. 1 Pinta
- C. 2 cuartos
- D. 8 galones

4)



Plato de Cereal

- A. 0.5 galones
- B. 4 Pintas
- C. 2 galones
- D. 1 Pinta

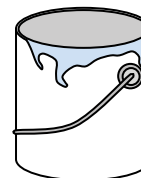
5)



Líquido en una cuchara

- A. Less than a cup
- B. 1 taza
- C. 1 Pinta
- D. 1 cuarto

6)



Pintura en un bote

- A. 3 onzas líquidas
- B. 1 galón
- C. 1 taza
- D. 0.5 Pintas

7)



2 litros de Soda

- A. 0.5 galones
- B. 5 galones
- C. 1 Pinta
- D. 2 tazas


8)



Soda en una lata

- A. 4 tazas
- B. 1.5 tazas
- C. 4 Pintas
- D. 1 galón

9)



Cubeta de hielo

- A. 100 cuartos
- B. 16 tazas
- C. 5 galones
- D. 2 cuartos

- 1. _____
- 2. _____
- 3. _____
- 4. _____
- 5. _____
- 6. _____
- 7. _____
- 8. _____
- 9. _____



Determina cuál letra mejor representa el volúmen.

Respuestas

Xícara

Una taza se refiere a la cantidad de leche que se obtiene de la cafetería.



Pinta

Uma pinta é aproximadamente a quantidade que você recebe em um copo grande.
1 pinta = 2 xícaras




Quarto

Um quarto é mais ou menos a quantidade que você consegue em um recipiente grande de leite.
1 cuarto = 2 pintas




Galón

Un galón es la cantidad que viene en un recipiente de plástico grande.
1 galón = 4 cuartos



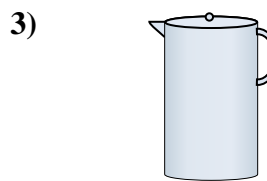
Bañera

- A. 40 tazas
- B. 8 cuartos
- C. 20 Pintas
- D. 45 galones



cuentagotas

- A. 1 Pinta
- B. 3 galones
- C. menor que 1 taza
- D. 1 taza



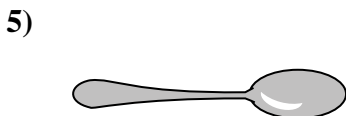
Líquido en una jarra

- A. 2 tazas
- B. 1 Pinta
- C. 2 cuartos
- D. 8 galones



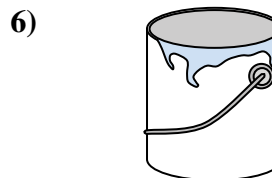
Plato de Cereal

- A. 0.5 galones
- B. 4 Pintas
- C. 2 galones
- D. 1 Pinta



Líquido en una cuchara

- A. Less than a cup
- B. 1 taza
- C. 1 Pinta
- D. 1 cuarto



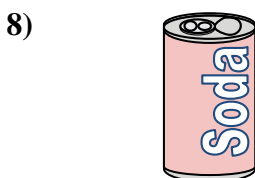
Pintura en un bote

- A. 3 onzas líquidas
- B. 1 galón
- C. 1 taza
- D. 0.5 Pintas



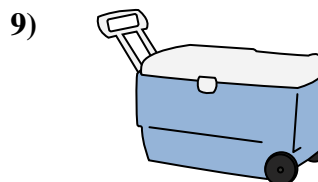
2 litros de Soda

- A. 0.5 galones
- B. 5 galones
- C. 1 Pinta
- D. 2 tazas



Soda en una lata

- A. 4 tazas
- B. 1.5 tazas
- C. 4 Pintas
- D. 1 galón



Cubeta de hielo

- A. 100 cuartos
- B. 16 tazas
- C. 5 galones
- D. 2 cuartos

- 1. **D**
- 2. **C**
- 3. **C**
- 4. **D**
- 5. **A**
- 6. **B**
- 7. **A**
- 8. **B**
- 9. **A**