



Determina cuál letra mejor representa el volúmen.

Respuestas

Xícara

Una taza se refiere a la cantidad de leche que se obtiene de la cafetería.



Pinta

Uma pinta é aproximadamente a quantidade que você recebe em um copo grande.
1 pinta = 2 xícaras



Quarto

Um quarto é mais ou menos a quantidade que você consegue em um recipiente grande de leite.
1 cuarto = 2 pintas



Galón

Un galón es la cantidad que viene en un recipiente de plástico grande.
1 galón = 4 cuartos



1. _____
2. _____
3. _____
4. _____
5. _____
6. _____
7. _____
8. _____
9. _____


1)



Agua para una planta de la casa

- A. 3 galones
- B. 2 tazas
- C. 6 cuartos
- D. 4 libras

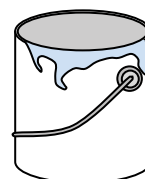
2)



Agua que cabe en un barril

- A. 20 tazas
- B. 50 galones
- C. 3 pulgadas
- D. 10 Pintas

3)



Pintura en un bote

- A. 3 onzas líquidas
- B. 1 taza
- C. 1 galón
- D. 0.5 Pintas

4)



Tinta en una pluma

- A. 1 cuarto
- B. menor que 1 taza
- C. 1 galón
- D. 2 Pintas

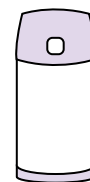
5)



Plato de Cereal

- A. 2 galones
- B. 1 Pinta
- C. 4 Pintas
- D. 0.5 galones

6)



Líquido en un termo

- A. 2 libras
- B. 4 cuartos
- C. 1 galón
- D. 1 taza

7)



Líquido en una taza de te

- A. 1 Pinta
- B. 1 cuarto
- C. 1 taza
- D. 1 galón


8)



Harina en un lote de galletas

- A. 2 cuartos
- B. 1.5 tazas
- C. 2 galones
- D. 5 galones

9)



Líquido en una jarra

- A. 1 Pinta
- B. 2 cuartos
- C. 8 galones
- D. 2 tazas



Determina cuál letra mejor representa el volúmen.

Respuestas

Xícara

Una taza se refiere a la cantidad de leche que se obtiene de la cafetería.

Pinta

Uma pinta é aproximadamente a quantidade que você recebe em um copo grande.
1 pinta = 2 xícaras

Quarto

Um quarto é mais ou menos a quantidade que você consegue em um recipiente grande de leite.
1 cuarto = 2 pintas

Galón

Un galón es la cantidad que viene en un recipiente de plástico grande.
1 galón = 4 cuartos



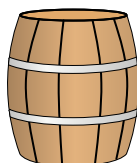
1)



Agua para una planta de la casa

- A. 3 galones
- B. 2 tazas
- C. 6 cuartos
- D. 4 libras

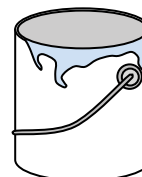
2)



Agua que cabe en un barril

- A. 20 tazas
- B. 50 galones
- C. 3 pulgadas
- D. 10 Pintas

3)



Pintura en un bote

- A. 3 onzas líquidas
- B. 1 taza
- C. 1 galón
- D. 0.5 Pintas

4)



Tinta en una pluma

- A. 1 cuarto
- B. menor que 1 taza
- C. 1 galón
- D. 2 Pintas


5)



Plato de Cereal

- A. 2 galones
- B. 1 Pinta
- C. 4 Pintas
- D. 0.5 galones

6)



Líquido en un termo

- A. 2 libras
- B. 4 cuartos
- C. 1 galón
- D. 1 taza

7)



Líquido en una taza de te

- A. 1 Pinta
- B. 1 cuarto
- C. 1 taza
- D. 1 galón


8)



Harina en un lote de galletas

- A. 2 cuartos
- B. 1.5 tazas
- C. 2 galones
- D. 5 galones

9)



Líquido en una jarra

- A. 1 Pinta
- B. 2 cuartos
- C. 8 galones
- D. 2 tazas

- 1. **B**
- 2. **B**
- 3. **C**
- 4. **B**
- 5. **B**
- 6. **D**
- 7. **C**
- 8. **B**
- 9. **B**