



**Determina cuál letra mejor representa el volúmen.**

**Respuestas**

**Xícara**

Una taza se refiere a la cantidad de leche que se obtiene de la cafetería.



**Pinta**

Uma pinta é aproximadamente a quantidade que você recebe em um copo grande.  
1 pinta = 2 xícaras



**Quarto**

Um quarto é mais ou menos a quantidade que você consegue em um recipiente grande de leite.  
1 cuarto = 2 pintas




**Galón**

Un galón es la cantidad que viene en un recipiente de plástico grande.  
1 galón = 4 cuartos



1. \_\_\_\_\_
2. \_\_\_\_\_
3. \_\_\_\_\_
4. \_\_\_\_\_
5. \_\_\_\_\_
6. \_\_\_\_\_
7. \_\_\_\_\_
8. \_\_\_\_\_
9. \_\_\_\_\_

1)



Agua que cabe en un barril

- A. 20 tazas
- B. 10 Pintas
- C. 3 pulgadas
- D. 50 galones


2)



Tanque de gasolina en un auto

- A. 3 cuartos
- B. 4 Pintas
- C. 15 galones
- D. 16 tazas

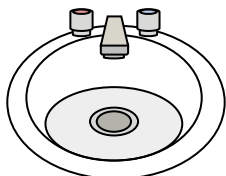
3)



Arena que cabe en una carretilla

- A. 8 cuartos
- B. 45 galones
- C. 1000 gramos
- D. 4 tazas

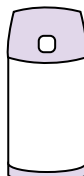
4)



Agua en un lavamanos

- A. 2 onzas líquidas
- B. 2 galones
- C. 2 tazas
- D. 2 Pintas

5)



Líquido en un termo

- A. 1 taza
- B. 1 galón
- C. 2 libras
- D. 4 cuartos


6)



Líquido en una cuchara

- A. 1 taza
- B. Less than a cup
- C. 1 Pinta
- D. 1 cuarto

7)



Líquido en una jarra

- A. 1 Pinta
- B. 2 cuartos
- C. 2 tazas
- D. 8 galones

8)



Tinta en una pluma

- A. 1 galón
- B. 2 Pintas
- C. menor que 1 taza
- D. 1 cuarto

9)



Soda en una lata

- A. 4 tazas
- B. 1.5 tazas
- C. 4 Pintas
- D. 1 galón



**Determina cuál letra mejor representa el volúmen.**

**Respuestas**

**Xícara**

Una taza se refiere a la cantidad de leche que se obtiene de la cafetería.



**Pinta**

Uma pinta é aproximadamente a quantidade que você recebe em um copo grande.  
1 pinta = 2 xícaras



**Quarto**

Um quarto é mais ou menos a quantidade que você consegue em um recipiente grande de leite.  
1 cuarto = 2 pintas




**Galón**

Un galón es la cantidad que viene en un recipiente de plástico grande.  
1 galón = 4 cuartos



1)



Agua que cabe en un barril

- A. 20 tazas
- B. 10 Pintas
- C. 3 pulgadas
- D. 50 galones


2)



Tanque de gasolina en un auto

- A. 3 cuartos
- B. 4 Pintas
- C. 15 galones
- D. 16 tazas

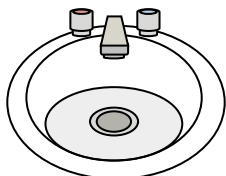
3)



Arena que cabe en una carretilla

- A. 8 cuartos
- B. 45 galones
- C. 1000 gramos
- D. 4 tazas

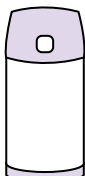
4)



Agua en un lavamanos

- A. 2 onzas líquidas
- B. 2 galones
- C. 2 tazas
- D. 2 Pintas

5)



Líquido en un termo

- A. 1 taza
- B. 1 galón
- C. 2 libras
- D. 4 cuartos


6)



Líquido en una cuchara

- A. 1 taza
- B. Less than a cup
- C. 1 Pinta
- D. 1 cuarto

7)



Líquido en una jarra

- A. 1 Pinta
- B. 2 cuartos
- C. 2 tazas
- D. 8 galones

8)



Tinta en una pluma

- A. 1 galón
- B. 2 Pintas
- C. menor que 1 taza
- D. 1 cuarto

9)



Soda en una lata

- A. 4 tazas
- B. 1.5 tazas
- C. 4 Pintas
- D. 1 galón

- 1.   **D**
- 2.   **C**
- 3.   **B**
- 4.   **B**
- 5.   **A**
- 6.   **B**
- 7.   **B**
- 8.   **C**
- 9.   **B**