



Determina cuál letra mejor representa el volúmen.

Respuestas

Xícara

Una taza se refiere a la cantidad de leche que se obtiene de la cafetería.



Pinta

Uma pinta é aproximadamente a quantidade que você recebe em um copo grande.
1 pinta = 2 xícaras



Quarto

Um quarto é mais ou menos a quantidade que você consegue em um recipiente grande de leite.
1 cuarto = 2 pintas



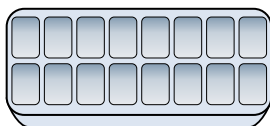
Galón

Un galón es la cantidad que viene en un recipiente de plástico grande.
1 galón = 4 cuartos



1. _____
2. _____
3. _____
4. _____
5. _____
6. _____
7. _____
8. _____
9. _____

1)



Agua en una hielera

- A. 10 galones
- B. 1 Pinta
- C. 4 Pintas
- D. 1 galón

2)



Soda en una lata

- A. 1.5 tazas
- B. 4 tazas
- C. 4 Pintas
- D. 1 galón


3)



Taza de medición

- A. 1 cuarto
- B. 1 Pinta
- C. 1 galón
- D. 1 taza


4)



Arena que cabe en una carretilla

- A. 4 tazas
- B. 1000 gramos
- C. 45 galones
- D. 8 cuartos


5)



Tanque de gasolina en un auto

- A. 16 tazas
- B. 4 Pintas
- C. 15 galones
- D. 3 cuartos

6)



cuentagotas

- A. menor que 1 taza
- B. 1 taza
- C. 3 galones
- D. 1 Pinta

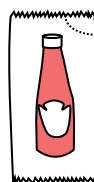
7)



2 litros de Soda

- A. 2 tazas
- B. 1 Pinta
- C. 0.5 galones
- D. 5 galones

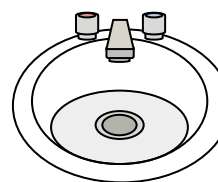
8)



Ketchup en un paquete

- A. 0.5 galones
- B. menor que 1 taza
- C. 1.5 Pintas
- D. 2 cuartos

9)



Agua en un lavamanos

- A. 2 tazas
- B. 2 galones
- C. 2 Pintas
- D. 2 onzas líquidas



Determina cuál letra mejor representa el volúmen.

Respuestas

Xícara

Una taza se refiere a la cantidad de leche que se obtiene de la cafetería.



Pinta

Uma pinta é aproximadamente a quantidade que você recebe em um copo grande.
1 pinta = 2 xícaras



Quarto

Um quarto é mais ou menos a quantidade que você consegue em um recipiente grande de leite.
1 cuarto = 2 pintas



Galón

Un galón es la cantidad que viene en un recipiente de plástico grande.
1 galón = 4 cuartos



1. **B**

2. **A**

3. **D**

4. **C**

5. **C**

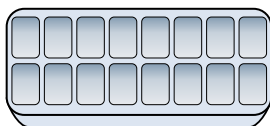
6. **A**

7. **C**

8. **B**

9. **B**


1)



Agua en una hielera

- A. 10 galones
- B. 1 Pinta
- C. 4 Pintas
- D. 1 galón

2)



Soda en una lata

- A. 1.5 tazas
- B. 4 tazas
- C. 4 Pintas
- D. 1 galón


3)



Taza de medición

- A. 1 cuarto
- B. 1 Pinta
- C. 1 galón
- D. 1 taza


4)



Arena que cabe en una carretilla

- A. 4 tazas
- B. 1000 gramos
- C. 45 galones
- D. 8 cuartos


5)



Tanque de gasolina en un auto

- A. 16 tazas
- B. 4 Pintas
- C. 15 galones
- D. 3 cuartos

6)



cuentagotas

- A. menor que 1 taza
- B. 1 taza
- C. 3 galones
- D. 1 Pinta

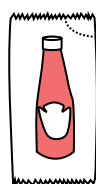
7)



2 litros de Soda

- A. 2 tazas
- B. 1 Pinta
- C. 0.5 galones
- D. 5 galones

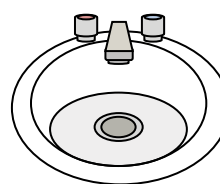
8)



Ketchup en un paquete

- A. 0.5 galones
- B. menor que 1 taza
- C. 1.5 Pintas
- D. 2 cuartos

9)



Agua en un lavamanos

- A. 2 tazas
- B. 2 galones
- C. 2 Pintas
- D. 2 onzas líquidas