



Determina cuál letra mejor representa el volúmen.

Respuestas

Xícara

Una taza se refiere a la cantidad de leche que se obtiene de la cafetería.



Pinta

Uma pinta é aproximadamente a quantidade que você recebe em um copo grande.
1 pinta = 2 xícaras



Quarto

Um quarto é mais ou menos a quantidade que você consegue em um recipiente grande de leite.
1 cuarto = 2 pintas

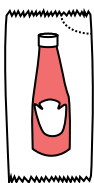


Galón

Un galón es la cantidad que viene en un recipiente de plástico grande.
1 galón = 4 cuartos




1)



Ketchup en un paquete

- A. 1.5 Pintas
- B. 2 cuartos
- C. 0.5 galones
- D. menor que 1 taza

2)



Cubeta de hielo

- A. 2 cuartos
- B. 16 tazas
- C. 100 cuartos
- D. 5 galones


3)



Arena en un cubo

- A. 1 taza
- B. 1 galón
- C. 32 galones
- D. 7 onzas líquidas

4)



Agua que cabe en un barril

- A. 20 tazas
- B. 3 pulgadas
- C. 50 galones
- D. 10 Pintas

5)



Plato de Cereal

- A. 4 Pintas
- B. 0.5 galones
- C. 1 Pinta
- D. 2 galones

6)



2 litros de Soda

- A. 5 galones
- B. 0.5 galones
- C. 2 tazas
- D. 1 Pinta

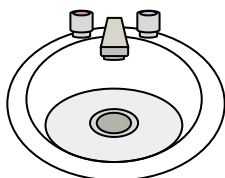
7)



Tinta en una pluma

- A. 2 Pintas
- B. 1 galón
- C. menor que 1 taza
- D. 1 cuarto

8)



Agua en un lavamanos

- A. 2 tazas
- B. 2 galones
- C. 2 Pintas
- D. 2 onzas líquidas

9)



Líquido en una cuchara

- A. 1 cuarto
- B. 1 taza
- C. 1 Pinta
- D. Less than a cup

1. _____
2. _____
3. _____
4. _____
5. _____
6. _____
7. _____
8. _____
9. _____



Determina cuál letra mejor representa el volúmen.

Respuestas

Xícara

Una taza se refiere a la cantidad de leche que se obtiene de la cafetería.



Pinta

Uma pinta é aproximadamente a quantidade que você recebe em um copo grande.
1 pinta = 2 xícaras



Quarto

Um quarto é mais ou menos a quantidade que você consegue em um recipiente grande de leite.
1 cuarto = 2 pintas

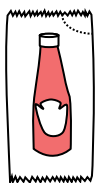


Galón

Un galón es la cantidad que viene en un recipiente de plástico grande.
1 galón = 4 cuartos




1)



Ketchup en un paquete

- A. 1.5 Pintas
- B. 2 cuartos
- C. 0.5 galones
- D. menor que 1 taza

2)



Cubeta de hielo

- A. 2 cuartos
- B. 16 tazas
- C. 100 cuartos
- D. 5 galones


3)



Arena en un cubo

- A. 1 taza
- B. 1 galón
- C. 32 galones
- D. 7 onzas líquidas

4)



Agua que cabe en un barril

- A. 20 tazas
- B. 3 pulgadas
- C. 50 galones
- D. 10 Pintas

5)



Plato de Cereal

- A. 4 Pintas
- B. 0.5 galones
- C. 1 Pinta
- D. 2 galones

6)



2 litros de Soda

- A. 5 galones
- B. 0.5 galones
- C. 2 tazas
- D. 1 Pinta

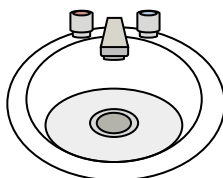
7)



Tinta en una pluma

- A. 2 Pintas
- B. 1 galón
- C. menor que 1 taza
- D. 1 cuarto

8)



Agua en un lavamanos

- A. 2 tazas
- B. 2 galones
- C. 2 Pintas
- D. 2 onzas líquidas

9)



Líquido en una cuchara

- A. 1 cuarto
- B. 1 taza
- C. 1 Pinta
- D. Less than a cup

- 1. **D**
- 2. **C**
- 3. **B**
- 4. **C**
- 5. **C**
- 6. **B**
- 7. **C**
- 8. **B**
- 9. **D**



Determina cuál letra mejor representa el volúmen.

Respuestas

Xícara

Una taza se refiere a la cantidad de leche que se obtiene de la cafetería.



Pinta

Uma pinta é aproximadamente a quantidade que você recebe em um copo grande.
1 pinta = 2 xícaras



Quarto

Um quarto é mais ou menos a quantidade que você consegue em um recipiente grande de leite.
1 cuarto = 2 pintas




Galón

Un galón es la cantidad que viene en un recipiente de plástico grande.
1 galón = 4 cuartos



1. _____
2. _____
3. _____
4. _____
5. _____
6. _____
7. _____
8. _____
9. _____

1)



Agua que cabe en un barril

- A. 50 galones
- B. 20 tazas
- C. 3 pulgadas
- D. 10 Pintas

2)



Soda en una lata

- A. 4 tazas
- B. 1 galón
- C. 4 Pintas
- D. 1.5 tazas

3)



Harina en un lote de galletas

- A. 5 galones
- B. 2 cuartos
- C. 1.5 tazas
- D. 2 galones

4)



Arena en un cubo

- A. 7 onzas líquidas
- B. 1 taza
- C. 1 galón
- D. 32 galones

5)



Taza de medición

- A. 1 taza
- B. 1 galón
- C. 1 cuarto
- D. 1 Pinta


6)



Harina en una sartén de brownies

- A. 3 galones
- B. 2 tazas
- C. 8 galones
- D. 16 cuartos

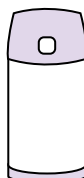
7)



Arena que cabe en una carretilla

- A. 8 cuartos
- B. 45 galones
- C. 1000 gramos
- D. 4 tazas

8)



Líquido en un termo

- A. 1 taza
- B. 1 galón
- C. 2 libras
- D. 4 cuartos

9)



Agua para una planta de la casa

- A. 3 galones
- B. 6 cuartos
- C. 4 libras
- D. 2 tazas



Determina cuál letra mejor representa el volúmen.

Respuestas

Xícara

Una taza se refiere a la cantidad de leche que se obtiene de la cafetería.



Pinta

Uma pinta é aproximadamente a quantidade que você recebe em um copo grande.
1 pinta = 2 xícaras



Quarto

Um quarto é mais ou menos a quantidade que você consegue em um recipiente grande de leite.
1 cuarto = 2 pintas




Galón

Un galón es la cantidad que viene en un recipiente de plástico grande.
1 galón = 4 cuartos



1)



Agua que cabe en un barril

- A. 50 galones
- B. 20 tazas
- C. 3 pulgadas
- D. 10 Pintas

2)



Soda en una lata

- A. 4 tazas
- B. 1 galón
- C. 4 Pintas
- D. 1.5 tazas

3)



Harina en un lote de galletas

- A. 5 galones
- B. 2 cuartos
- C. 1.5 tazas
- D. 2 galones

4)



Arena en un cubo

- A. 7 onzas líquidas
- B. 1 taza
- C. 1 galón
- D. 32 galones

5)



Taza de medición

- A. 1 taza
- B. 1 galón
- C. 1 cuarto
- D. 1 Pinta


6)



Harina en una sartén de brownies

- A. 3 galones
- B. 2 tazas
- C. 8 galones
- D. 16 cuartos

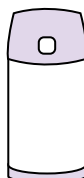
7)



Arena que cabe en una carretilla

- A. 8 cuartos
- B. 45 galones
- C. 1000 gramos
- D. 4 tazas

8)



Líquido en un termo

- A. 1 taza
- B. 1 galón
- C. 2 libras
- D. 4 cuartos

9)



Agua para una planta de la casa

- A. 3 galones
- B. 6 cuartos
- C. 4 libras
- D. 2 tazas

- 1. **A**
- 2. **D**
- 3. **C**
- 4. **C**
- 5. **A**
- 6. **B**
- 7. **B**
- 8. **A**
- 9. **D**



Determina cuál letra mejor representa el volúmen.

Respuestas

Xícara

Una taza se refiere a la cantidad de leche que se obtiene de la cafetería.



Pinta

Uma pinta é aproximadamente a quantidade que você recebe em um copo grande.
1 pinta = 2 xícaras



Quarto

Um quarto é mais ou menos a quantidade que você consegue em um recipiente grande de leite.
1 cuarto = 2 pintas



Galón

Un galón es la cantidad que viene en un recipiente de plástico grande.
1 galón = 4 cuartos



1. _____
2. _____
3. _____
4. _____
5. _____
6. _____
7. _____
8. _____
9. _____

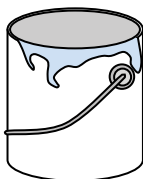
1)



Pasta de dientes en un tubo

- A. 0.5 tazas
- B. 0.5 galones
- C. 5 cuartos
- D. 5 gramos

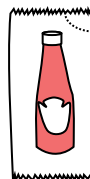
2)



Pintura en un bote

- A. 0.5 Pintas
- B. 3 onzas líquidas
- C. 1 galón
- D. 1 taza

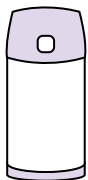
3)



Ketchup en un paquete

- A. 2 cuartos
- B. menor que 1 taza
- C. 1.5 Pintas
- D. 0.5 galones


4)



Líquido en un termo

- A. 1 galón
- B. 1 taza
- C. 2 libras
- D. 4 cuartos

5)



Shampoo en una botella

- A. 2 Pintas
- B. 0.5 galones
- C. 100 tazas
- D. 1 taza

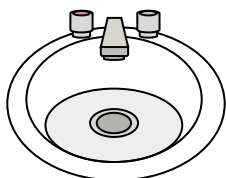
6)



Pegamento en una botella

- A. 0.5 tazas
- B. 2 cuartos
- C. 1 Pinta
- D. 3 galones

7)



Agua en un lavamanos

- A. 2 galones
- B. 2 onzas líquidas
- C. 2 Pintas
- D. 2 tazas


8)



Líquido en una taza de te

- A. 1 taza
- B. 1 galón
- C. 1 cuarto
- D. 1 Pinta

9)



Arena que cabe en una carretilla

- A. 45 galones
- B. 1000 gramos
- C. 4 tazas
- D. 8 cuartos



Determina cuál letra mejor representa el volúmen.

Respuestas

Xícara

Una taza se refiere a la cantidad de leche que se obtiene de la cafetería.



Pinta

Uma pinta é aproximadamente a quantidade que você recebe em um copo grande.
1 pinta = 2 xícaras



Quarto

Um quarto é mais ou menos a quantidade que você consegue em um recipiente grande de leite.
1 cuarto = 2 pintas



Galón

Un galón es la cantidad que viene en un recipiente de plástico grande.
1 galón = 4 cuartos



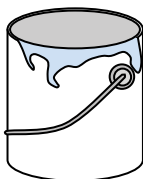
1)



Pasta de dientes en un tubo

- A. 0.5 tazas
- B. 0.5 galones
- C. 5 cuartos
- D. 5 gramos

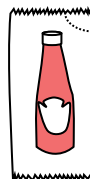
2)



Pintura en un bote

- A. 0.5 Pintas
- B. 3 onzas líquidas
- C. 1 galón
- D. 1 taza

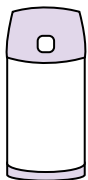
3)



Ketchup en un paquete

- A. 2 cuartos
- B. menor que 1 taza
- C. 1.5 Pintas
- D. 0.5 galones


4)



Líquido en un termo

- A. 1 galón
- B. 1 taza
- C. 2 libras
- D. 4 cuartos

5)



Shampoo en una botella

- A. 2 Pintas
- B. 0.5 galones
- C. 100 tazas
- D. 1 taza

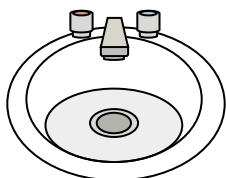
6)



Pegamento en una botella

- A. 0.5 tazas
- B. 2 cuartos
- C. 1 Pinta
- D. 3 galones

7)



Agua en un lavamanos

- A. 2 galones
- B. 2 onzas líquidas
- C. 2 Pintas
- D. 2 tazas


8)



Líquido en una taza de te

- A. 1 taza
- B. 1 galón
- C. 1 cuarto
- D. 1 Pinta

9)



Arena que cabe en una carretilla

- A. 45 galones
- B. 1000 gramos
- C. 4 tazas
- D. 8 cuartos

- 1. **A**
- 2. **C**
- 3. **B**
- 4. **B**
- 5. **A**
- 6. **A**
- 7. **A**
- 8. **A**
- 9. **A**



Determina cuál letra mejor representa el volúmen.

Respuestas

Xícara

Una taza se refiere a la cantidad de leche que se obtiene de la cafetería.



Pinta

Uma pinta é aproximadamente a quantidade que você recebe em um copo grande.
1 pinta = 2 xícaras



Quarto

Um quarto é mais ou menos a quantidade que você consegue em um recipiente grande de leite.
1 cuarto = 2 pintas



Galón

Un galón es la cantidad que viene en un recipiente de plástico grande.
1 galón = 4 cuartos



1. _____
2. _____
3. _____
4. _____
5. _____
6. _____
7. _____
8. _____
9. _____

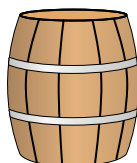
1)



Agua para una planta de la casa

- A. 3 galones
- B. 2 tazas
- C. 6 cuartos
- D. 4 libras

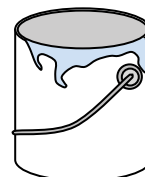
2)



Agua que cabe en un barril

- A. 20 tazas
- B. 50 galones
- C. 3 pulgadas
- D. 10 Pintas

3)



Pintura en un bote

- A. 3 onzas líquidas
- B. 1 taza
- C. 1 galón
- D. 0.5 Pintas

4)



Tinta en una pluma

- A. 1 cuarto
- B. menor que 1 taza
- C. 1 galón
- D. 2 Pintas


5)



Plato de Cereal

- A. 2 galones
- B. 1 Pinta
- C. 4 Pintas
- D. 0.5 galones

6)



Liquido en un termo

- A. 2 libras
- B. 4 cuartos
- C. 1 galón
- D. 1 taza

7)



Liquido en una taza de te

- A. 1 Pinta
- B. 1 cuarto
- C. 1 taza
- D. 1 galón


8)



Harina en un lote de galletas

- A. 2 cuartos
- B. 1.5 tazas
- C. 2 galones
- D. 5 galones

9)



Liquido en una jarra

- A. 1 Pinta
- B. 2 cuartos
- C. 8 galones
- D. 2 tazas



Determina cuál letra mejor representa el volúmen.

Respuestas

Xícara

Una taza se refiere a la cantidad de leche que se obtiene de la cafetería.



Pinta

Uma pinta é aproximadamente a quantidade que você recebe em um copo grande.
1 pinta = 2 xícaras



Quarto

Um quarto é mais ou menos a quantidade que você consegue em um recipiente grande de leite.
1 cuarto = 2 pintas



Galón

Un galón es la cantidad que viene en un recipiente de plástico grande.
1 galón = 4 cuartos



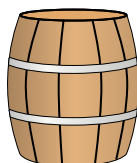
1)



Agua para una planta de la casa

- A. 3 galones
- B. 2 tazas
- C. 6 cuartos
- D. 4 libras

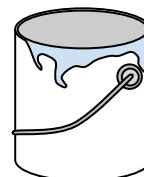
2)



Agua que cabe en un barril

- A. 20 tazas
- B. 50 galones
- C. 3 pulgadas
- D. 10 Pintas

3)



Pintura en un bote

- A. 3 onzas líquidas
- B. 1 taza
- C. 1 galón
- D. 0.5 Pintas

4)



Tinta en una pluma

- A. 1 cuarto
- B. menor que 1 taza
- C. 1 galón
- D. 2 Pintas


5)



Plato de Cereal

- A. 2 galones
- B. 1 Pinta
- C. 4 Pintas
- D. 0.5 galones

6)



Líquido en un termo

- A. 2 libras
- B. 4 cuartos
- C. 1 galón
- D. 1 taza

7)



Líquido en una taza de te

- A. 1 Pinta
- B. 1 cuarto
- C. 1 taza
- D. 1 galón


8)



Harina en un lote de galletas

- A. 2 cuartos
- B. 1.5 tazas
- C. 2 galones
- D. 5 galones

9)



Líquido en una jarra

- A. 1 Pinta
- B. 2 cuartos
- C. 8 galones
- D. 2 tazas

- 1. **B**
- 2. **B**
- 3. **C**
- 4. **B**
- 5. **B**
- 6. **D**
- 7. **C**
- 8. **B**
- 9. **B**



Determina cuál letra mejor representa el volúmen.

Respuestas

Xícara

Una taza se refiere a la cantidad de leche que se obtiene de la cafetería.



Pinta

Uma pinta é aproximadamente a quantidade que você recebe em um copo grande.
1 pinta = 2 xícaras



Quarto

Um quarto é mais ou menos a quantidade que você consegue em um recipiente grande de leite.
1 cuarto = 2 pintas




Galón

Un galón es la cantidad que viene en un recipiente de plástico grande.
1 galón = 4 cuartos



1)



Tanque de gasolina en un auto

- A. 16 tazas
- B. 4 Pintas
- C. 3 cuartos
- D. 15 galones

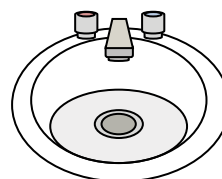
2)



Pasta de dientes en un tubo

- A. 0.5 galones
- B. 5 gramos
- C. 5 cuartos
- D. 0.5 tazas

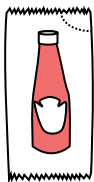
3)



Agua en un lavamanos

- A. 2 Pintas
- B. 2 onzas líquidas
- C. 2 galones
- D. 2 tazas

4)



Ketchup en un paquete

- A. 2 cuartos
- B. 0.5 galones
- C. menor que 1 taza
- D. 1.5 Pintas


5)



Pegamento en una botella

- A. 1 Pinta
- B. 3 galones
- C. 0.5 tazas
- D. 2 cuartos

6)



Arena que cabe en una carretilla

- A. 45 galones
- B. 1000 gramos
- C. 8 cuartos
- D. 4 tazas

7)



Arena en un cubo

- A. 7 onzas líquidas
- B. 1 galón
- C. 32 galones
- D. 1 taza

8)



Líquido en una cuchara

- A. Less than a cup
- B. 1 taza
- C. 1 Pinta
- D. 1 cuarto

9)



Soda en una lata

- A. 1 galón
- B. 1.5 tazas
- C. 4 tazas
- D. 4 Pintas

- 1. _____
- 2. _____
- 3. _____
- 4. _____
- 5. _____
- 6. _____
- 7. _____
- 8. _____
- 9. _____



Determina cuál letra mejor representa el volúmen.

Respuestas

Xícara

Una taza se refiere a la cantidad de leche que se obtiene de la cafetería.



Pinta

Uma pinta é aproximadamente a quantidade que você recebe em um copo grande.
1 pinta = 2 xícaras



Quarto

Um quarto é mais ou menos a quantidade que você consegue em um recipiente grande de leite.
1 cuarto = 2 pintas




Galón

Un galón es la cantidad que viene en un recipiente de plástico grande.
1 galón = 4 cuartos



1)



Tanque de gasolina en un auto

- A. 16 tazas
- B. 4 Pintas
- C. 3 cuartos
- D. 15 galones

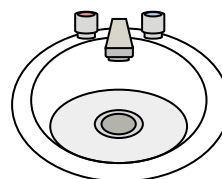
2)



Pasta de dientes en un tubo

- A. 0.5 galones
- B. 5 gramos
- C. 5 cuartos
- D. 0.5 tazas

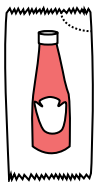
3)



Agua en un lavamanos

- A. 2 Pintas
- B. 2 onzas líquidas
- C. 2 galones
- D. 2 tazas

4)



Ketchup en un paquete

- A. 2 cuartos
- B. 0.5 galones
- C. menor que 1 taza
- D. 1.5 Pintas


5)



Pegamento en una botella

- A. 1 Pinta
- B. 3 galones
- C. 0.5 tazas
- D. 2 cuartos

6)



Arena que cabe en una carretilla

- A. 45 galones
- B. 1000 gramos
- C. 8 cuartos
- D. 4 tazas

7)



Arena en un cubo

- A. 7 onzas líquidas
- B. 1 galón
- C. 32 galones
- D. 1 taza

8)



Líquido en una cuchara

- A. Less than a cup
- B. 1 taza
- C. 1 Pinta
- D. 1 cuarto

9)



Soda en una lata

- A. 1 galón
- B. 1.5 tazas
- C. 4 tazas
- D. 4 Pintas

1. **D**

2. **D**

3. **C**

4. **C**

5. **C**

6. **A**

7. **B**

8. **A**

9. **B**



Determina cuál letra mejor representa el volúmen.

Respuestas

Xícara

Una taza se refiere a la cantidad de leche que se obtiene de la cafetería.



Pinta

Uma pinta é aproximadamente a quantidade que você recebe em um copo grande.
1 pinta = 2 xícaras



Quarto

Um quarto é mais ou menos a quantidade que você consegue em um recipiente grande de leite.
1 cuarto = 2 pintas



Galón

Un galón es la cantidad que viene en un recipiente de plástico grande.
1 galón = 4 cuartos



1. _____
2. _____
3. _____
4. _____
5. _____
6. _____
7. _____
8. _____
9. _____


1)



Pegamento en una botella

- A. 1 Pinta
- B. 3 galones
- C. 2 cuartos
- D. 0.5 tazas


2)



Arena que cabe en una carretilla

- A. 8 cuartos
- B. 45 galones
- C. 4 tazas
- D. 1000 gramos

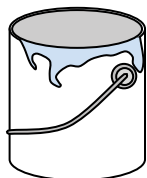
3)



Cubeta de hielo

- A. 16 tazas
- B. 2 cuartos
- C. 100 cuartos
- D. 5 galones

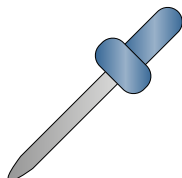
4)



Pintura en un bote

- A. 3 onzas líquidas
- B. 1 taza
- C. 0.5 Pintas
- D. 1 galón

5)



cuentagotas

- A. 3 galones
- B. 1 Pinta
- C. menor que 1 taza
- D. 1 taza

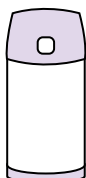
6)



Pasta de dientes en un tubo

- A. 0.5 tazas
- B. 5 gramos
- C. 5 cuartos
- D. 0.5 galones

7)



Líquido en un termo

- A. 1 galón
- B. 1 taza
- C. 4 cuartos
- D. 2 libras

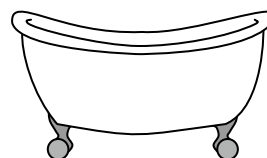
8)



Arena en un cubo

- A. 32 galones
- B. 1 taza
- C. 1 galón
- D. 7 onzas líquidas

9)



Bañera

- A. 20 Pintas
- B. 45 galones
- C. 40 tazas
- D. 8 cuartos



Determina cuál letra mejor representa el volúmen.

Respuestas

Xícara

Una taza se refiere a la cantidad de leche que se obtiene de la cafetería.



Pinta

Uma pinta é aproximadamente a quantidade que você recebe em um copo grande.
1 pinta = 2 xícaras



Quarto

Um quarto é mais ou menos a quantidade que você consegue em um recipiente grande de leite.
1 cuarto = 2 pintas



Galón

Un galón es la cantidad que viene en un recipiente de plástico grande.
1 galón = 4 cuartos



1. **D**

2. **B**

3. **C**

4. **D**

5. **C**

6. **A**

7. **B**

8. **C**

9. **B**


1)



Pegamento en una botella

- A. 1 Pinta
- B. 3 galones
- C. 2 cuartos
- D. 0.5 tazas


2)



Arena que cabe en una carretilla

- A. 8 cuartos
- B. 45 galones
- C. 4 tazas
- D. 1000 gramos

3)



Cubeta de hielo

- A. 16 tazas
- B. 2 cuartos
- C. 100 cuartos
- D. 5 galones

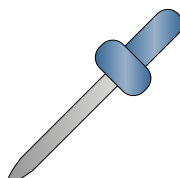
4)



Pintura en un bote

- A. 3 onzas líquidas
- B. 1 taza
- C. 0.5 Pintas
- D. 1 galón

5)



cuentagotas

- A. 3 galones
- B. 1 Pinta
- C. menor que 1 taza
- D. 1 taza

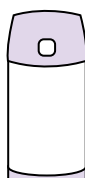
6)



Pasta de dientes en un tubo

- A. 0.5 tazas
- B. 5 gramos
- C. 5 cuartos
- D. 0.5 galones

7)



Líquido en un termo

- A. 1 galón
- B. 1 taza
- C. 4 cuartos
- D. 2 libras

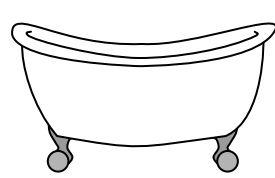
8)



Arena en un cubo

- A. 32 galones
- B. 1 taza
- C. 1 galón
- D. 7 onzas líquidas

9)



Bañera

- A. 20 Pintas
- B. 45 galones
- C. 40 tazas
- D. 8 cuartos



Determina cuál letra mejor representa el volúmen.

Respuestas

Xícara

Una taza se refiere a la cantidad de leche que se obtiene de la cafetería.



Pinta

Uma pinta é aproximadamente a quantidade que você recebe em um copo grande.
1 pinta = 2 xícaras



Quarto

Um quarto é mais ou menos a quantidade que você consegue em um recipiente grande de leite.
1 cuarto = 2 pintas




Galón

Un galón es la cantidad que viene en un recipiente de plástico grande.
1 galón = 4 cuartos



1. _____
2. _____
3. _____
4. _____
5. _____
6. _____
7. _____
8. _____
9. _____


1)



Agua que cabe en un barril

- A. 20 tazas
- B. 10 Pintas
- C. 3 pulgadas
- D. 50 galones


2)



Tanque de gasolina en un auto

- A. 3 cuartos
- B. 4 Pintas
- C. 15 galones
- D. 16 tazas

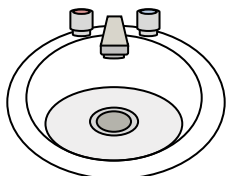
3)



Arena que cabe en una carretilla

- A. 8 cuartos
- B. 45 galones
- C. 1000 gramos
- D. 4 tazas

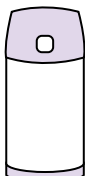
4)



Agua en un lavamanos

- A. 2 onzas líquidas
- B. 2 galones
- C. 2 tazas
- D. 2 Pintas

5)



Líquido en un termo

- A. 1 taza
- B. 1 galón
- C. 2 libras
- D. 4 cuartos


6)



Líquido en una cuchara

- A. 1 taza
- B. Less than a cup
- C. 1 Pinta
- D. 1 cuarto

7)



Líquido en una jarra

- A. 1 Pinta
- B. 2 cuartos
- C. 2 tazas
- D. 8 galones

8)



Tinta en una pluma

- A. 1 galón
- B. 2 Pintas
- C. menor que 1 taza
- D. 1 cuarto

9)



Soda en una lata

- A. 4 tazas
- B. 1.5 tazas
- C. 4 Pintas
- D. 1 galón



Determina cuál letra mejor representa el volúmen.

Respuestas

Xícara

Una taza se refiere a la cantidad de leche que se obtiene de la cafetería.



Pinta

Uma pinta é aproximadamente a quantidade que você recebe em um copo grande.
1 pinta = 2 xícaras



Quarto

Um quarto é mais ou menos a quantidade que você consegue em um recipiente grande de leite.
1 cuarto = 2 pintas




Galón

Un galón es la cantidad que viene en un recipiente de plástico grande.
1 galón = 4 cuartos



1)



Agua que cabe en un barril

- A. 20 tazas
- B. 10 Pintas
- C. 3 pulgadas
- D. 50 galones


2)



Tanque de gasolina en un auto

- A. 3 cuartos
- B. 4 Pintas
- C. 15 galones
- D. 16 tazas

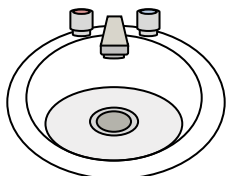
3)



Arena que cabe en una carretilla

- A. 8 cuartos
- B. 45 galones
- C. 1000 gramos
- D. 4 tazas

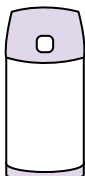
4)



Agua en un lavamanos

- A. 2 onzas líquidas
- B. 2 galones
- C. 2 tazas
- D. 2 Pintas

5)



Líquido en un termo

- A. 1 taza
- B. 1 galón
- C. 2 libras
- D. 4 cuartos


6)



Líquido en una cuchara

- A. 1 taza
- B. Less than a cup
- C. 1 Pinta
- D. 1 cuarto

7)



Líquido en una jarra

- A. 1 Pinta
- B. 2 cuartos
- C. 2 tazas
- D. 8 galones

8)



Tinta en una pluma

- A. 1 galón
- B. 2 Pintas
- C. menor que 1 taza
- D. 1 cuarto

9)



Soda en una lata

- A. 4 tazas
- B. 1.5 tazas
- C. 4 Pintas
- D. 1 galón

- 1. **D**
- 2. **C**
- 3. **B**
- 4. **B**
- 5. **A**
- 6. **B**
- 7. **B**
- 8. **C**
- 9. **B**



Determina cuál letra mejor representa el volúmen.

Respuestas

Xícara

Una taza se refiere a la cantidad de leche que se obtiene de la cafetería.



Pinta

Uma pinta é aproximadamente a quantidade que você recebe em um copo grande.
1 pinta = 2 xícaras




Quarto

Um quarto é mais ou menos a quantidade que você consegue em um recipiente grande de leite.
1 cuarto = 2 pintas



Galón

Un galón es la cantidad que viene en un recipiente de plástico grande.
1 galón = 4 cuartos



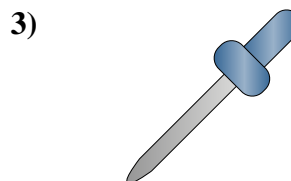
Bañera

- A. 40 tazas
- B. 20 Pintas
- C. 45 galones
- D. 8 cuartos



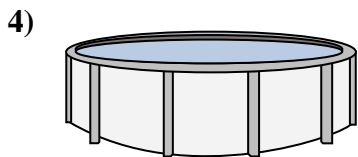
Arena en un cubo

- A. 32 galones
- B. 1 galón
- C. 1 taza
- D. 7 onzas líquidas



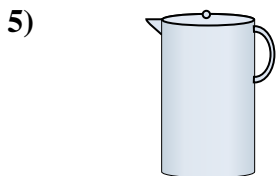
cuentagotas

- A. 3 galones
- B. 1 taza
- C. menor que 1 taza
- D. 1 Pinta



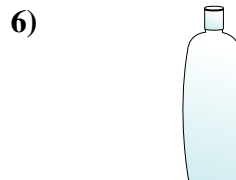
Agua en una piscina

- A. 5000 pies
- B. 25 tazas
- C. 20 galones
- D. 3000 galones




Líquido en una jarra

- A. 1 Pinta
- B. 8 galones
- C. 2 tazas
- D. 2 cuartos



Shampoo en una botella

- A. 0.5 galones
- B. 100 tazas
- C. 1 taza
- D. 2 Pintas




Ketchup en un paquete

- A. 0.5 galones
- B. 1.5 Pintas
- C. menor que 1 taza
- D. 2 cuartos



Agua para una planta de la casa

- A. 6 cuartos
- B. 4 libras
- C. 2 tazas
- D. 3 galones



Agua que cabe en un barril

- A. 3 pulgadas
- B. 10 Pintas
- C. 20 tazas
- D. 50 galones

- 1. _____
- 2. _____
- 3. _____
- 4. _____
- 5. _____
- 6. _____
- 7. _____
- 8. _____
- 9. _____



Determina cuál letra mejor representa el volúmen.

Respuestas

Xícara

Una taza se refiere a la cantidad de leche que se obtiene de la cafetería.



Pinta

Uma pinta é aproximadamente a quantidade que você recebe em um copo grande.
1 pinta = 2 xícaras




Quarto

Um quarto é mais ou menos a quantidade que você consegue em um recipiente grande de leite.
1 cuarto = 2 pintas



Galón

Un galón es la cantidad que viene en un recipiente de plástico grande.
1 galón = 4 cuartos



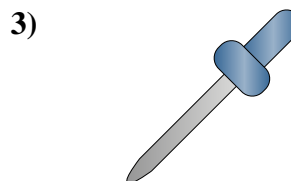
Bañera

- A. 40 tazas
- B. 20 Pintas
- C. 45 galones
- D. 8 cuartos



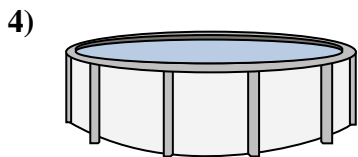
Arena en un cubo

- A. 32 galones
- B. 1 galón
- C. 1 taza
- D. 7 onzas líquidas



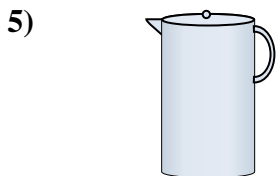
cuentagotas

- A. 3 galones
- B. 1 taza
- C. menor que 1 taza
- D. 1 Pinta



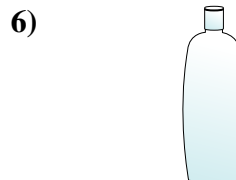
Agua en una piscina

- A. 5000 pies
- B. 25 tazas
- C. 20 galones
- D. 3000 galones



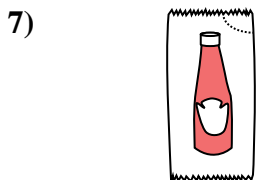
Líquido en una jarra

- A. 1 Pinta
- B. 8 galones
- C. 2 tazas
- D. 2 cuartos



Shampoo en una botella

- A. 0.5 galones
- B. 100 tazas
- C. 1 taza
- D. 2 Pintas




Ketchup en un paquete

- A. 0.5 galones
- B. 1.5 Pintas
- C. menor que 1 taza
- D. 2 cuartos



Agua para una planta de la casa

- A. 6 cuartos
- B. 4 libras
- C. 2 tazas
- D. 3 galones



Agua que cabe en un barril

- A. 3 pulgadas
- B. 10 Pintas
- C. 20 tazas
- D. 50 galones

- 1. **C**
- 2. **B**
- 3. **C**
- 4. **D**
- 5. **D**
- 6. **D**
- 7. **C**
- 8. **C**
- 9. **D**



Determina cuál letra mejor representa el volúmen.

Respuestas

Xícara

Una taza se refiere a la cantidad de leche que se obtiene de la cafetería.



Pinta

Uma pinta é aproximadamente a quantidade que você recebe em um copo grande.
1 pinta = 2 xícaras



Quarto

Um quarto é mais ou menos a quantidade que você consegue em um recipiente grande de leite.
1 cuarto = 2 pintas



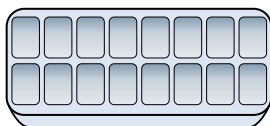
Galón

Un galón es la cantidad que viene en un recipiente de plástico grande.
1 galón = 4 cuartos



1. _____
2. _____
3. _____
4. _____
5. _____
6. _____
7. _____
8. _____
9. _____

1)



Agua en una hielera

- A. 10 galones
- B. 1 Pinta
- C. 4 Pintas
- D. 1 galón

2)



Soda en una lata

- A. 1.5 tazas
- B. 4 tazas
- C. 4 Pintas
- D. 1 galón


3)



Taza de medición

- A. 1 cuarto
- B. 1 Pinta
- C. 1 galón
- D. 1 taza


4)



Arena que cabe en una carretilla

- A. 4 tazas
- B. 1000 gramos
- C. 45 galones
- D. 8 cuartos


5)



Tanque de gasolina en un auto

- A. 16 tazas
- B. 4 Pintas
- C. 15 galones
- D. 3 cuartos

6)



cuentagotas

- A. menor que 1 taza
- B. 1 taza
- C. 3 galones
- D. 1 Pinta

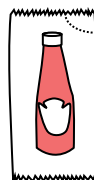
7)



2 litros de Soda

- A. 2 tazas
- B. 1 Pinta
- C. 0.5 galones
- D. 5 galones

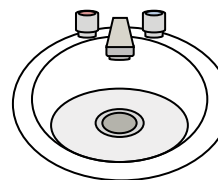
8)



Ketchup en un paquete

- A. 0.5 galones
- B. menor que 1 taza
- C. 1.5 Pintas
- D. 2 cuartos

9)



Agua en un lavamanos

- A. 2 tazas
- B. 2 galones
- C. 2 Pintas
- D. 2 onzas líquidas



Determina cuál letra mejor representa el volúmen.

Respuestas

Xícara

Una taza se refiere a la cantidad de leche que se obtiene de la cafetería.



Pinta

Uma pinta é aproximadamente a quantidade que você recebe em um copo grande.
1 pinta = 2 xícaras



Quarto

Um quarto é mais ou menos a quantidade que você consegue em um recipiente grande de leite.
1 cuarto = 2 pintas



Galón

Un galón es la cantidad que viene en un recipiente de plástico grande.
1 galón = 4 cuartos



1. **B**

2. **A**

3. **D**

4. **C**

5. **C**

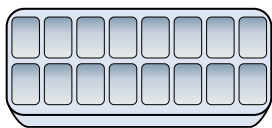
6. **A**

7. **C**

8. **B**

9. **B**


1)



Agua en una hielera

- A. 10 galones
- B. 1 Pinta
- C. 4 Pintas
- D. 1 galón

2)



Soda en una lata

- A. 1.5 tazas
- B. 4 tazas
- C. 4 Pintas
- D. 1 galón


3)



Taza de medición

- A. 1 cuarto
- B. 1 Pinta
- C. 1 galón
- D. 1 taza


4)



Arena que cabe en una carretilla

- A. 4 tazas
- B. 1000 gramos
- C. 45 galones
- D. 8 cuartos


5)



Tanque de gasolina en un auto

- A. 16 tazas
- B. 4 Pintas
- C. 15 galones
- D. 3 cuartos

6)



cuentagotas

- A. menor que 1 taza
- B. 1 taza
- C. 3 galones
- D. 1 Pinta

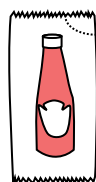
7)



2 litros de Soda

- A. 2 tazas
- B. 1 Pinta
- C. 0.5 galones
- D. 5 galones

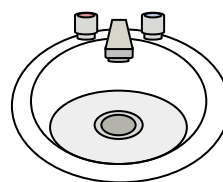
8)



Ketchup en un paquete

- A. 0.5 galones
- B. menor que 1 taza
- C. 1.5 Pintas
- D. 2 cuartos

9)



Agua en un lavamanos

- A. 2 tazas
- B. 2 galones
- C. 2 Pintas
- D. 2 onzas líquidas



Determina cuál letra mejor representa el volúmen.

Respuestas

Xícara

Una taza se refiere a la cantidad de leche que se obtiene de la cafetería.



Pinta

Uma pinta é aproximadamente a quantidade que você recebe em um copo grande.
1 pinta = 2 xícaras




Quarto

Um quarto é mais ou menos a quantidade que você consegue em um recipiente grande de leite.
1 cuarto = 2 pintas




Galón

Un galón es la cantidad que viene en un recipiente de plástico grande.
1 galón = 4 cuartos



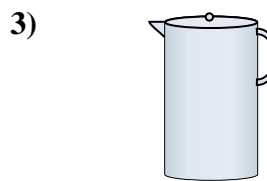
Bañera

- A. 40 tazas
- B. 8 cuartos
- C. 20 Pintas
- D. 45 galones



cuentagotas

- A. 1 Pinta
- B. 3 galones
- C. menor que 1 taza
- D. 1 taza



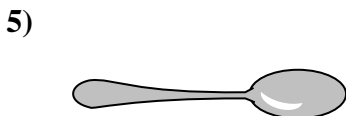
Líquido en una jarra

- A. 2 tazas
- B. 1 Pinta
- C. 2 cuartos
- D. 8 galones



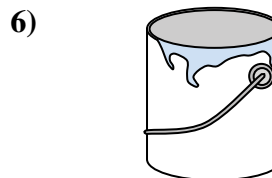
Plato de Cereal

- A. 0.5 galones
- B. 4 Pintas
- C. 2 galones
- D. 1 Pinta



Líquido en una cuchara

- A. Less than a cup
- B. 1 taza
- C. 1 Pinta
- D. 1 cuarto



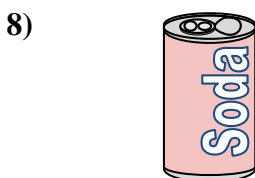
Pintura en un bote

- A. 3 onzas líquidas
- B. 1 galón
- C. 1 taza
- D. 0.5 Pintas



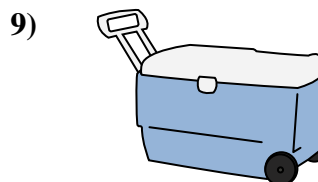
2 litros de Soda

- A. 0.5 galones
- B. 5 galones
- C. 1 Pinta
- D. 2 tazas



Soda en una lata

- A. 4 tazas
- B. 1.5 tazas
- C. 4 Pintas
- D. 1 galón



Cubeta de hielo

- A. 100 cuartos
- B. 16 tazas
- C. 5 galones
- D. 2 cuartos

- 1. _____
- 2. _____
- 3. _____
- 4. _____
- 5. _____
- 6. _____
- 7. _____
- 8. _____
- 9. _____



Determina cuál letra mejor representa el volúmen.

Respuestas

Xícara

Una taza se refiere a la cantidad de leche que se obtiene de la cafetería.



Pinta

Uma pinta é aproximadamente a quantidade que você recebe em um copo grande.
1 pinta = 2 xícaras




Quarto

Um quarto é mais ou menos a quantidade que você consegue em um recipiente grande de leite.
1 cuarto = 2 pintas




Galón

Un galón es la cantidad que viene en un recipiente de plástico grande.
1 galón = 4 cuartos



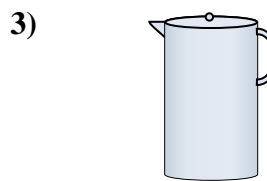
Bañera

- A. 40 tazas
- B. 8 cuartos
- C. 20 Pintas
- D. 45 galones



cuentagotas

- A. 1 Pinta
- B. 3 galones
- C. menor que 1 taza
- D. 1 taza



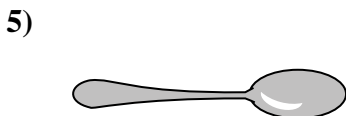
Líquido en una jarra

- A. 2 tazas
- B. 1 Pinta
- C. 2 cuartos
- D. 8 galones



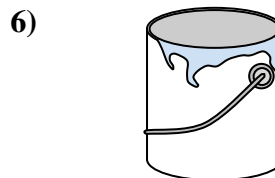
Plato de Cereal

- A. 0.5 galones
- B. 4 Pintas
- C. 2 galones
- D. 1 Pinta



Líquido en una cuchara

- A. Less than a cup
- B. 1 taza
- C. 1 Pinta
- D. 1 cuarto



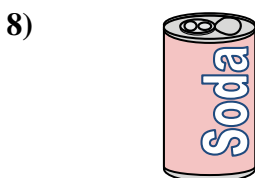
Pintura en un bote

- A. 3 onzas líquidas
- B. 1 galón
- C. 1 taza
- D. 0.5 Pintas



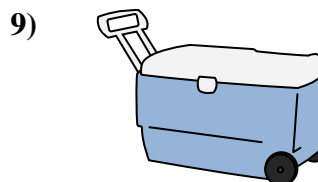
2 litros de Soda

- A. 0.5 galones
- B. 5 galones
- C. 1 Pinta
- D. 2 tazas



Soda en una lata

- A. 4 tazas
- B. 1.5 tazas
- C. 4 Pintas
- D. 1 galón



Cubeta de hielo

- A. 100 cuartos
- B. 16 tazas
- C. 5 galones
- D. 2 cuartos

- 1. **D**
- 2. **C**
- 3. **C**
- 4. **D**
- 5. **A**
- 6. **B**
- 7. **A**
- 8. **B**
- 9. **A**