



Determina cuál letra mejor representa el volúmen.

Respuestas

**Milliliter**

Un mililitro equivale a unas 20 gotas de agua.



**Liter**

Muchas botellas grandes de refrescos tienen 1 o 2 litros.

1 Liter = 1,000 Milliliters



1. \_\_\_\_\_
2. \_\_\_\_\_
3. \_\_\_\_\_
4. \_\_\_\_\_
5. \_\_\_\_\_
6. \_\_\_\_\_
7. \_\_\_\_\_
8. \_\_\_\_\_
9. \_\_\_\_\_

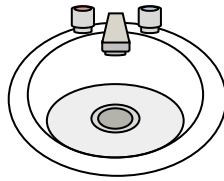
1)



Botella de Pegamento

- A. 5 litros
- B. 120 mililitros
- C. 2 litros
- D. 3 mililitros

2)



Agua en el lavabo del baño

- A. 10 mililitros
- B. 7.5 litros
- C. 500 mililitros
- D. 2 litros


3)



Shampoo en una botella

- A. 20 litros
- B. 1 mililitro
- C. 1.5 litros
- D. 20 mililitros

4)



Hielera

- A. 20 mililitros
- B. 100 mililitros
- C. 200 mililitros
- D. 100 litros


5)



Líquido en una taza de té

- A. 250 mililitros
- B. 2 litros
- C. 2 mililitros
- D. 5 litros


6)



Gotero lleno

- A. 1000 mililitros
- B. 2 mililitros
- C. 500 mililitros
- D. 2 litros

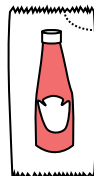
7)



carretilla de Arena

- A. 50 mililitros
- B. 3 litros
- C. 170 litros
- D. 500 mililitros


8)



Un paquete de Ketchup

- A. 500 mililitros
- B. 1 mililitro
- C. 1 litro
- D. 50 mililitros

9)



Tanque de gasolina de un coche

- A. 60 litros
- B. 70 mililitros
- C. 15 mililitros
- D. 3 litros



Determina cuál letra mejor representa el volúmen.

**Milliliter**

Un mililitro equivale a unas 20 gotas de agua.



**Liter**

Muchas botellas grandes de refrescos tienen 1 o 2 litros.

1 Liter = 1,000 Milliliters



**Respuestas**

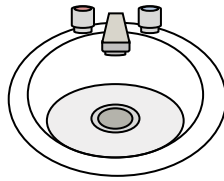
1)



Botella de Pegamento

- A. 5 litros
- B. 120 mililitros
- C. 2 litros
- D. 3 mililitros

2)



Agua en el lavabo del baño

- A. 10 mililitros
- B. 7.5 litros
- C. 500 mililitros
- D. 2 litros


3)



Shampoo en una botella

- A. 20 litros
- B. 1 mililitro
- C. 1.5 litros
- D. 20 mililitros

4)



Hielera

- A. 20 mililitros
- B. 100 mililitros
- C. 200 mililitros
- D. 100 litros


5)



Líquido en una taza de té

- A. 250 mililitros
- B. 2 litros
- C. 2 mililitros
- D. 5 litros


6)



Gotero lleno

- A. 1000 mililitros
- B. 2 mililitros
- C. 500 mililitros
- D. 2 litros

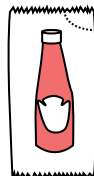
7)



carretilla de Arena

- A. 50 mililitros
- B. 3 litros
- C. 170 litros
- D. 500 mililitros


8)



Un paquete de Ketchup

- A. 500 mililitros
- B. 1 mililitro
- C. 1 litro
- D. 50 mililitros

9)



Tanque de gasolina de un coche

- A. 60 litros
- B. 70 mililitros
- C. 15 mililitros
- D. 3 litros

- 1.     **B**
- 2.     **B**
- 3.     **C**
- 4.     **D**
- 5.     **A**
- 6.     **B**
- 7.     **C**
- 8.     **B**
- 9.     **A**