



Determina cuál letra mejor representa el volúmen.

Respuestas

Milliliter

Un mililitro equivale a unas 20 gotas de agua.



Liter


Muchas botellas grandes de refrescos tienen 1 o 2 litros.

1 Liter = 1,000 Milliliters



1. _____
2. _____
3. _____
4. _____
5. _____
6. _____
7. _____
8. _____
9. _____

1)



Gotero lleno

- A. 500 mililitros
- B. 1000 mililitros
- C. 2 litros
- D. 2 mililitros

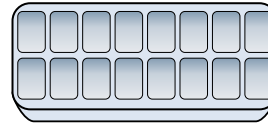
2)



Refresco en lata

- A. 2 litros
- B. 2 mililitros
- C. 350 litros
- D. 350 mililitros


3)



Agua en una bandeja de hielo

- A. 2 mililitros
- B. 50 mililitros
- C. 2 litros
- D. 0.5 litros

4)



Bañera

- A. 3 litros
- B. 500 mililitros
- C. 170 litros
- D. 5 mililitros


5)



Tinta en un bolígrafo

- A. 0.25 mililitros
- B. 2 mililitros
- C. 400 mililitros
- D. 1 litro


6)



Agua en un barril

- A. 200 mililitros
- B. 200 litros
- C. 5 mililitros
- D. 3 litros

7)



Taza medidora

- A. 50 mililitros
- B. 237 mililitros
- C. 1 litro
- D. 237 litros

8)



Shampoo en una botella

- A. 1.5 litros
- B. 1 mililitro
- C. 20 litros
- D. 20 mililitros

9)



Pasta de dientes en un tubo

- A. 1 litro
- B. 2 litros
- C. 5 mililitros
- D. 120 mililitros



Determina cuál letra mejor representa el volúmen.

Milliliter

Un mililitro equivale a unas 20 gotas de agua.



Liter


Muchas botellas grandes de refrescos tienen 1 o 2 litros.

1 Liter = 1,000 Milliliters



Respuestas

1)



Gotero lleno

- A. 500 mililitros
- B. 1000 mililitros
- C. 2 litros
- D. 2 mililitros

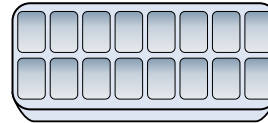
2)



Refresco en lata

- A. 2 litros
- B. 2 mililitros
- C. 350 litros
- D. 350 mililitros


3)



Agua en una bandeja de hielo

- A. 2 mililitros
- B. 50 mililitros
- C. 2 litros
- D. 0.5 litros

4)



Bañera

- A. 3 litros
- B. 500 mililitros
- C. 170 litros
- D. 5 mililitros


5)



Tinta en un bolígrafo

- A. 0.25 mililitros
- B. 2 mililitros
- C. 400 mililitros
- D. 1 litro


6)



Agua en un barril

- A. 200 mililitros
- B. 200 litros
- C. 5 mililitros
- D. 3 litros

7)



Taza medidora

- A. 50 mililitros
- B. 237 mililitros
- C. 1 litro
- D. 237 litros

8)



Shampoo en una botella

- A. 1.5 litros
- B. 1 mililitro
- C. 20 litros
- D. 20 mililitros

9)



Pasta de dientes en un tubo

- A. 1 litro
- B. 2 litros
- C. 5 mililitros
- D. 120 mililitros

- 1. **D**
- 2. **D**
- 3. **D**
- 4. **C**
- 5. **A**
- 6. **B**
- 7. **B**
- 8. **A**
- 9. **D**