




Determina cuál letra mejor representa el volúmen.

Respuestas

Milliliter

Un mililitro equivale a unas 20 gotas de agua.



Liter

Muchas botellas grandes de refrescos tienen 1 o 2 litros.

1 Liter = 1,000 Milliliters



- 1. _____
- 2. _____
- 3. _____
- 4. _____
- 5. _____
- 6. _____
- 7. _____
- 8. _____
- 9. _____

1)



Taza medidora

- A. 237 litros
- B. 1 litro
- C. 237 mililitros
- D. 50 mililitros


2)



Agua para una planta de interior

- A. 3 litros
- B. 80 litros
- C. 500 mililitros
- D. 2 mililitros

3)



Tanque de gasolina de un coche

- A. 3 litros
- B. 60 litros
- C. 15 mililitros
- D. 70 mililitros

4)



Galón de Leche

- A. 750 mililitros
- B. 3.75 litros
- C. 1 litro
- D. 50 mililitros

5)



Harina en un lote de galletas

- A. 350 mililitros
- B. 1 mililitro
- C. 2 litros
- D. 10 mililitros


6)



Tazón de cereal

- A. 475 mililitros
- B. 1 mililitro
- C. 50 mililitros
- D. 2 litros


7)



Hielera

- A. 100 litros
- B. 200 mililitros
- C. 100 mililitros
- D. 20 mililitros

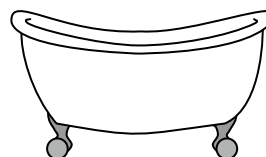
8)



Refresco en lata

- A. 350 mililitros
- B. 350 litros
- C. 2 mililitros
- D. 2 litros

9)



Bañera

- A. 170 litros
- B. 3 litros
- C. 500 mililitros
- D. 5 mililitros



Determina cuál letra mejor representa el volúmen.

Milliliter

Un mililitro equivale a unas 20 gotas de agua.



Liter

Muchas botellas grandes de refrescos tienen 1 o 2 litros.

1 Liter = 1,000 Milliliters



Respuestas

1)



Taza medidora

- A. 237 litros
- B. 1 litro
- C. 237 mililitros
- D. 50 mililitros


2)



Agua para una planta de interior

- A. 3 litros
- B. 80 litros
- C. 500 mililitros
- D. 2 mililitros

3)



Tanque de gasolina de un coche

- A. 3 litros
- B. 60 litros
- C. 15 mililitros
- D. 70 mililitros

4)



Galón de Leche

- A. 750 mililitros
- B. 3.75 litros
- C. 1 litro
- D. 50 mililitros

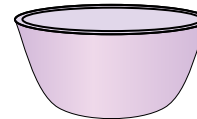
5)



Harina en un lote de galletas

- A. 350 mililitros
- B. 1 mililitro
- C. 2 litros
- D. 10 mililitros


6)



Tazón de cereal

- A. 475 mililitros
- B. 1 mililitro
- C. 50 mililitros
- D. 2 litros

7)



Hielera

- A. 100 litros
- B. 200 mililitros
- C. 100 mililitros
- D. 20 mililitros

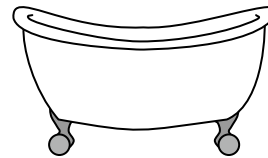
8)



Refresco en lata

- A. 350 mililitros
- B. 350 litros
- C. 2 mililitros
- D. 2 litros

9)



Bañera

- A. 170 litros
- B. 3 litros
- C. 500 mililitros
- D. 5 mililitros

- 1. **C**
- 2. **C**
- 3. **B**
- 4. **B**
- 5. **A**
- 6. **A**
- 7. **A**
- 8. **A**
- 9. **A**