



Determina cuál letra mejor representa el volúmen.

Respuestas

Milliliter

Un mililitro equivale a unas 20 gotas de agua.



Liter


Muchas botellas grandes de refrescos tienen 1 o 2 litros.

1 Liter = 1,000 Milliliters



1. _____
2. _____
3. _____
4. _____
5. _____
6. _____
7. _____
8. _____
9. _____

1)



Tanque de gasolina de un coche

- A. 15 mililitros
- B. 70 mililitros
- C. 3 litros
- D. 60 litros

2)



Líquido en una cuchara

- A. 500 mililitros
- B. 5 mililitros
- C. 1 litro
- D. 5 litros

3)



Shampoo en una botella

- A. 1 mililitro
- B. 20 litros
- C. 1.5 litros
- D. 20 mililitros


4)



Galón de Leche

- A. 750 mililitros
- B. 1 litro
- C. 50 mililitros
- D. 3.75 litros

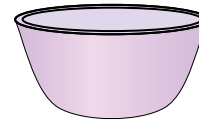
5)



Gotero lleno

- A. 1000 mililitros
- B. 500 mililitros
- C. 2 mililitros
- D. 2 litros

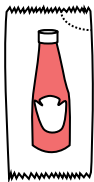
6)



Tazón de cereal

- A. 475 mililitros
- B. 50 mililitros
- C. 1 mililitro
- D. 2 litros

7)



Un paquete de Ketchup

- A. 50 mililitros
- B. 1 mililitro
- C. 1 litro
- D. 500 mililitros

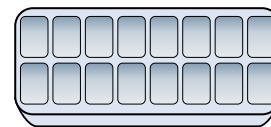
8)



Pasta de dientes en un tubo

- A. 5 mililitros
- B. 1 litro
- C. 120 mililitros
- D. 2 litros

9)



Agua en una bandeja de hielo

- A. 2 mililitros
- B. 0.5 litros
- C. 2 litros
- D. 50 mililitros



Determina cuál letra mejor representa el volúmen.

Milliliter

Un mililitro equivale a unas 20 gotas de agua.



Liter


Muchas botellas grandes de refrescos tienen 1 o 2 litros.

1 Liter = 1,000 Milliliters



Respuestas

1)



Tanque de gasolina de un coche

- A. 15 mililitros
- B. 70 mililitros
- C. 3 litros
- D. 60 litros

2)



Líquido en una cuchara

- A. 500 mililitros
- B. 5 mililitros
- C. 1 litro
- D. 5 litros

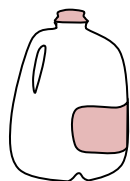
3)



Shampoo en una botella

- A. 1 mililitro
- B. 20 litros
- C. 1.5 litros
- D. 20 mililitros


4)



Galón de Leche

- A. 750 mililitros
- B. 1 litro
- C. 50 mililitros
- D. 3.75 litros

5)



Gotero lleno

- A. 1000 mililitros
- B. 500 mililitros
- C. 2 mililitros
- D. 2 litros

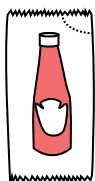
6)



Tazón de cereal

- A. 475 mililitros
- B. 50 mililitros
- C. 1 mililitro
- D. 2 litros

7)



Un paquete de Ketchup

- A. 50 mililitros
- B. 1 mililitro
- C. 1 litro
- D. 500 mililitros


8)



Pasta de dientes en un tubo

- A. 5 mililitros
- B. 1 litro
- C. 120 mililitros
- D. 2 litros

9)



Agua en una bandeja de hielo

- A. 2 mililitros
- B. 0.5 litros
- C. 2 litros
- D. 50 mililitros

- 1. **D**
- 2. **B**
- 3. **C**
- 4. **D**
- 5. **C**
- 6. **A**
- 7. **B**
- 8. **C**
- 9. **B**