



Determina cuál letra mejor representa el volúmen.

Respuestas

Milliliter

Un mililitro equivale a unas 20 gotas de agua.



Liter


Muchas botellas grandes de refrescos tienen 1 o 2 litros.

1 Liter = 1,000 Milliliters



- 1. _____
- 2. _____
- 3. _____
- 4. _____
- 5. _____
- 6. _____
- 7. _____
- 8. _____
- 9. _____

1)



Líquido en una jarra

- A. 5 litros
- B. 20 mililitros
- C. 1 litro
- D. 500 mililitros

2)



Harina de brownies en una sartén

- A. 3 litros
- B. 0.5 litros
- C. 10 mililitros
- D. 16 litros


3)



Líquido en una taza de té

- A. 2 mililitros
- B. 2 litros
- C. 250 mililitros
- D. 5 litros


4)



Gotero lleno

- A. 1000 mililitros
- B. 2 litros
- C. 500 mililitros
- D. 2 mililitros

5)



carretilla de Arena

- A. 50 mililitros
- B. 500 mililitros
- C. 3 litros
- D. 170 litros

6)



Taza medidora

- A. 1 litro
- B. 237 litros
- C. 50 mililitros
- D. 237 mililitros


7)



Shampoo en una botella

- A. 1 mililitro
- B. 20 mililitros
- C. 1.5 litros
- D. 20 litros

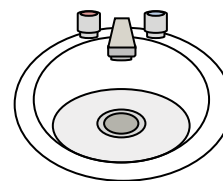
8)



Tanque de gasolina de un coche

- A. 60 litros
- B. 15 mililitros
- C. 70 mililitros
- D. 3 litros

9)



Agua en el lavabo del baño

- A. 10 mililitros
- B. 2 litros
- C. 500 mililitros
- D. 7.5 litros



Determina cuál letra mejor representa el volúmen.

Milliliter

Un mililitro equivale a unas 20 gotas de agua.



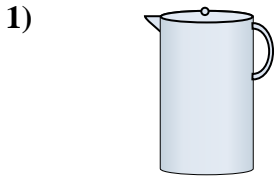
Liter

Muchas botellas grandes de refrescos tienen 1 o 2 litros.

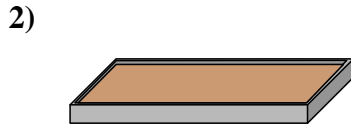
1 Liter = 1,000 Milliliters



Respuestas




- Líquido en una jarra
- A. 5 litros
 - B. 20 mililitros
 - C. 1 litro
 - D. 500 mililitros




- Harina de brownies en una sartén
- A. 3 litros
 - B. 0.5 litros
 - C. 10 mililitros
 - D. 16 litros



- Líquido en una taza de té
- A. 2 mililitros
 - B. 2 litros
 - C. 250 mililitros
 - D. 5 litros



- Gotero lleno
- A. 1000 mililitros
 - B. 2 litros
 - C. 500 mililitros
 - D. 2 mililitros



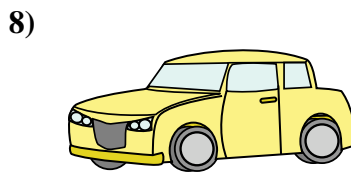
- carretilla de Arena
- A. 50 mililitros
 - B. 500 mililitros
 - C. 3 litros
 - D. 170 litros



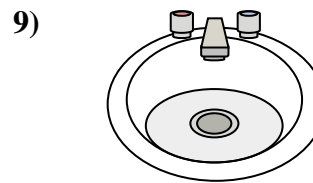
- Taza medidora
- A. 1 litro
 - B. 237 litros
 - C. 50 mililitros
 - D. 237 mililitros



- Shampoo en una botella
- A. 1 mililitro
 - B. 20 mililitros
 - C. 1.5 litros
 - D. 20 litros



- Tanque de gasolina de un coche
- A. 60 litros
 - B. 15 mililitros
 - C. 70 mililitros
 - D. 3 litros



- Agua en el lavabo del baño
- A. 10 mililitros
 - B. 2 litros
 - C. 500 mililitros
 - D. 7.5 litros

- 1. **A**
- 2. **B**
- 3. **C**
- 4. **D**
- 5. **D**
- 6. **D**
- 7. **C**
- 8. **A**
- 9. **D**