



Determina cuál letra mejor representa el volúmen.

Respuestas

Milliliter

Un mililitro equivale a unas 20 gotas de agua.



Liter

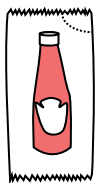
Muchas botellas grandes de refrescos tienen 1 o 2 litros.

1 Liter = 1,000 Milliliters



1. _____
2. _____
3. _____
4. _____
5. _____
6. _____
7. _____
8. _____
9. _____

1)



Un paquete de Ketchup

- A. 1 mililitro
- B. 50 mililitros
- C. 1 litro
- D. 500 mililitros

2)



Botella de Pegamento

- A. 120 mililitros
- B. 3 mililitros
- C. 2 litros
- D. 5 litros

3)



Harina de brownies en una sartén

- A. 3 litros
- B. 10 mililitros
- C. 16 litros
- D. 0.5 litros

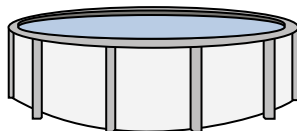
4)



Arena en un balde

- A. 1 mililitro
- B. 20 litros
- C. 4 litros
- D. 4 mililitros


5)



Agua en una piscina

- A. 12000 mililitros
- B. 800 litros
- C. 12000 litros
- D. 800 mililitros


6)



Líquido en un termo

- A. 440 mililitros
- B. 20 litros
- C. 3 litros
- D. 20 mililitros


7)



Tanque de gasolina de un coche

- A. 15 mililitros
- B. 60 litros
- C. 3 litros
- D. 70 mililitros

8)



carretilla de Arena

- A. 50 mililitros
- B. 170 litros
- C. 500 mililitros
- D. 3 litros

9)



Refresco en lata

- A. 350 litros
- B. 2 litros
- C. 2 mililitros
- D. 350 mililitros



Determina cuál letra mejor representa el volúmen.

Milliliter

Un mililitro equivale a unas 20 gotas de agua.



Liter

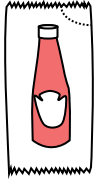
Muchas botellas grandes de refrescos tienen 1 o 2 litros.

1 Liter = 1,000 Milliliters



Respuestas

1)



Un paquete de Ketchup

- A. 1 mililitro
- B. 50 mililitros
- C. 1 litro
- D. 500 mililitros

2)



Botella de Pegamento

- A. 120 mililitros
- B. 3 mililitros
- C. 2 litros
- D. 5 litros

3)



Harina de brownies en una sartén

- A. 3 litros
- B. 10 mililitros
- C. 16 litros
- D. 0.5 litros

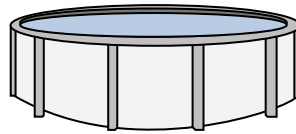
4)



Arena en un balde

- A. 1 mililitro
- B. 20 litros
- C. 4 litros
- D. 4 mililitros


5)



Agua en una piscina

- A. 12000 mililitros
- B. 800 litros
- C. 12000 litros
- D. 800 mililitros


6)



Líquido en un termo

- A. 440 mililitros
- B. 20 litros
- C. 3 litros
- D. 20 mililitros


7)



Tanque de gasolina de un coche

- A. 15 mililitros
- B. 60 litros
- C. 3 litros
- D. 70 mililitros

8)



carretilla de Arena

- A. 50 mililitros
- B. 170 litros
- C. 500 mililitros
- D. 3 litros

9)



Refresco en lata

- A. 350 litros
- B. 2 litros
- C. 2 mililitros
- D. 350 mililitros

- 1. **A**
- 2. **A**
- 3. **D**
- 4. **C**
- 5. **C**
- 6. **A**
- 7. **B**
- 8. **B**
- 9. **D**