



**Determina cuál letra mejor representa el volúmen.**

**Respuestas**

**Milliliter**

Un mililitro equivale a unas 20 gotas de agua.



**Liter**

Muchas botellas grandes de refrescos tienen 1 o 2 litros.

1 Liter = 1,000 Milliliters



1. \_\_\_\_\_
2. \_\_\_\_\_
3. \_\_\_\_\_
4. \_\_\_\_\_
5. \_\_\_\_\_
6. \_\_\_\_\_
7. \_\_\_\_\_
8. \_\_\_\_\_
9. \_\_\_\_\_


1)



Botella de Pegamento

- A. 3 mililitros
- B. 2 litros
- C. 5 litros
- D. 120 mililitros

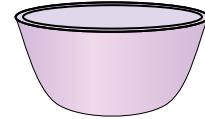
2)



Bañera

- A. 170 litros
- B. 3 litros
- C. 5 mililitros
- D. 500 mililitros


3)



Tazón de cereal

- A. 1 mililitro
- B. 475 mililitros
- C. 2 litros
- D. 50 mililitros


4)



carretilla de Arena

- A. 50 mililitros
- B. 170 litros
- C. 500 mililitros
- D. 3 litros

5)



Tanque de gasolina de un coche

- A. 3 litros
- B. 15 mililitros
- C. 70 mililitros
- D. 60 litros

6)



Galón de Leche

- A. 3.75 litros
- B. 750 mililitros
- C. 1 litro
- D. 50 mililitros

7)



Arena en un balde

- A. 1 mililitro
- B. 20 litros
- C. 4 litros
- D. 4 mililitros

8)



Taza medidora

- A. 237 litros
- B. 50 mililitros
- C. 1 litro
- D. 237 mililitros

9)



Líquido en una taza de té

- A. 250 mililitros
- B. 2 litros
- C. 5 litros
- D. 2 mililitros



Determina cuál letra mejor representa el volúmen.

**Milliliter**

Un mililitro equivale a unas 20 gotas de agua.



**Liter**

Muchas botellas grandes de refrescos tienen 1 o 2 litros.

1 Liter = 1,000 Milliliters



**Respuestas**


1)



Botella de Pegamento

- A. 3 mililitros
- B. 2 litros
- C. 5 litros
- D. 120 mililitros

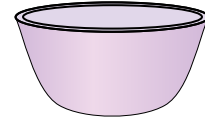
2)



Bañera

- A. 170 litros
- B. 3 litros
- C. 5 mililitros
- D. 500 mililitros


3)



Tazón de cereal

- A. 1 mililitro
- B. 475 mililitros
- C. 2 litros
- D. 50 mililitros


4)



carretilla de Arena

- A. 50 mililitros
- B. 170 litros
- C. 500 mililitros
- D. 3 litros

5)



Tanque de gasolina de un coche

- A. 3 litros
- B. 15 mililitros
- C. 70 mililitros
- D. 60 litros

6)



Galón de Leche

- A. 3.75 litros
- B. 750 mililitros
- C. 1 litro
- D. 50 mililitros

7)



Arena en un balde

- A. 1 mililitro
- B. 20 litros
- C. 4 litros
- D. 4 mililitros

8)



Taza medidora

- A. 237 litros
- B. 50 mililitros
- C. 1 litro
- D. 237 mililitros

9)



Líquido en una taza de té

- A. 250 mililitros
- B. 2 litros
- C. 5 litros
- D. 2 mililitros

- 1.     **D**
- 2.     **A**
- 3.     **B**
- 4.     **B**
- 5.     **D**
- 6.     **A**
- 7.     **C**
- 8.     **D**
- 9.     **A**