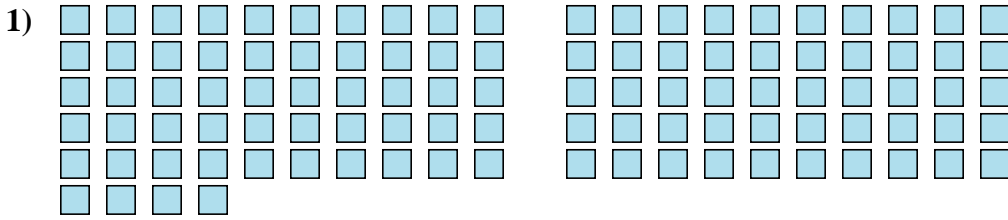




Cuente el número de formas que se muestran.

Respuestas



1. _____

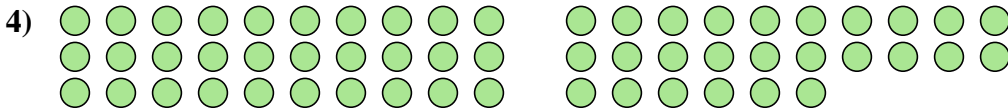
2. _____

3. _____



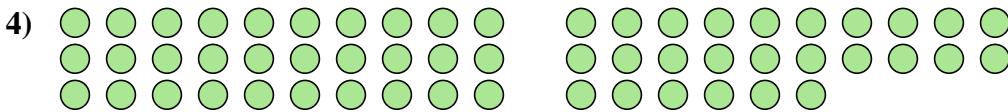
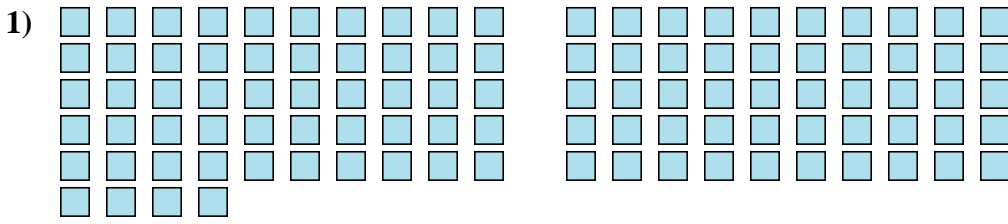
4. _____

5. _____





Cuente el número de formas que se muestran.



Respuestas

1. 104

2. 69

3. 17

4. 56

5. 25