



Cuente el número de formas que se muestran.

**Respuestas**



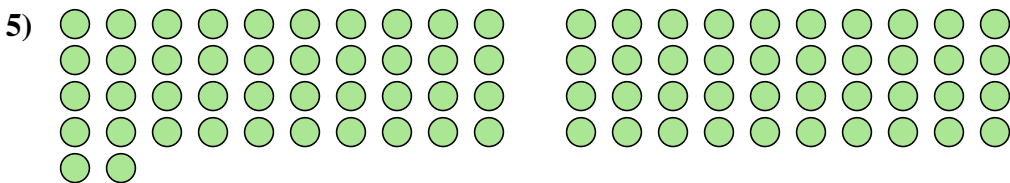
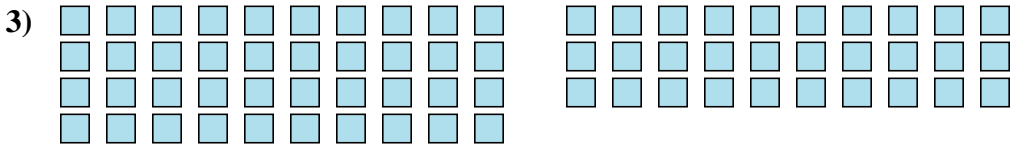
1. \_\_\_\_\_

2. \_\_\_\_\_

3. \_\_\_\_\_

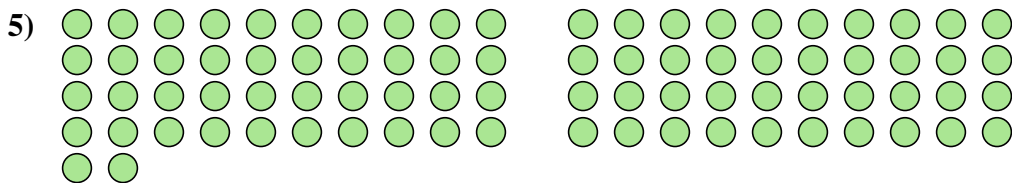
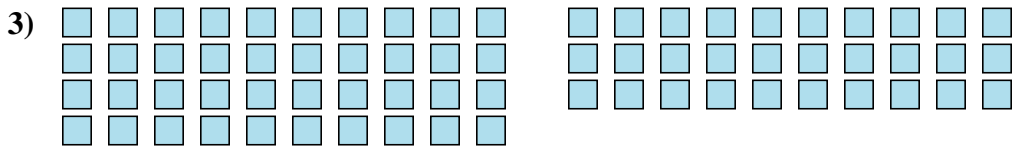
4. \_\_\_\_\_

5. \_\_\_\_\_





Cuente el número de formas que se muestran.



**Respuestas**

1. 52

2. 7

3. 70

4. 22

5. 82