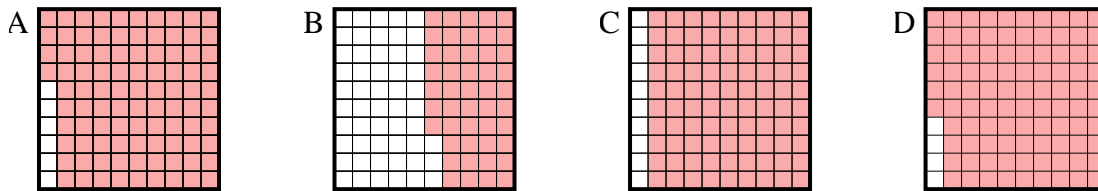




Determina cuál letra mejor resuelve la pregunta.

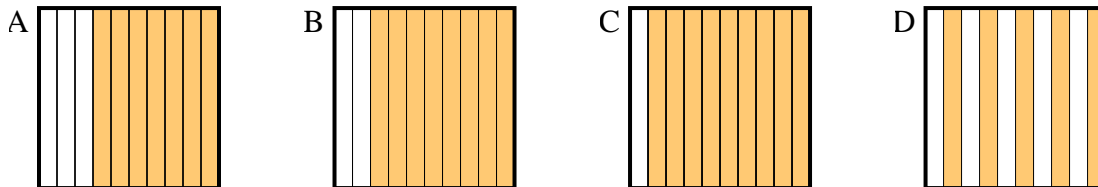
**Respuestas**

1) ¿Qué cuadrícula de  $10 \times 10$  está sombreado para representar el número decimal que, cuando se añade a 0.04 da como resultado un total de 1.00?



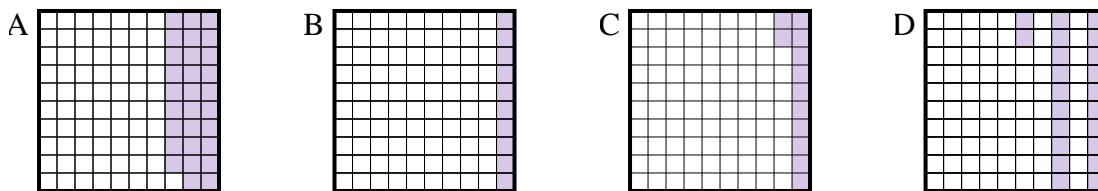
1. \_\_\_\_\_

2) ¿Qué cuadrícula de  $10 \times 1$  está sombreado para representar el número decimal que, cuando se añade a 0.5 da como resultado un total de 1.00?



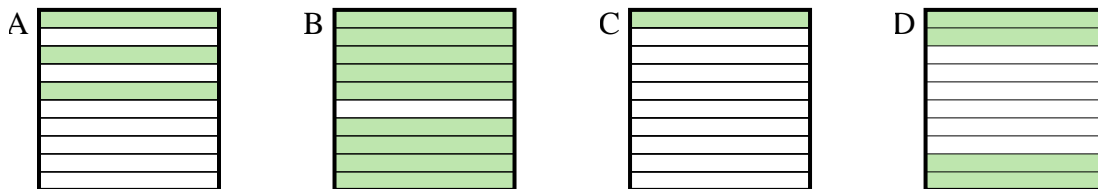
2. \_\_\_\_\_

3) ¿Qué cuadrícula de  $10 \times 10$  está sombreado para representar el número decimal que, cuando se añade a 0.88 da como resultado un total de 1.00?



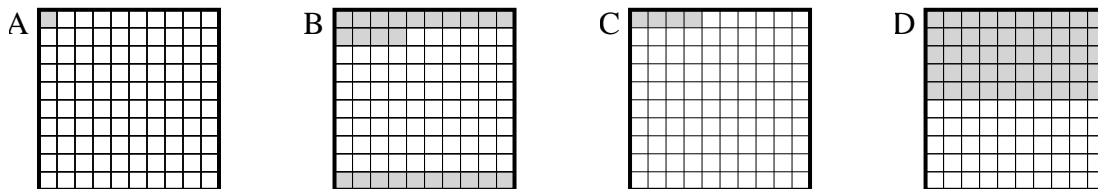
3. \_\_\_\_\_

4) ¿Qué cuadrícula de  $10 \times 1$  está sombreado para representar el número decimal que, cuando se añade a 0.6 da como resultado un total de 1.00?



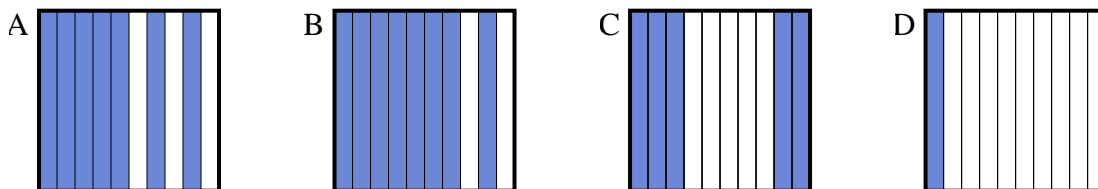
4. \_\_\_\_\_

5) ¿Qué cuadrícula de  $10 \times 10$  está sombreado para representar el número decimal que, cuando se añade a 0.96 da como resultado un total de 1.00?



5. \_\_\_\_\_

6) ¿Qué cuadrícula de  $10 \times 1$  está sombreado para representar el número decimal que, cuando se añade a 0.3 da como resultado un total de 1.00?

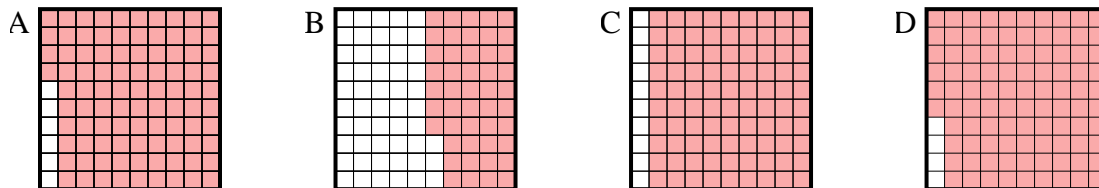


6. \_\_\_\_\_

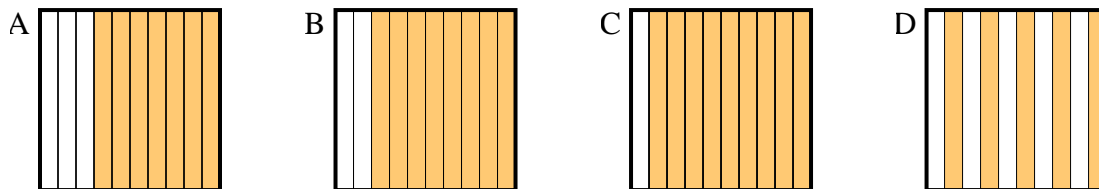


Determina cuál letra mejor resuelve la pregunta.

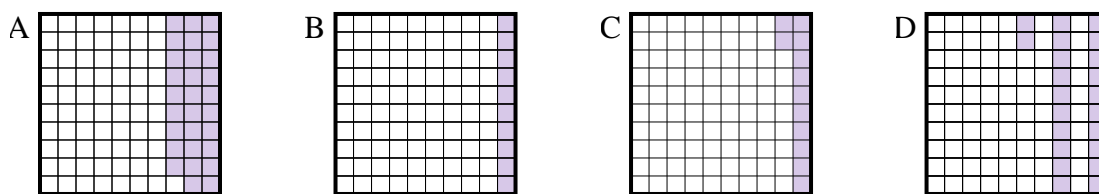
1) ¿Qué cuadrícula de  $10 \times 10$  está sombreado para representar el número decimal que, cuando se añade a 0.04 da como resultado un total de 1.00?



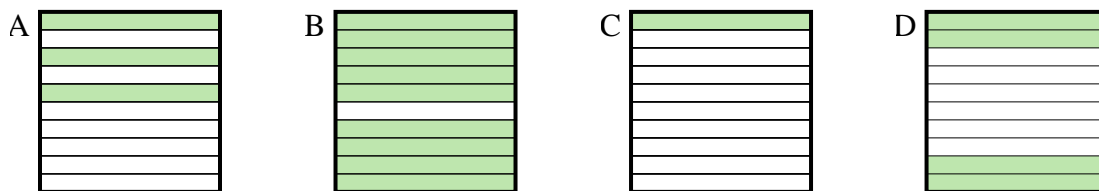
2) ¿Qué cuadrícula de  $10 \times 1$  está sombreado para representar el número decimal que, cuando se añade a 0.5 da como resultado un total de 1.00?



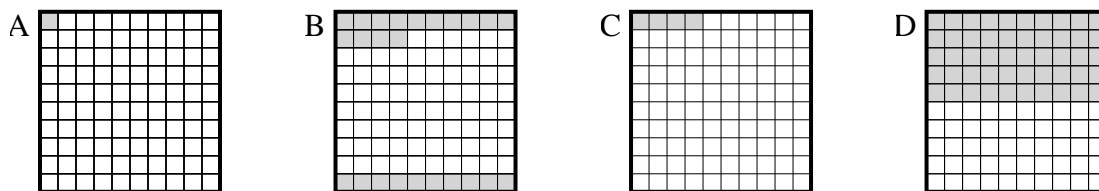
3) ¿Qué cuadrícula de  $10 \times 10$  está sombreado para representar el número decimal que, cuando se añade a 0.88 da como resultado un total de 1.00?



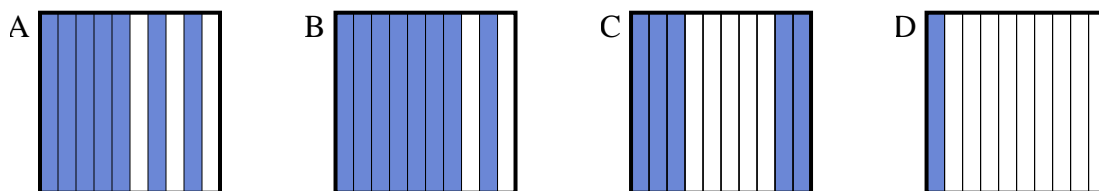
4) ¿Qué cuadrícula de  $10 \times 1$  está sombreado para representar el número decimal que, cuando se añade a 0.6 da como resultado un total de 1.00?



5) ¿Qué cuadrícula de  $10 \times 10$  está sombreado para representar el número decimal que, cuando se añade a 0.96 da como resultado un total de 1.00?



6) ¿Qué cuadrícula de  $10 \times 1$  está sombreado para representar el número decimal que, cuando se añade a 0.3 da como resultado un total de 1.00?



**Respuestas**

- 1. **D**
- 2. **D**
- 3. **C**
- 4. **D**
- 5. **C**
- 6. **A**