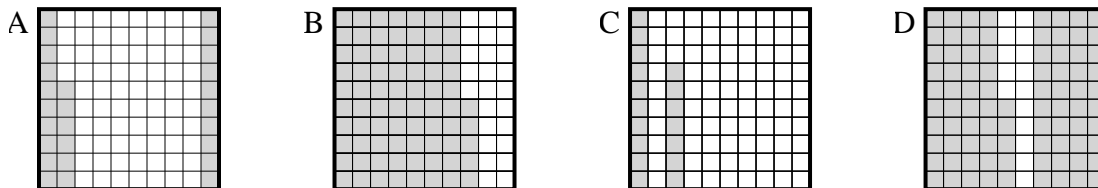




Determina cuál letra mejor resuelve la pregunta.

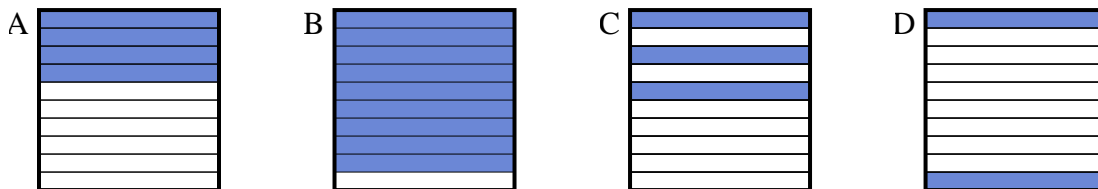
Respuestas

1) ¿Qué cuadrícula de 10×10 está sombreado para representar el número decimal que, cuando se añade a 0.74 da como resultado un total de 1.00?



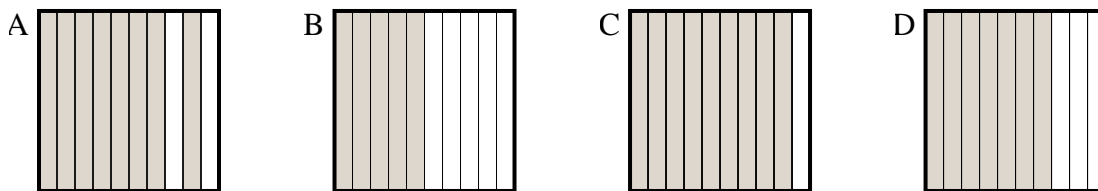
1. _____

2) ¿Qué cuadrícula de 10×1 está sombreado para representar el número decimal que, cuando se añade a 0.1 da como resultado un total de 1.00?



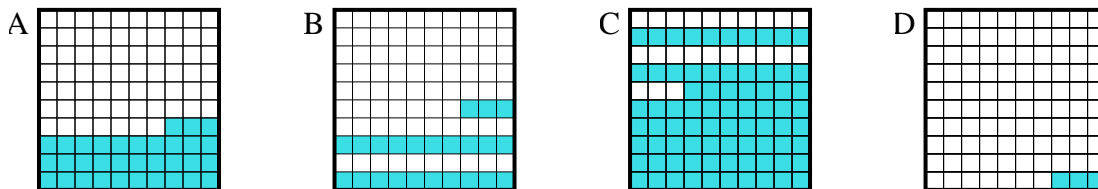
2. _____

3) ¿Qué cuadrícula de 10×1 está sombreado para representar el número decimal que, cuando se añade a 0.5 da como resultado un total de 1.00?



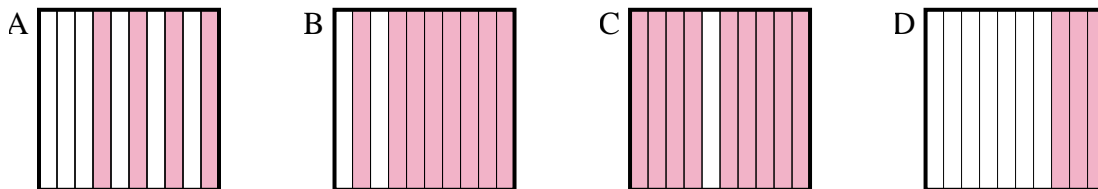
3. _____

4) ¿Qué cuadrícula de 10×10 está sombreado para representar el número decimal que, cuando se añade a 0.77 da como resultado un total de 1.00?



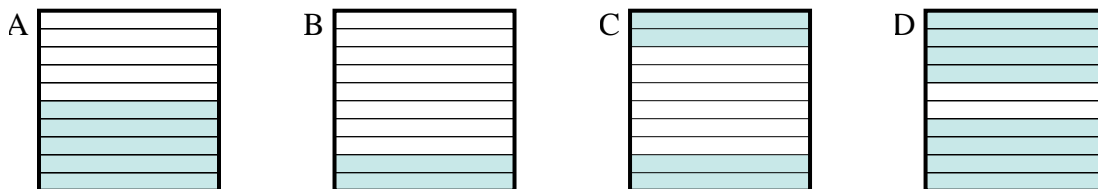
4. _____

5) ¿Qué cuadrícula de 10×1 está sombreado para representar el número decimal que, cuando se añade a 0.7 da como resultado un total de 1.00?



5. _____

6) ¿Qué cuadrícula de 10×1 está sombreado para representar el número decimal que, cuando se añade a 0.6 da como resultado un total de 1.00?



6. _____

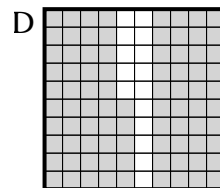

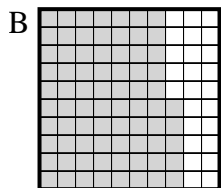
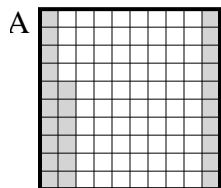


Determina cuál letra mejor resuelve la pregunta.

Respuestas



1) ¿Qué cuadrícula de 10×10 está sombreado para representar el número decimal que, cuando se añade a 0.74 da como resultado un total de 1.00?

1. **A**



2) ¿Qué cuadrícula de 10×1 está sombreado para representar el número decimal que, cuando se añade a 0.1 da como resultado un total de 1.00?

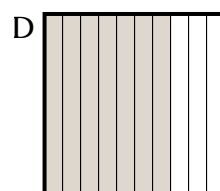
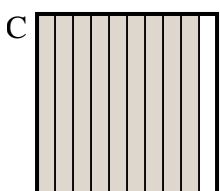
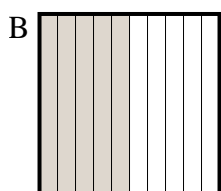
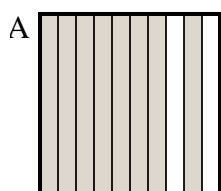
2. **B**



3. **B**

3) ¿Qué cuadrícula de 10×1 está sombreado para representar el número decimal que, cuando se añade a 0.5 da como resultado un total de 1.00?

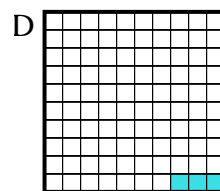
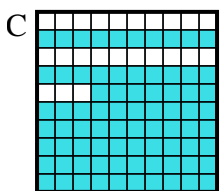
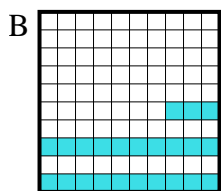
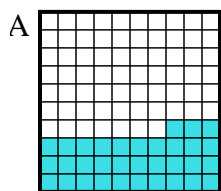
4. **B**



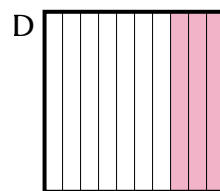
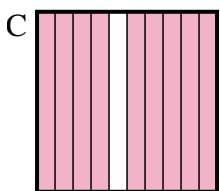
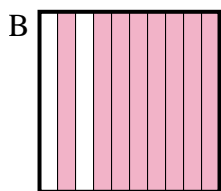
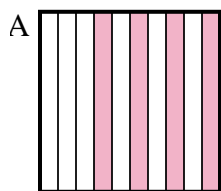
5. **D**

4) ¿Qué cuadrícula de 10×10 está sombreado para representar el número decimal que, cuando se añade a 0.77 da como resultado un total de 1.00?

6. **C**



5) ¿Qué cuadrícula de 10×1 está sombreado para representar el número decimal que, cuando se añade a 0.7 da como resultado un total de 1.00?



6) ¿Qué cuadrícula de 10×1 está sombreado para representar el número decimal que, cuando se añade a 0.6 da como resultado un total de 1.00?

