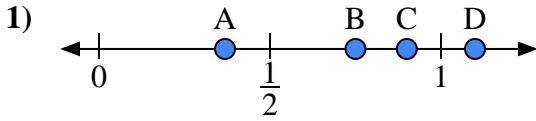


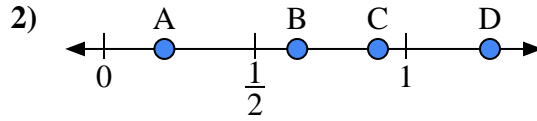


Usa las rectas numéricas para responder a las preguntas

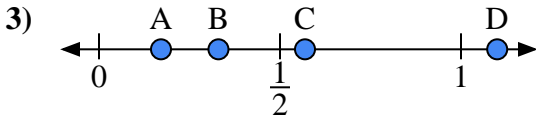
Respuestas



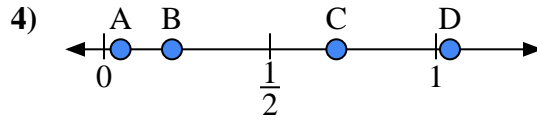
- a) ¿Qué letra representa mejor la ubicación de 0.90?
- b) ¿Qué letra representa mejor la ubicación de 0.75?



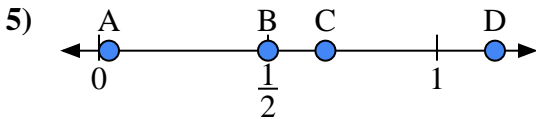
- a) ¿Qué letra representa mejor la ubicación de 0.2?
- b) ¿Qué letra representa mejor la ubicación de 0.64?



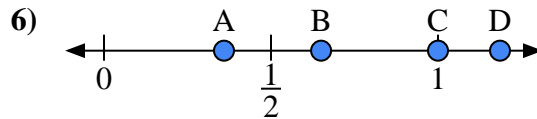
- a) ¿Qué letra representa mejor la ubicación de 1.10?
- b) ¿Qué letra representa mejor la ubicación de 0.33?



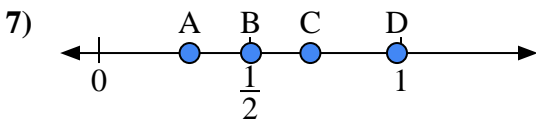
- a) ¿Qué letra representa mejor la ubicación de 0.70?
- b) ¿Qué letra representa mejor la ubicación de 0.05?



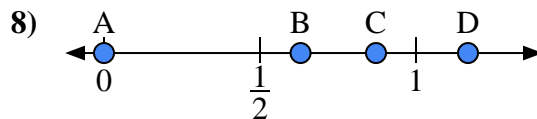
- a) ¿Qué letra representa mejor la ubicación de 0.50?
- b) ¿Qué letra representa mejor la ubicación de 0.67?



- a) ¿Qué letra representa mejor la ubicación de 1.00?
- b) ¿Qué letra representa mejor la ubicación de 0.65?



- a) ¿Qué letra representa mejor la ubicación de 0.3?
- b) ¿Qué letra representa mejor la ubicación de 0.70?



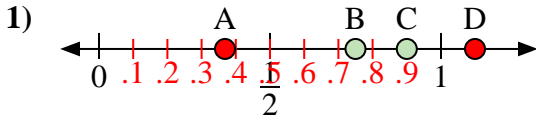
- a) ¿Qué letra representa mejor la ubicación de 0.00?
- b) ¿Qué letra representa mejor la ubicación de 0.63?

- 1. _____
- 2. _____
- 3. _____
- 4. _____
- 5. _____
- 6. _____
- 7. _____
- 8. _____

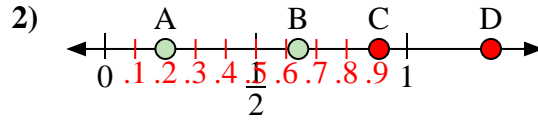


Usa las rectas numéricas para responder a las preguntas

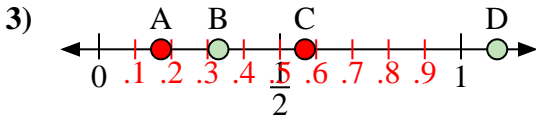
Respuestas



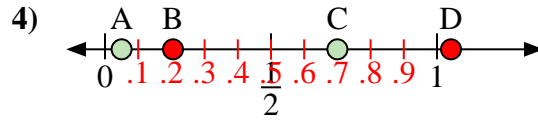
- a) ¿Qué letra representa mejor la ubicación de 0.90?
 b) ¿Qué letra representa mejor la ubicación de 0.75?



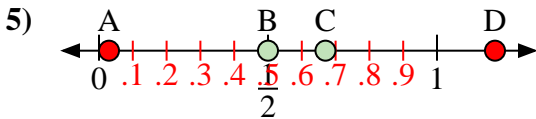
- a) ¿Qué letra representa mejor la ubicación de 0.2?
 b) ¿Qué letra representa mejor la ubicación de 0.64?



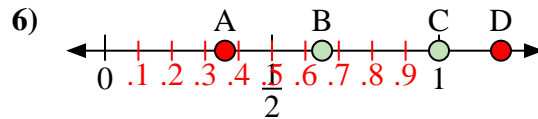
- a) ¿Qué letra representa mejor la ubicación de 1.10?
 b) ¿Qué letra representa mejor la ubicación de 0.33?



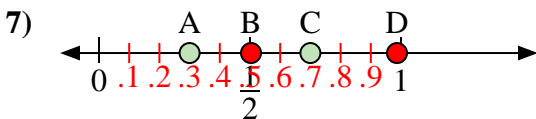
- a) ¿Qué letra representa mejor la ubicación de 0.70?
 b) ¿Qué letra representa mejor la ubicación de 0.05?



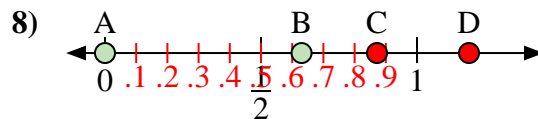
- a) ¿Qué letra representa mejor la ubicación de 0.50?
 b) ¿Qué letra representa mejor la ubicación de 0.67?



- a) ¿Qué letra representa mejor la ubicación de 1.00?
 b) ¿Qué letra representa mejor la ubicación de 0.65?



- a) ¿Qué letra representa mejor la ubicación de 0.3?
 b) ¿Qué letra representa mejor la ubicación de 0.70?



- a) ¿Qué letra representa mejor la ubicación de 0.00?
 b) ¿Qué letra representa mejor la ubicación de 0.63?

1. C B

2. A B

3. D B

4. C A

5. B C

6. C B

7. A C

8. A B