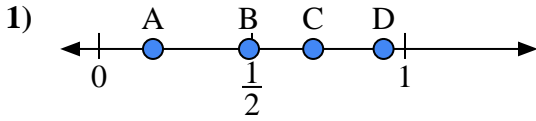


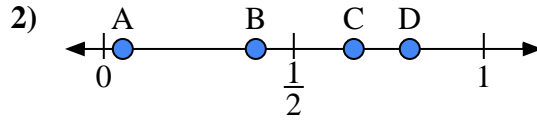


Usa las rectas numéricas para responder a las preguntas

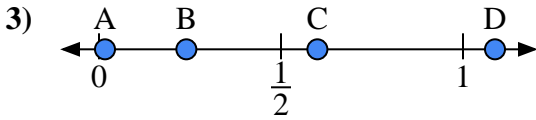
Respuestas



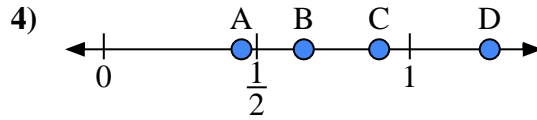
- a) ¿Qué letra representa mejor la ubicación de 0.7?'
- b) ¿Qué letra representa mejor la ubicación de 0.93?'



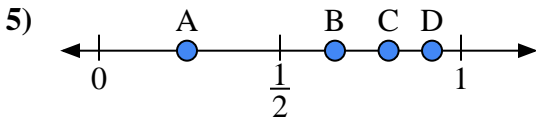
- a) ¿Qué letra representa mejor la ubicación de 0.40?'
- b) ¿Qué letra representa mejor la ubicación de 0.05?'



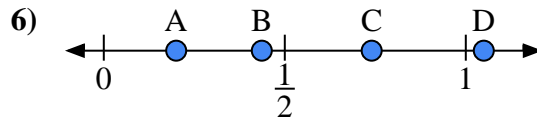
- a) ¿Qué letra representa mejor la ubicación de 0.60?'
- b) ¿Qué letra representa mejor la ubicación de 0.24?'



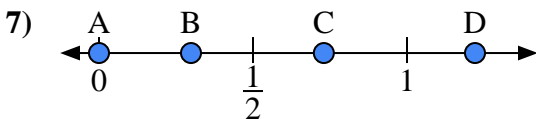
- a) ¿Qué letra representa mejor la ubicación de 0.90?'
- b) ¿Qué letra representa mejor la ubicación de 0.45?'



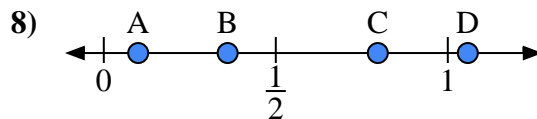
- a) ¿Qué letra representa mejor la ubicación de 0.8?'
- b) ¿Qué letra representa mejor la ubicación de 0.92?'



- a) ¿Qué letra representa mejor la ubicación de 0.20?'
- b) ¿Qué letra representa mejor la ubicación de 0.74?'



- a) ¿Qué letra representa mejor la ubicación de 0.00?'
- b) ¿Qué letra representa mejor la ubicación de 0.73?'



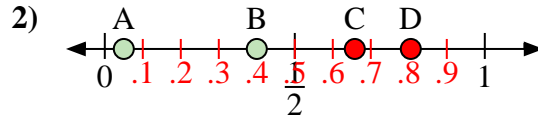
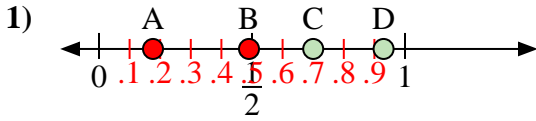
- a) ¿Qué letra representa mejor la ubicación de 0.1?'
- b) ¿Qué letra representa mejor la ubicación de 0.36?'

- 1. _____
- 2. _____
- 3. _____
- 4. _____
- 5. _____
- 6. _____
- 7. _____
- 8. _____



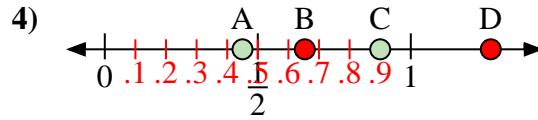
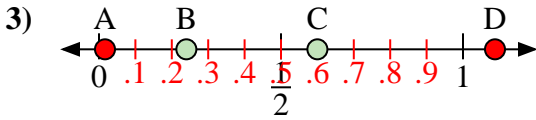
Usa las rectas numéricas para responder a las preguntas

Respuestas



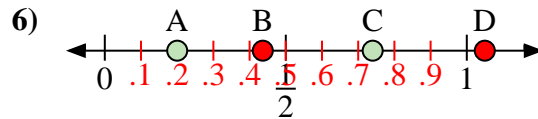
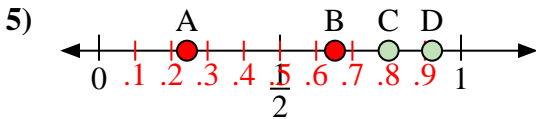
- a) ¿Qué letra representa mejor la ubicación de 0.7?
- b) ¿Qué letra representa mejor la ubicación de 0.93?

- a) ¿Qué letra representa mejor la ubicación de 0.40?
- b) ¿Qué letra representa mejor la ubicación de 0.05?



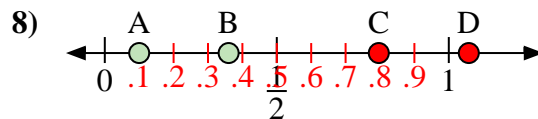
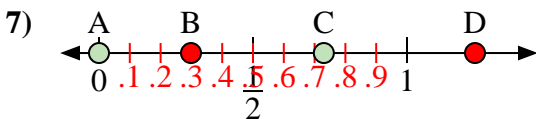
- a) ¿Qué letra representa mejor la ubicación de 0.60?
- b) ¿Qué letra representa mejor la ubicación de 0.24?

- a) ¿Qué letra representa mejor la ubicación de 0.90?
- b) ¿Qué letra representa mejor la ubicación de 0.45?



- a) ¿Qué letra representa mejor la ubicación de 0.8?
- b) ¿Qué letra representa mejor la ubicación de 0.92?

- a) ¿Qué letra representa mejor la ubicación de 0.20?
- b) ¿Qué letra representa mejor la ubicación de 0.74?



- a) ¿Qué letra representa mejor la ubicación de 0.00?
- b) ¿Qué letra representa mejor la ubicación de 0.73?

- a) ¿Qué letra representa mejor la ubicación de 0.1?
- b) ¿Qué letra representa mejor la ubicación de 0.36?

1. C D
2. B A
3. C B
4. C A
5. C D
6. A C
7. A C
8. A B