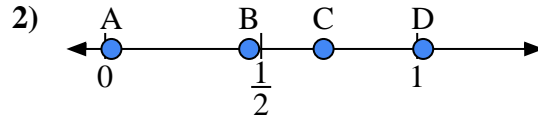
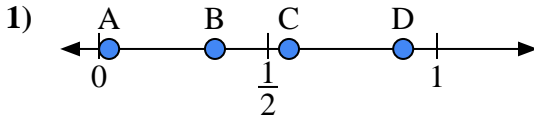




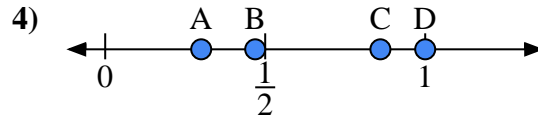
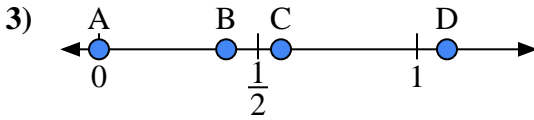
Usa las rectas numéricas para responder a las preguntas

Respuestas



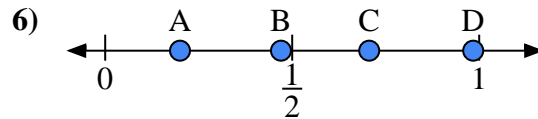
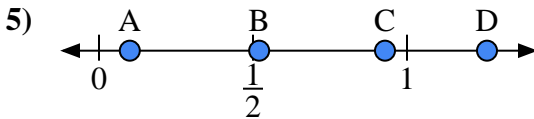
- a) ¿Qué letra representa mejor la ubicación de 0.9?'
- b) ¿Qué letra representa mejor la ubicación de 0.03?'

- a) ¿Qué letra representa mejor la ubicación de 0.7?'
- b) ¿Qué letra representa mejor la ubicación de 0.02?'



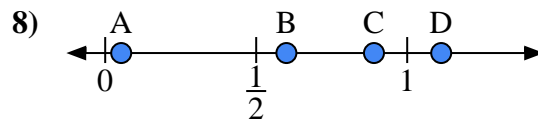
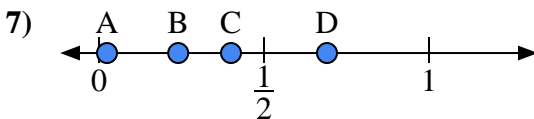
- a) ¿Qué letra representa mejor la ubicación de 0.00?'
- b) ¿Qué letra representa mejor la ubicación de 0.40?'

- a) ¿Qué letra representa mejor la ubicación de 1.0?'
- b) ¿Qué letra representa mejor la ubicación de 0.86?'



- a) ¿Qué letra representa mejor la ubicación de 0.10?'
- b) ¿Qué letra representa mejor la ubicación de 0.52?'

- a) ¿Qué letra representa mejor la ubicación de 0.2?'
- b) ¿Qué letra representa mejor la ubicación de 0.47?'



- a) ¿Qué letra representa mejor la ubicación de 0.4?'
- b) ¿Qué letra representa mejor la ubicación de 0.24?'

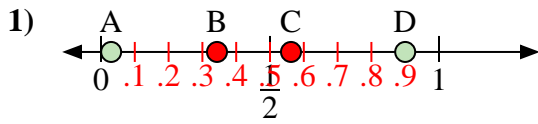
- a) ¿Qué letra representa mejor la ubicación de 0.60?'
- b) ¿Qué letra representa mejor la ubicación de 0.89?'

- 1. _____
- 2. _____
- 3. _____
- 4. _____
- 5. _____
- 6. _____
- 7. _____
- 8. _____

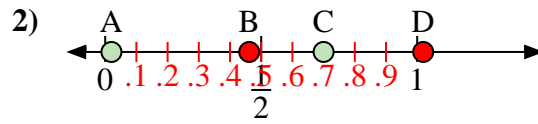


Usa las rectas numéricas para responder a las preguntas

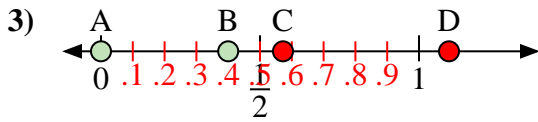
Respuestas



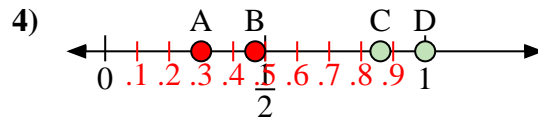
- a) ¿Qué letra representa mejor la ubicación de 0.9?
- b) ¿Qué letra representa mejor la ubicación de 0.03?



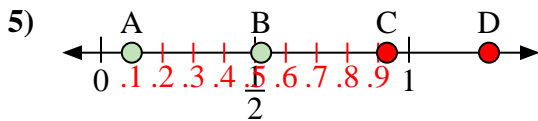
- a) ¿Qué letra representa mejor la ubicación de 0.7?
- b) ¿Qué letra representa mejor la ubicación de 0.02?



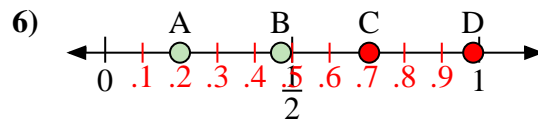
- a) ¿Qué letra representa mejor la ubicación de 0.00?
- b) ¿Qué letra representa mejor la ubicación de 0.40?



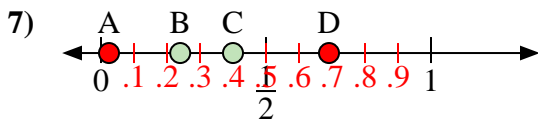
- a) ¿Qué letra representa mejor la ubicación de 1.0?
- b) ¿Qué letra representa mejor la ubicación de 0.86?



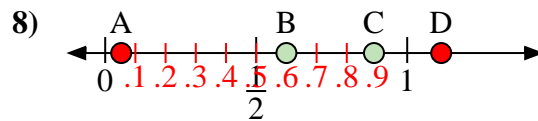
- a) ¿Qué letra representa mejor la ubicación de 0.10?
- b) ¿Qué letra representa mejor la ubicación de 0.52?



- a) ¿Qué letra representa mejor la ubicación de 0.2?
- b) ¿Qué letra representa mejor la ubicación de 0.47?



- a) ¿Qué letra representa mejor la ubicación de 0.4?
- b) ¿Qué letra representa mejor la ubicación de 0.24?



- a) ¿Qué letra representa mejor la ubicación de 0.60?
- b) ¿Qué letra representa mejor la ubicación de 0.89?

1. D A
2. C A
3. A B
4. D C
5. A B
6. A B
7. C B
8. B C