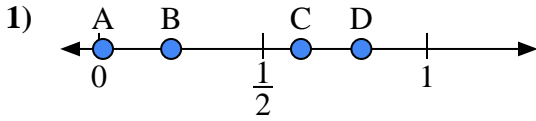


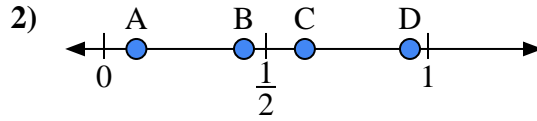


Usa las rectas numéricas para responder a las preguntas

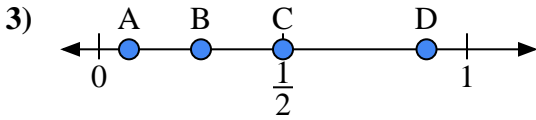
Respuestas



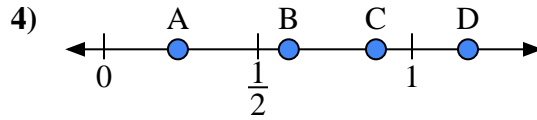
- a) ¿Qué letra representa mejor la ubicación de 0.80?'
- b) ¿Qué letra representa mejor la ubicación de 0.22?'



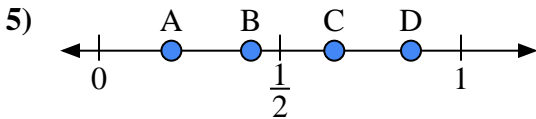
- a) ¿Qué letra representa mejor la ubicación de 0.1?'
- b) ¿Qué letra representa mejor la ubicación de 0.62?'



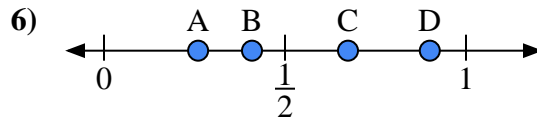
- a) ¿Qué letra representa mejor la ubicación de 0.5?'
- b) ¿Qué letra representa mejor la ubicación de 0.89?'



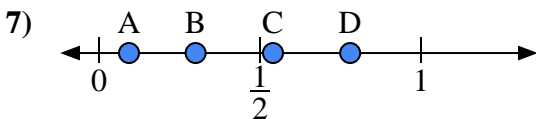
- a) ¿Qué letra representa mejor la ubicación de 0.6?'
- b) ¿Qué letra representa mejor la ubicación de 0.24?'



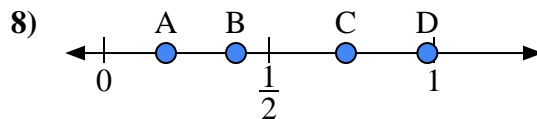
- a) ¿Qué letra representa mejor la ubicación de 0.20?'
- b) ¿Qué letra representa mejor la ubicación de 0.65?'



- a) ¿Qué letra representa mejor la ubicación de 0.90?'
- b) ¿Qué letra representa mejor la ubicación de 0.26?'



- a) ¿Qué letra representa mejor la ubicación de 0.3?'
- b) ¿Qué letra representa mejor la ubicación de 0.78?'



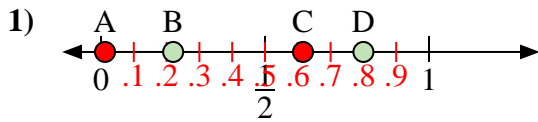
- a) ¿Qué letra representa mejor la ubicación de 0.40?'
- b) ¿Qué letra representa mejor la ubicación de 0.98?'

- 1. _____
- 2. _____
- 3. _____
- 4. _____
- 5. _____
- 6. _____
- 7. _____
- 8. _____

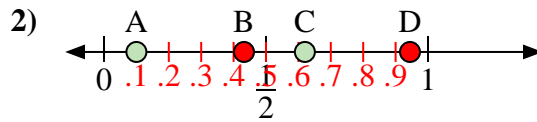


Usa las rectas numéricas para responder a las preguntas

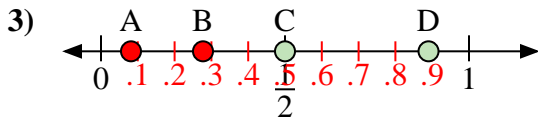
Respuestas



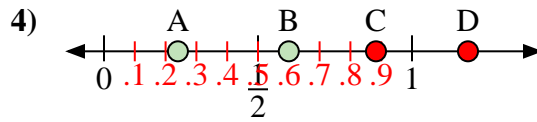
- a) ¿Qué letra representa mejor la ubicación de 0.80?'
- b) ¿Qué letra representa mejor la ubicación de 0.22?'



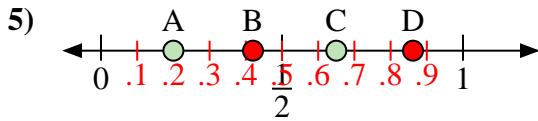
- a) ¿Qué letra representa mejor la ubicación de 0.1?'
- b) ¿Qué letra representa mejor la ubicación de 0.62?'



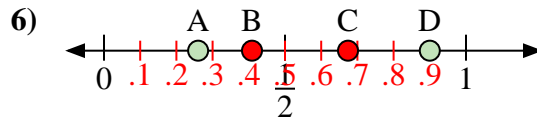
- a) ¿Qué letra representa mejor la ubicación de 0.5?'
- b) ¿Qué letra representa mejor la ubicación de 0.89?'



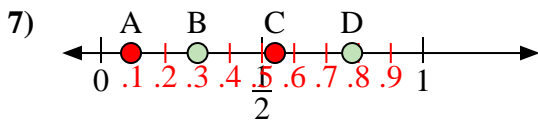
- a) ¿Qué letra representa mejor la ubicación de 0.6?'
- b) ¿Qué letra representa mejor la ubicación de 0.24?'



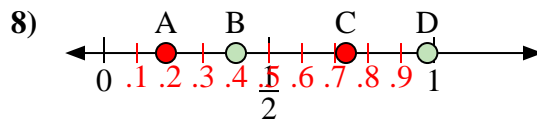
- a) ¿Qué letra representa mejor la ubicación de 0.20?'
- b) ¿Qué letra representa mejor la ubicación de 0.65?'



- a) ¿Qué letra representa mejor la ubicación de 0.90?'
- b) ¿Qué letra representa mejor la ubicación de 0.26?'



- a) ¿Qué letra representa mejor la ubicación de 0.3?'
- b) ¿Qué letra representa mejor la ubicación de 0.78?'



- a) ¿Qué letra representa mejor la ubicación de 0.40?'
- b) ¿Qué letra representa mejor la ubicación de 0.98?'

1. D B
2. A C
3. C D
4. B A
5. A C
6. D A
7. B D
8. B D