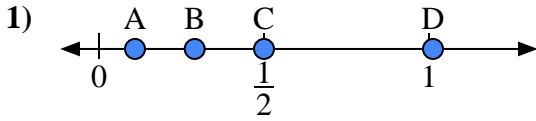


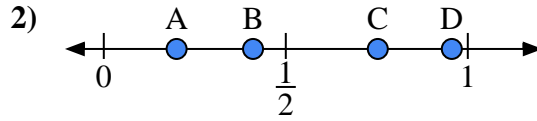


Usa las rectas numéricas para responder a las preguntas

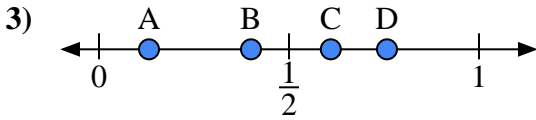
Respuestas



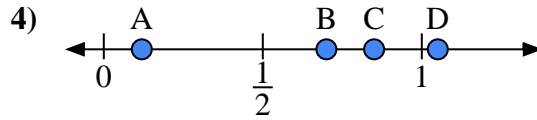
- a) ¿Qué letra representa mejor la ubicación de 0.5?
- b) ¿Qué letra representa mejor la ubicación de 0.29?



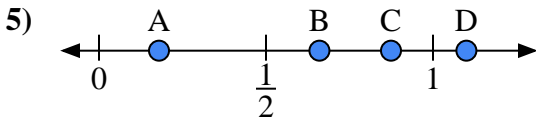
- a) ¿Qué letra representa mejor la ubicación de 0.20?
- b) ¿Qué letra representa mejor la ubicación de 0.41?



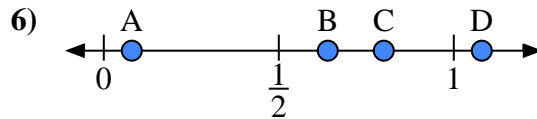
- a) ¿Qué letra representa mejor la ubicación de 0.40?
- b) ¿Qué letra representa mejor la ubicación de 0.61?



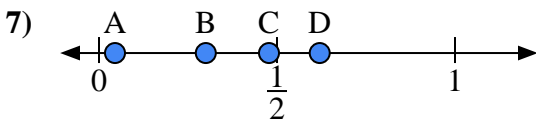
- a) ¿Qué letra representa mejor la ubicación de 0.70?
- b) ¿Qué letra representa mejor la ubicación de 0.85?



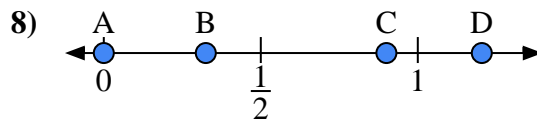
- a) ¿Qué letra representa mejor la ubicación de 1.1?
- b) ¿Qué letra representa mejor la ubicación de 0.66?



- a) ¿Qué letra representa mejor la ubicación de 0.8?
- b) ¿Qué letra representa mejor la ubicación de 0.08?



- a) ¿Qué letra representa mejor la ubicación de 0.30?
- b) ¿Qué letra representa mejor la ubicación de 0.62?



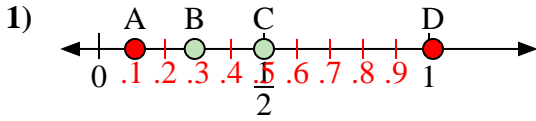
- a) ¿Qué letra representa mejor la ubicación de 0.00?
- b) ¿Qué letra representa mejor la ubicación de 0.90?

- 1. _____
- 2. _____
- 3. _____
- 4. _____
- 5. _____
- 6. _____
- 7. _____
- 8. _____

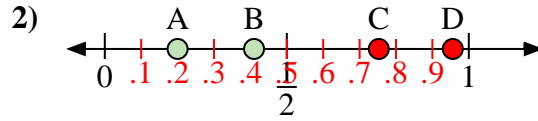


Usa las rectas numéricas para responder a las preguntas

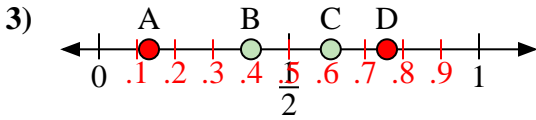
Respuestas



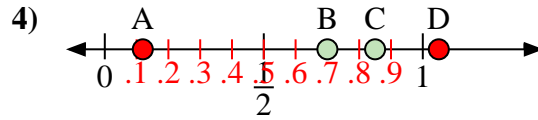
- a) ¿Qué letra representa mejor la ubicación de 0.5?
- b) ¿Qué letra representa mejor la ubicación de 0.29?



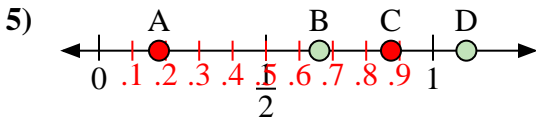
- a) ¿Qué letra representa mejor la ubicación de 0.20?
- b) ¿Qué letra representa mejor la ubicación de 0.41?



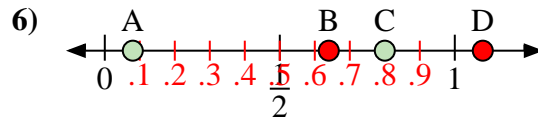
- a) ¿Qué letra representa mejor la ubicación de 0.40?
- b) ¿Qué letra representa mejor la ubicación de 0.61?



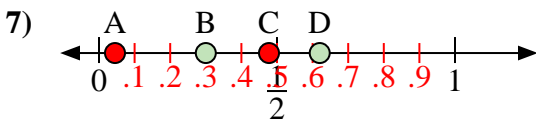
- a) ¿Qué letra representa mejor la ubicación de 0.70?
- b) ¿Qué letra representa mejor la ubicación de 0.85?



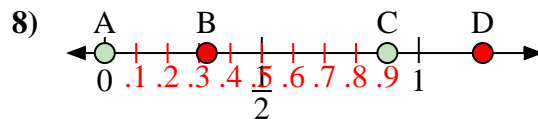
- a) ¿Qué letra representa mejor la ubicación de 1.1?
- b) ¿Qué letra representa mejor la ubicación de 0.66?



- a) ¿Qué letra representa mejor la ubicación de 0.8?
- b) ¿Qué letra representa mejor la ubicación de 0.08?



- a) ¿Qué letra representa mejor la ubicación de 0.30?
- b) ¿Qué letra representa mejor la ubicación de 0.62?



- a) ¿Qué letra representa mejor la ubicación de 0.00?
- b) ¿Qué letra representa mejor la ubicación de 0.90?

1. C B
2. A B
3. B C
4. B C
5. D B
6. C A
7. B D
8. A C