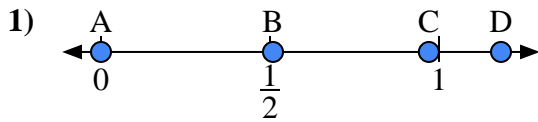


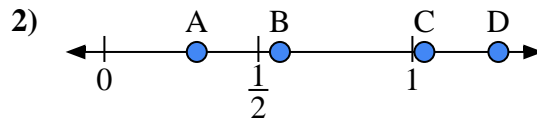


Usa las rectas numéricas para responder a las preguntas

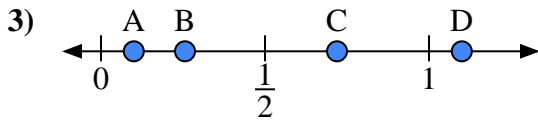
Respuestas



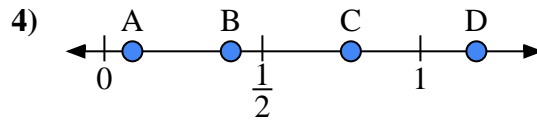
- a) ¿Qué letra representa mejor la ubicación de 0.00?'
- b) ¿Qué letra representa mejor la ubicación de 0.97?'



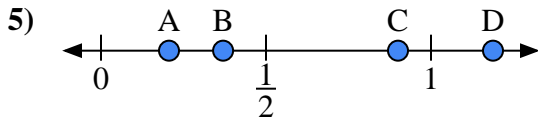
- a) ¿Qué letra representa mejor la ubicación de 0.30?'
- b) ¿Qué letra representa mejor la ubicación de 0.57?'



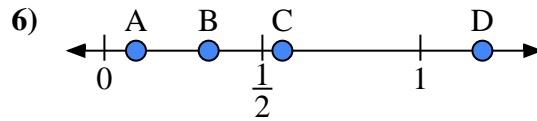
- a) ¿Qué letra representa mejor la ubicación de 1.10?'
- b) ¿Qué letra representa mejor la ubicación de 0.10?'



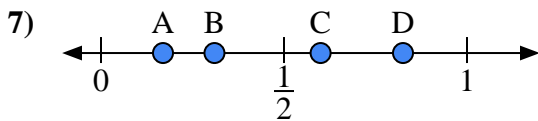
- a) ¿Qué letra representa mejor la ubicación de 0.4?'
- b) ¿Qué letra representa mejor la ubicación de 0.78?'



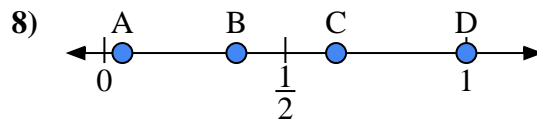
- a) ¿Qué letra representa mejor la ubicación de 0.90?'
- b) ¿Qué letra representa mejor la ubicación de 0.37?'



- a) ¿Qué letra representa mejor la ubicación de 0.1?'
- b) ¿Qué letra representa mejor la ubicación de 0.33?'



- a) ¿Qué letra representa mejor la ubicación de 0.6?'
- b) ¿Qué letra representa mejor la ubicación de 0.31?'



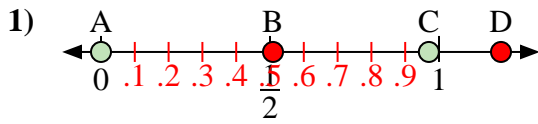
- a) ¿Qué letra representa mejor la ubicación de 1.0?'
- b) ¿Qué letra representa mejor la ubicación de 0.64?'

- 1. _____
- 2. _____
- 3. _____
- 4. _____
- 5. _____
- 6. _____
- 7. _____
- 8. _____

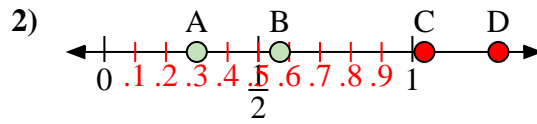


Usa las rectas numéricas para responder a las preguntas

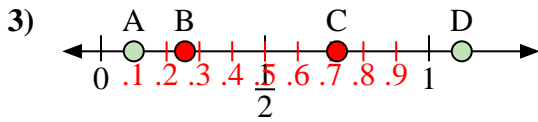
Respuestas



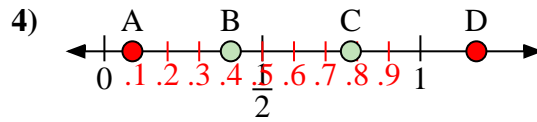
- a) ¿Qué letra representa mejor la ubicación de 0.00?
- b) ¿Qué letra representa mejor la ubicación de 0.97?



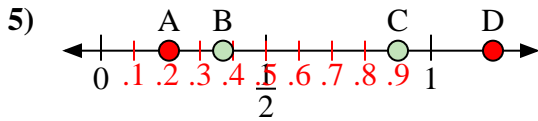
- a) ¿Qué letra representa mejor la ubicación de 0.30?
- b) ¿Qué letra representa mejor la ubicación de 0.57?



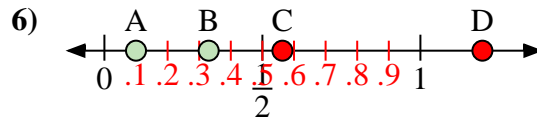
- a) ¿Qué letra representa mejor la ubicación de 1.10?
- b) ¿Qué letra representa mejor la ubicación de 0.10?



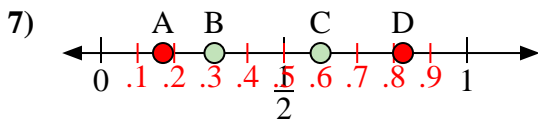
- a) ¿Qué letra representa mejor la ubicación de 0.4?
- b) ¿Qué letra representa mejor la ubicación de 0.78?



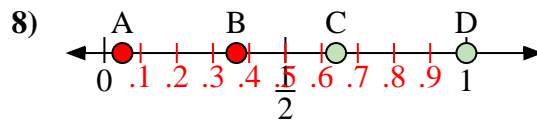
- a) ¿Qué letra representa mejor la ubicación de 0.90?
- b) ¿Qué letra representa mejor la ubicación de 0.37?



- a) ¿Qué letra representa mejor la ubicación de 0.1?
- b) ¿Qué letra representa mejor la ubicación de 0.33?



- a) ¿Qué letra representa mejor la ubicación de 0.6?
- b) ¿Qué letra representa mejor la ubicación de 0.31?



- a) ¿Qué letra representa mejor la ubicación de 1.0?
- b) ¿Qué letra representa mejor la ubicación de 0.64?

- 1. A C
- 2. A B
- 3. D A
- 4. B C
- 5. C B
- 6. A B
- 7. C B
- 8. D C