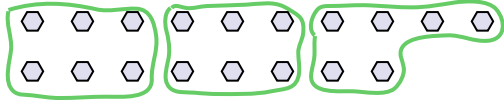




Usa las formas proporcionadas para resolver las preguntas.

**Respuestas**

Ej) ¿Cuántos grupos de 6 se pueden hacer con las 18 formas de abajo?

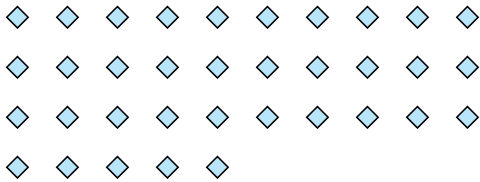


1) ¿Cuántos grupos de 6 se pueden hacer con las 12 formas de abajo?



Ej. 3

2) ¿Cuántos grupos de 7 se pueden hacer con las 35 formas de abajo?




3) ¿Cuántos grupos de 4 se pueden hacer con las 8 formas de abajo?



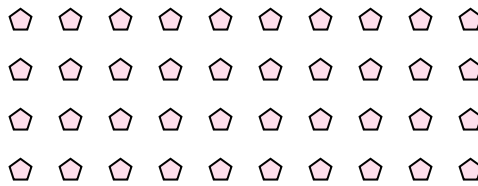
1. \_\_\_\_\_

2. \_\_\_\_\_

4) ¿Cuántos grupos de 8 se pueden hacer con las 24 formas de abajo?



5) ¿Cuántos grupos de 4 se pueden hacer con las 40 formas de abajo?



3. \_\_\_\_\_

4. \_\_\_\_\_

5. \_\_\_\_\_


6. \_\_\_\_\_

7. \_\_\_\_\_

8. \_\_\_\_\_

9. \_\_\_\_\_

6) ¿Cuántos grupos de 6 se pueden hacer con las 36 formas de abajo?




7) ¿Cuántos grupos de 5 se pueden hacer con las 10 formas de abajo?



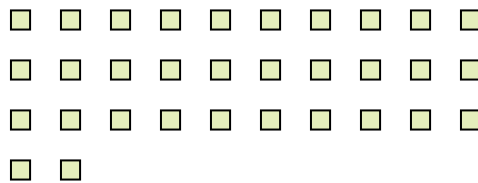
10. \_\_\_\_\_

11. \_\_\_\_\_

8) ¿Cuántos grupos de 9 se pueden hacer con las 27 formas de abajo?



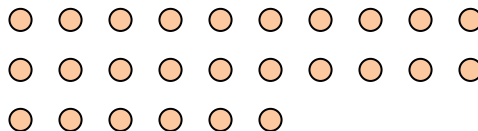
9) ¿Cuántos grupos de 8 se pueden hacer con las 32 formas de abajo?



10) ¿Cuántos grupos de 6 se pueden hacer con las 18 formas de abajo?



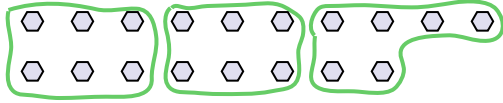
11) ¿Cuántos grupos de 2 se pueden hacer con las 26 formas de abajo?



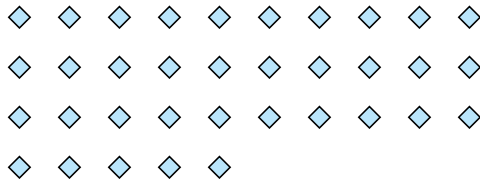


Usa las formas proporcionadas para resolver las preguntas.


Ej) ¿Cuántos grupos de 6 se pueden hacer con las 18 formas de abajo?




2) ¿Cuántos grupos de 7 se pueden hacer con las 35 formas de abajo?




4) ¿Cuántos grupos de 8 se pueden hacer con las 24 formas de abajo?



6) ¿Cuántos grupos de 6 se pueden hacer con las 36 formas de abajo?



8) ¿Cuántos grupos de 9 se pueden hacer con las 27 formas de abajo?



10) ¿Cuántos grupos de 6 se pueden hacer con las 18 formas de abajo?



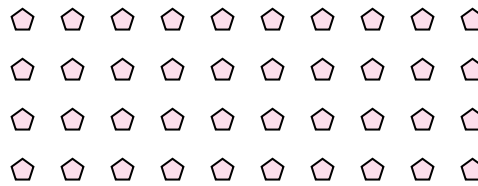
1) ¿Cuántos grupos de 6 se pueden hacer con las 12 formas de abajo?



3) ¿Cuántos grupos de 4 se pueden hacer con las 8 formas de abajo?



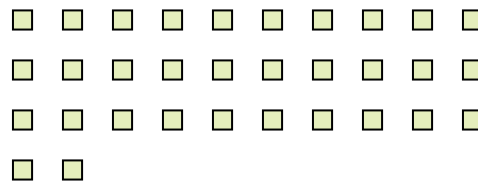
5) ¿Cuántos grupos de 4 se pueden hacer con las 40 formas de abajo?



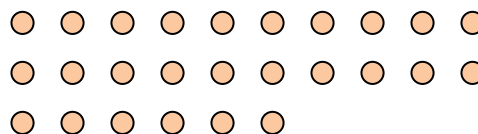
7) ¿Cuántos grupos de 5 se pueden hacer con las 10 formas de abajo?



9) ¿Cuántos grupos de 8 se pueden hacer con las 32 formas de abajo?



11) ¿Cuántos grupos de 2 se pueden hacer con las 26 formas de abajo?



**Respuestas**

Ej. 3

1. 2

2. 5

3. 2

4. 3

5. 10

6. 6

7. 2

8. 3

9. 4

10. 3

11. 13