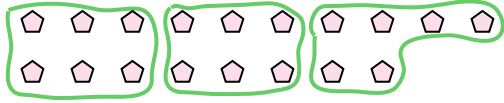




Usa las formas proporcionadas para resolver las preguntas.

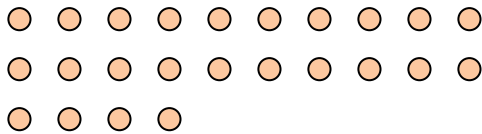
Ej) ¿Cuántos grupos de 6 se pueden hacer con las 18 formas de abajo?




2) ¿Cuántos grupos de 3 se pueden hacer con las 6 formas de abajo?



4) ¿Cuántos grupos de 8 se pueden hacer con las 24 formas de abajo?



6) ¿Cuántos grupos de 4 se pueden hacer con las 16 formas de abajo?



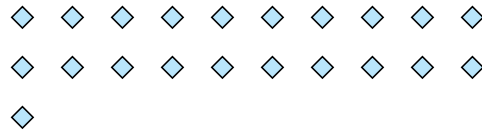
8) ¿Cuántos grupos de 3 se pueden hacer con las 15 formas de abajo?




10) ¿Cuántos grupos de 4 se pueden hacer con las 8 formas de abajo?



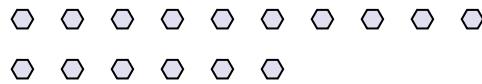
1) ¿Cuántos grupos de 7 se pueden hacer con las 21 formas de abajo?




3) ¿Cuántos grupos de 6 se pueden hacer con las 18 formas de abajo?



5) ¿Cuántos grupos de 8 se pueden hacer con las 16 formas de abajo?



7) ¿Cuántos grupos de 7 se pueden hacer con las 35 formas de abajo?



9) ¿Cuántos grupos de 2 se pueden hacer con las 18 formas de abajo?



11) ¿Cuántos grupos de 7 se pueden hacer con las 14 formas de abajo?



Respuestas

Ej. 3

1. 3

2. 2

3. 3

4. 3

5. 2

6. 4

7. 5

8. 5

9. 9

10. 2

11. 2