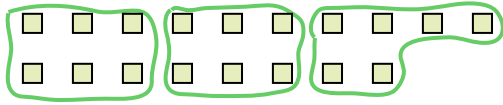





Usa las formas proporcionadas para resolver las preguntas.

**Respuestas**

Ej) ¿Cuántos grupos de 6 se pueden hacer con las 18 formas de abajo?




1) ¿Cuántos grupos de 3 se pueden hacer con las 30 formas de abajo?




Ej. 3

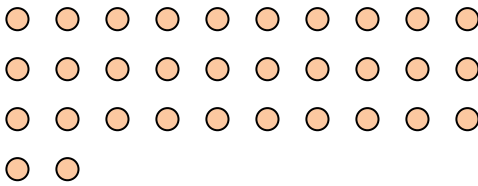
2) ¿Cuántos grupos de 4 se pueden hacer con las 28 formas de abajo?



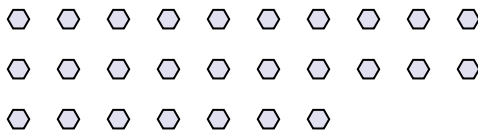
3) ¿Cuántos grupos de 2 se pueden hacer con las 40 formas de abajo?



4) ¿Cuántos grupos de 4 se pueden hacer con las 32 formas de abajo?



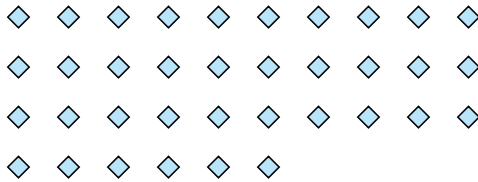
5) ¿Cuántos grupos de 9 se pueden hacer con las 27 formas de abajo?




6) ¿Cuántos grupos de 6 se pueden hacer con las 36 formas de abajo?



7) ¿Cuántos grupos de 3 se pueden hacer con las 36 formas de abajo?



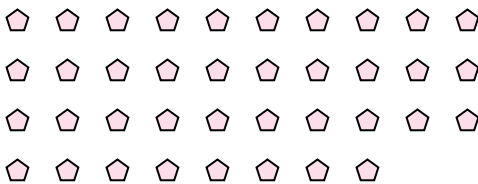
8) ¿Cuántos grupos de 6 se pueden hacer con las 36 formas de abajo?



9) ¿Cuántos grupos de 4 se pueden hacer con las 36 formas de abajo?



10) ¿Cuántos grupos de 2 se pueden hacer con las 38 formas de abajo?



11) ¿Cuántos grupos de 7 se pueden hacer con las 14 formas de abajo?



- 1. \_\_\_\_\_
- 2. \_\_\_\_\_
- 3. \_\_\_\_\_
- 4. \_\_\_\_\_
- 5. \_\_\_\_\_
- 6. \_\_\_\_\_
- 7. \_\_\_\_\_
- 8. \_\_\_\_\_
- 9. \_\_\_\_\_
- 10. \_\_\_\_\_
- 11. \_\_\_\_\_

