





Usa las formas proporcionadas para resolver las preguntas.


Ej) ¿Cuántos grupos de 6 se pueden hacer con las 18 formas de abajo?



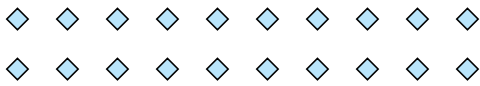
2) ¿Cuántos grupos de 7 se pueden hacer con las 21 formas de abajo?




4) ¿Cuántos grupos de 3 se pueden hacer con las 24 formas de abajo?



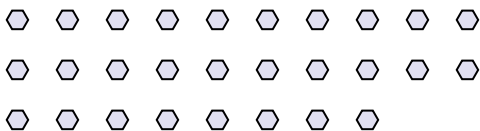
6) ¿Cuántos grupos de 5 se pueden hacer con las 20 formas de abajo?



8) ¿Cuántos grupos de 9 se pueden hacer con las 36 formas de abajo?



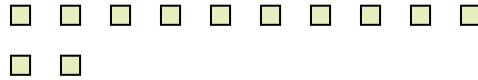
10) ¿Cuántos grupos de 2 se pueden hacer con las 28 formas de abajo?



1) ¿Cuántos grupos de 5 se pueden hacer con las 40 formas de abajo?



3) ¿Cuántos grupos de 6 se pueden hacer con las 12 formas de abajo?



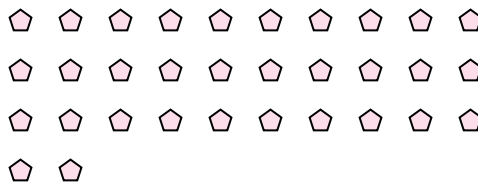
5) ¿Cuántos grupos de 2 se pueden hacer con las 4 formas de abajo?



7) ¿Cuántos grupos de 9 se pueden hacer con las 18 formas de abajo?



9) ¿Cuántos grupos de 2 se pueden hacer con las 32 formas de abajo?



11) ¿Cuántos grupos de 8 se pueden hacer con las 24 formas de abajo?



Respuestas

Ej. 3

1. 8

2. 3

3. 2

4. 8

5. 2

6. 4

7. 2

8. 4

9. 16

10. 14

11. 3