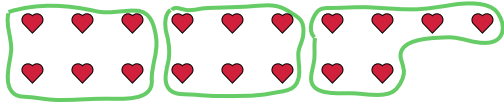




Usa las formas proporcionadas para resolver las preguntas.

**Respuestas**

Ej) ¿Cuántos grupos de 6 se pueden hacer con las 18 formas de abajo?

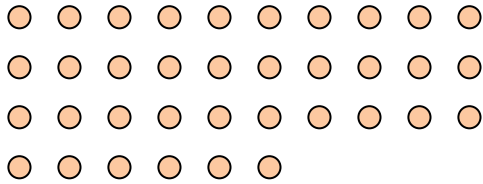


1) ¿Cuántos grupos de 2 se pueden hacer con las 26 formas de abajo?




Ej. 3

2) ¿Cuántos grupos de 9 se pueden hacer con las 36 formas de abajo?



3) ¿Cuántos grupos de 3 se pueden hacer con las 24 formas de abajo?



1. \_\_\_\_\_

2. \_\_\_\_\_

3. \_\_\_\_\_

4. \_\_\_\_\_

5. \_\_\_\_\_

6. \_\_\_\_\_

7. \_\_\_\_\_


8. \_\_\_\_\_

9. \_\_\_\_\_

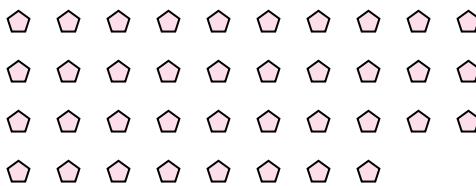
10. \_\_\_\_\_

11. \_\_\_\_\_

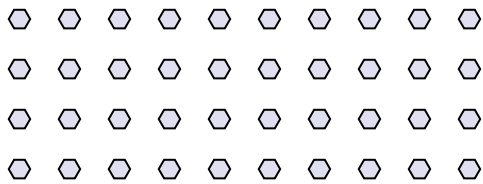
4) ¿Cuántos grupos de 7 se pueden hacer con las 35 formas de abajo?




5) ¿Cuántos grupos de 2 se pueden hacer con las 38 formas de abajo?



6) ¿Cuántos grupos de 8 se pueden hacer con las 40 formas de abajo?



7) ¿Cuántos grupos de 9 se pueden hacer con las 36 formas de abajo?



8) ¿Cuántos grupos de 4 se pueden hacer con las 40 formas de abajo?



9) ¿Cuántos grupos de 7 se pueden hacer con las 35 formas de abajo?



10) ¿Cuántos grupos de 5 se pueden hacer con las 10 formas de abajo?



11) ¿Cuántos grupos de 9 se pueden hacer con las 27 formas de abajo?

