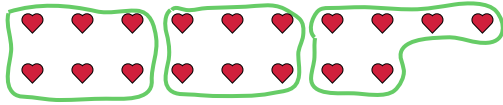




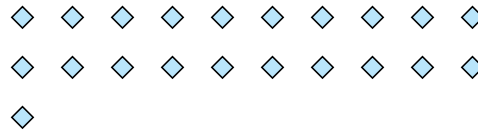
Usa las formas proporcionadas para resolver las preguntas.

Respuestas

Ej) ¿Cuántos grupos de 6 se pueden hacer con las 18 formas de abajo?

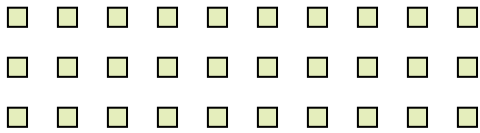


1) ¿Cuántos grupos de 7 se pueden hacer con las 21 formas de abajo?



Ej. 3

2) ¿Cuántos grupos de 6 se pueden hacer con las 30 formas de abajo?




3) ¿Cuántos grupos de 4 se pueden hacer con las 28 formas de abajo?



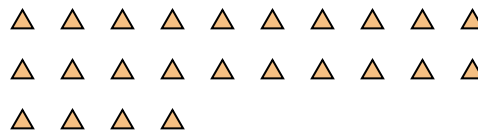
1. _____

2. _____

4) ¿Cuántos grupos de 9 se pueden hacer con las 27 formas de abajo?



5) ¿Cuántos grupos de 6 se pueden hacer con las 24 formas de abajo?



3. _____

4. _____

5. _____

6. _____

7. _____

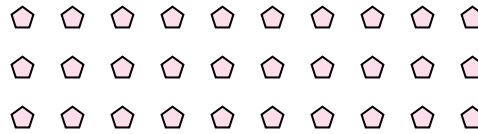
8. _____

9. _____

6) ¿Cuántos grupos de 3 se pueden hacer con las 30 formas de abajo?



7) ¿Cuántos grupos de 5 se pueden hacer con las 30 formas de abajo?



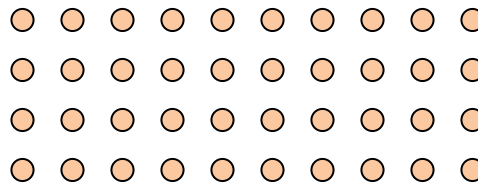
10. _____

11. _____

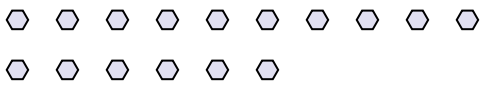
8) ¿Cuántos grupos de 7 se pueden hacer con las 14 formas de abajo?



9) ¿Cuántos grupos de 5 se pueden hacer con las 40 formas de abajo?



10) ¿Cuántos grupos de 2 se pueden hacer con las 16 formas de abajo?



11) ¿Cuántos grupos de 5 se pueden hacer con las 30 formas de abajo?

