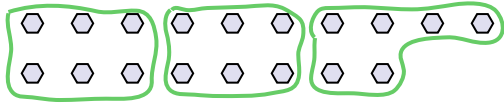




Usa las formas proporcionadas para resolver las preguntas.

Respuestas

Ej) ¿Cuántos grupos de 6 se pueden hacer con las 18 formas de abajo?

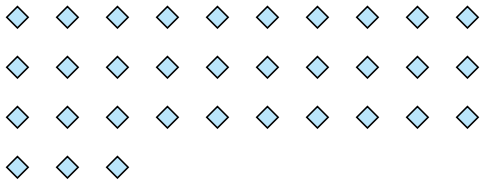


1) ¿Cuántos grupos de 3 se pueden hacer con las 27 formas de abajo?

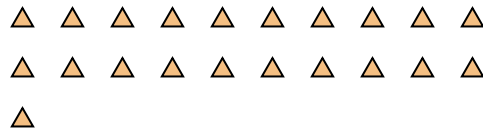


Ej. 3


2) ¿Cuántos grupos de 3 se pueden hacer con las 33 formas de abajo?



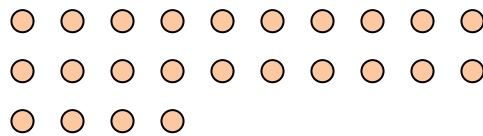
3) ¿Cuántos grupos de 7 se pueden hacer con las 21 formas de abajo?




4) ¿Cuántos grupos de 7 se pueden hacer con las 14 formas de abajo?




5) ¿Cuántos grupos de 8 se pueden hacer con las 24 formas de abajo?




6) ¿Cuántos grupos de 4 se pueden hacer con las 40 formas de abajo?



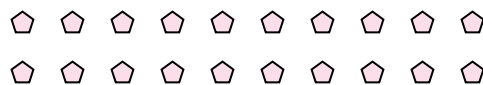
7) ¿Cuántos grupos de 8 se pueden hacer con las 32 formas de abajo?



8) ¿Cuántos grupos de 7 se pueden hacer con las 28 formas de abajo?



9) ¿Cuántos grupos de 5 se pueden hacer con las 20 formas de abajo?



10) ¿Cuántos grupos de 4 se pueden hacer con las 12 formas de abajo?



11) ¿Cuántos grupos de 7 se pueden hacer con las 21 formas de abajo?

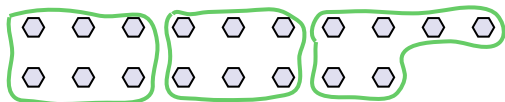


- 1. _____
- 2. _____
- 3. _____
- 4. _____
- 5. _____
- 6. _____
- 7. _____
- 8. _____
- 9. _____
- 10. _____
- 11. _____




Usa las formas proporcionadas para resolver las preguntas.


Ej) ¿Cuántos grupos de 6 se pueden hacer con las 18 formas de abajo?




2) ¿Cuántos grupos de 3 se pueden hacer con las 33 formas de abajo?



4) ¿Cuántos grupos de 7 se pueden hacer con las 14 formas de abajo?



6) ¿Cuántos grupos de 4 se pueden hacer con las 40 formas de abajo?



8) ¿Cuántos grupos de 7 se pueden hacer con las 28 formas de abajo?




10) ¿Cuántos grupos de 4 se pueden hacer con las 12 formas de abajo?



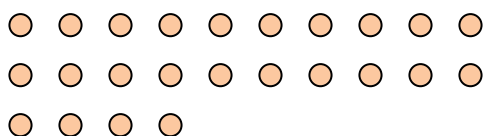
1) ¿Cuántos grupos de 3 se pueden hacer con las 27 formas de abajo?




3) ¿Cuántos grupos de 7 se pueden hacer con las 21 formas de abajo?



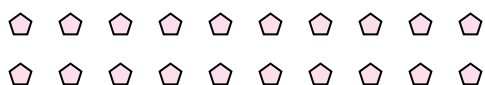
5) ¿Cuántos grupos de 8 se pueden hacer con las 24 formas de abajo?



7) ¿Cuántos grupos de 8 se pueden hacer con las 32 formas de abajo?



9) ¿Cuántos grupos de 5 se pueden hacer con las 20 formas de abajo?



11) ¿Cuántos grupos de 7 se pueden hacer con las 21 formas de abajo?



Respuestas

Ej. 3

1. 9

2. 11

3. 3

4. 2

5. 3

6. 10

7. 4

8. 4

9. 4

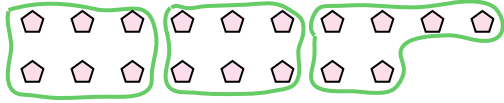
10. 3

11. 3



Usa las formas proporcionadas para resolver las preguntas.

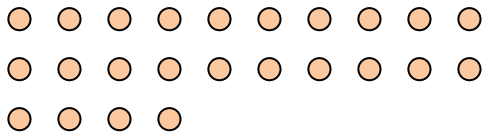
Ej) ¿Cuántos grupos de 6 se pueden hacer con las 18 formas de abajo?




2) ¿Cuántos grupos de 3 se pueden hacer con las 6 formas de abajo?



4) ¿Cuántos grupos de 8 se pueden hacer con las 24 formas de abajo?



6) ¿Cuántos grupos de 4 se pueden hacer con las 16 formas de abajo?



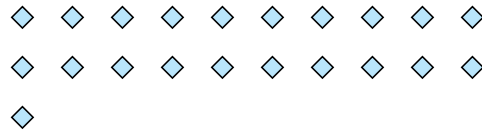
8) ¿Cuántos grupos de 3 se pueden hacer con las 15 formas de abajo?




10) ¿Cuántos grupos de 4 se pueden hacer con las 8 formas de abajo?



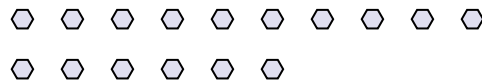
1) ¿Cuántos grupos de 7 se pueden hacer con las 21 formas de abajo?




3) ¿Cuántos grupos de 6 se pueden hacer con las 18 formas de abajo?



5) ¿Cuántos grupos de 8 se pueden hacer con las 16 formas de abajo?



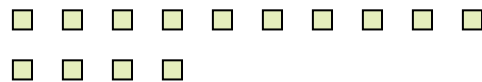
7) ¿Cuántos grupos de 7 se pueden hacer con las 35 formas de abajo?



9) ¿Cuántos grupos de 2 se pueden hacer con las 18 formas de abajo?



11) ¿Cuántos grupos de 7 se pueden hacer con las 14 formas de abajo?



Respuestas

Ej. 3

1. 3

2. 2

3. 3

4. 3

5. 2

6. 4

7. 5

8. 5

9. 9

10. 2

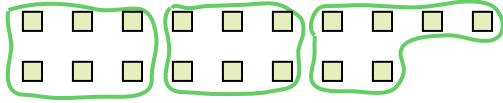
11. 2




Usa las formas proporcionadas para resolver las preguntas.

Respuestas

Ej) ¿Cuántos grupos de 6 se pueden hacer con las 18 formas de abajo?




1) ¿Cuántos grupos de 3 se pueden hacer con las 30 formas de abajo?




Ej. 3

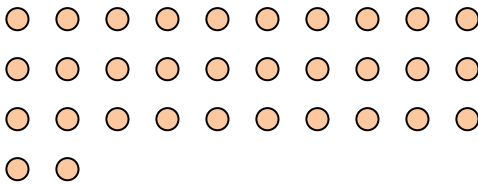
2) ¿Cuántos grupos de 4 se pueden hacer con las 28 formas de abajo?



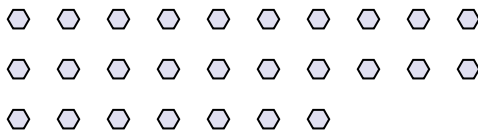
3) ¿Cuántos grupos de 2 se pueden hacer con las 40 formas de abajo?



4) ¿Cuántos grupos de 4 se pueden hacer con las 32 formas de abajo?




5) ¿Cuántos grupos de 9 se pueden hacer con las 27 formas de abajo?




6) ¿Cuántos grupos de 6 se pueden hacer con las 36 formas de abajo?



7) ¿Cuántos grupos de 3 se pueden hacer con las 36 formas de abajo?



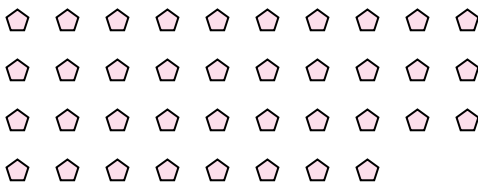
8) ¿Cuántos grupos de 6 se pueden hacer con las 36 formas de abajo?



9) ¿Cuántos grupos de 4 se pueden hacer con las 36 formas de abajo?



10) ¿Cuántos grupos de 2 se pueden hacer con las 38 formas de abajo?



11) ¿Cuántos grupos de 7 se pueden hacer con las 14 formas de abajo?




- 1. _____
- 2. _____
- 3. _____
- 4. _____
- 5. _____
- 6. _____
- 7. _____
- 8. _____
- 9. _____
- 10. _____
- 11. _____



Usa las formas proporcionadas para resolver las preguntas.

Respuestas

Ej) ¿Cuántos grupos de 6 se pueden hacer con las 18 formas de abajo?

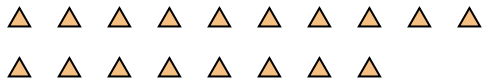


1) ¿Cuántos grupos de 3 se pueden hacer con las 9 formas de abajo?

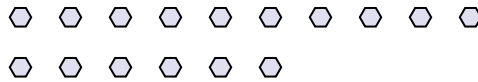


Ej. 3

2) ¿Cuántos grupos de 6 se pueden hacer con las 18 formas de abajo?



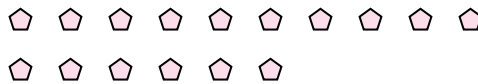
3) ¿Cuántos grupos de 8 se pueden hacer con las 16 formas de abajo?



4) ¿Cuántos grupos de 4 se pueden hacer con las 8 formas de abajo?



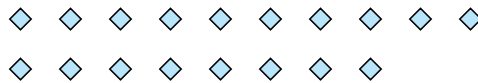
5) ¿Cuántos grupos de 8 se pueden hacer con las 16 formas de abajo?




6) ¿Cuántos grupos de 2 se pueden hacer con las 24 formas de abajo?



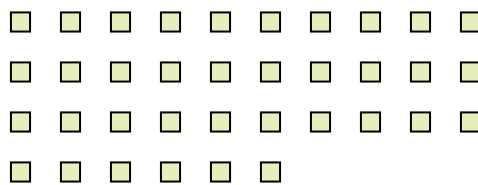
7) ¿Cuántos grupos de 2 se pueden hacer con las 18 formas de abajo?



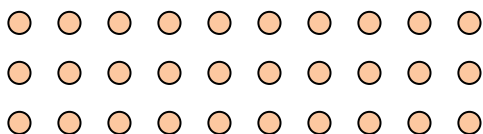
8) ¿Cuántos grupos de 9 se pueden hacer con las 27 formas de abajo?



9) ¿Cuántos grupos de 9 se pueden hacer con las 36 formas de abajo?



10) ¿Cuántos grupos de 6 se pueden hacer con las 30 formas de abajo?



11) ¿Cuántos grupos de 3 se pueden hacer con las 39 formas de abajo?




- 1. _____
- 2. _____
- 3. _____
- 4. _____
- 5. _____
- 6. _____
- 7. _____
- 8. _____
- 9. _____
- 10. _____
- 11. _____



Usa las formas proporcionadas para resolver las preguntas.

Respuestas

Ej) ¿Cuántos grupos de 6 se pueden hacer con las 18 formas de abajo?




1) ¿Cuántos grupos de 5 se pueden hacer con las 40 formas de abajo?

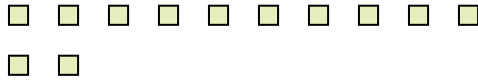


Ej. 3

2) ¿Cuántos grupos de 7 se pueden hacer con las 21 formas de abajo?



3) ¿Cuántos grupos de 6 se pueden hacer con las 12 formas de abajo?



1. _____


2. _____

3. _____

4. _____

5. _____

4) ¿Cuántos grupos de 3 se pueden hacer con las 24 formas de abajo?



5) ¿Cuántos grupos de 2 se pueden hacer con las 4 formas de abajo?



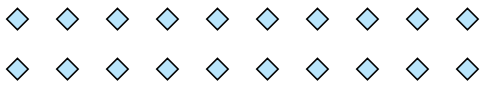
6. _____

7. _____

8. _____

9. _____

6) ¿Cuántos grupos de 5 se pueden hacer con las 20 formas de abajo?




7) ¿Cuántos grupos de 9 se pueden hacer con las 18 formas de abajo?



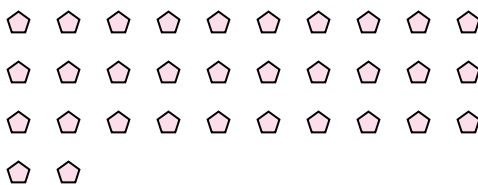
10. _____

11. _____

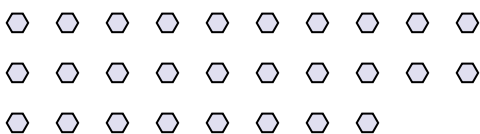
8) ¿Cuántos grupos de 9 se pueden hacer con las 36 formas de abajo?



9) ¿Cuántos grupos de 2 se pueden hacer con las 32 formas de abajo?



10) ¿Cuántos grupos de 2 se pueden hacer con las 28 formas de abajo?




11) ¿Cuántos grupos de 8 se pueden hacer con las 24 formas de abajo?






Usa las formas proporcionadas para resolver las preguntas.


Ej) ¿Cuántos grupos de 6 se pueden hacer con las 18 formas de abajo?



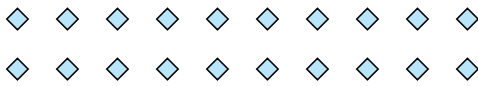
2) ¿Cuántos grupos de 7 se pueden hacer con las 21 formas de abajo?




4) ¿Cuántos grupos de 3 se pueden hacer con las 24 formas de abajo?



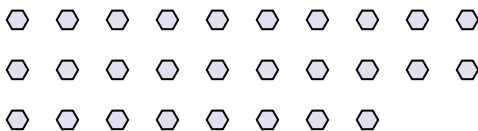
6) ¿Cuántos grupos de 5 se pueden hacer con las 20 formas de abajo?



8) ¿Cuántos grupos de 9 se pueden hacer con las 36 formas de abajo?



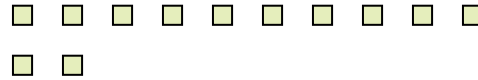
10) ¿Cuántos grupos de 2 se pueden hacer con las 28 formas de abajo?



1) ¿Cuántos grupos de 5 se pueden hacer con las 40 formas de abajo?



3) ¿Cuántos grupos de 6 se pueden hacer con las 12 formas de abajo?



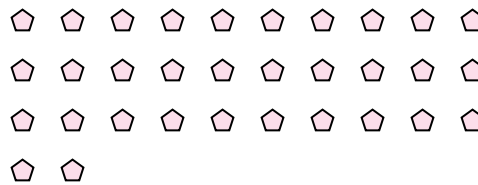
5) ¿Cuántos grupos de 2 se pueden hacer con las 4 formas de abajo?



7) ¿Cuántos grupos de 9 se pueden hacer con las 18 formas de abajo?



9) ¿Cuántos grupos de 2 se pueden hacer con las 32 formas de abajo?



11) ¿Cuántos grupos de 8 se pueden hacer con las 24 formas de abajo?



Respuestas

Ej. 3

1. 8

2. 3

3. 2

4. 8

5. 2

6. 4

7. 2

8. 4

9. 16

10. 14

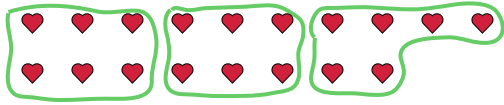
11. 3



Usa las formas proporcionadas para resolver las preguntas.

Respuestas

Ej) ¿Cuántos grupos de 6 se pueden hacer con las 18 formas de abajo?

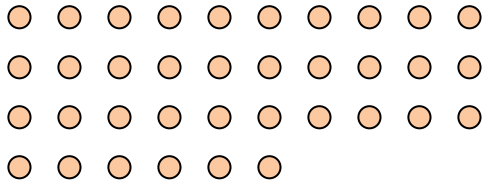


1) ¿Cuántos grupos de 2 se pueden hacer con las 26 formas de abajo?




Ej. 3


2) ¿Cuántos grupos de 9 se pueden hacer con las 36 formas de abajo?



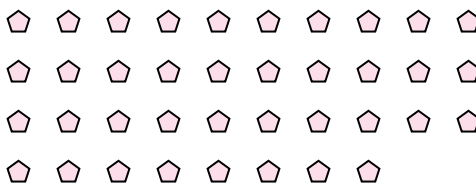
3) ¿Cuántos grupos de 3 se pueden hacer con las 24 formas de abajo?



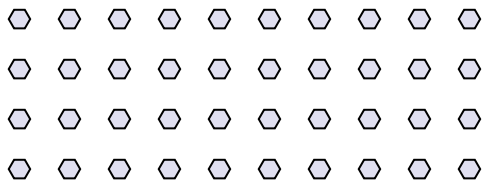
4) ¿Cuántos grupos de 7 se pueden hacer con las 35 formas de abajo?




5) ¿Cuántos grupos de 2 se pueden hacer con las 38 formas de abajo?



6) ¿Cuántos grupos de 8 se pueden hacer con las 40 formas de abajo?



7) ¿Cuántos grupos de 9 se pueden hacer con las 36 formas de abajo?



8) ¿Cuántos grupos de 4 se pueden hacer con las 40 formas de abajo?




9) ¿Cuántos grupos de 7 se pueden hacer con las 35 formas de abajo?



10) ¿Cuántos grupos de 5 se pueden hacer con las 10 formas de abajo?



11) ¿Cuántos grupos de 9 se pueden hacer con las 27 formas de abajo?



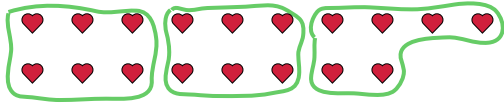
- 1. _____
- 2. _____
- 3. _____
- 4. _____
- 5. _____
- 6. _____
- 7. _____
- 8. _____
- 9. _____
- 10. _____
- 11. _____



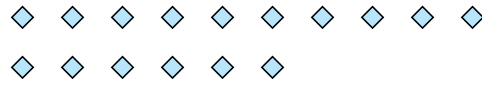
Usa las formas proporcionadas para resolver las preguntas.

Respuestas

Ej) ¿Cuántos grupos de 6 se pueden hacer con las 18 formas de abajo?




1) ¿Cuántos grupos de 8 se pueden hacer con las 16 formas de abajo?



Ej. 3

2) ¿Cuántos grupos de 6 se pueden hacer con las 36 formas de abajo?



3) ¿Cuántos grupos de 5 se pueden hacer con las 25 formas de abajo?



1. _____

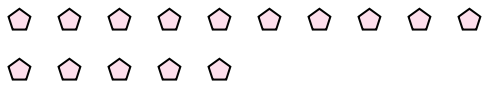
2. _____

3. _____

4. _____

5. _____

4) ¿Cuántos grupos de 5 se pueden hacer con las 15 formas de abajo?



5) ¿Cuántos grupos de 3 se pueden hacer con las 6 formas de abajo?



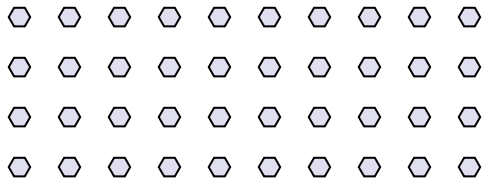
6. _____

7. _____

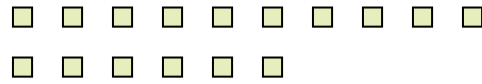
8. _____

9. _____

6) ¿Cuántos grupos de 4 se pueden hacer con las 40 formas de abajo?




7) ¿Cuántos grupos de 2 se pueden hacer con las 16 formas de abajo?



10. _____

11. _____

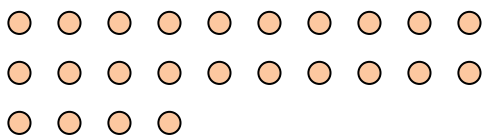
8) ¿Cuántos grupos de 6 se pueden hacer con las 30 formas de abajo?




9) ¿Cuántos grupos de 7 se pueden hacer con las 21 formas de abajo?



10) ¿Cuántos grupos de 8 se pueden hacer con las 24 formas de abajo?



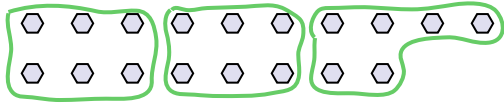
11) ¿Cuántos grupos de 2 se pueden hacer con las 22 formas de abajo?



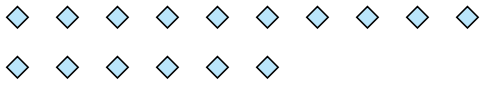


Usa las formas proporcionadas para resolver las preguntas.


Ej) ¿Cuántos grupos de 6 se pueden hacer con las 18 formas de abajo?



2) ¿Cuántos grupos de 4 se pueden hacer con las 16 formas de abajo?



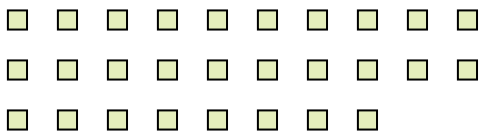
4) ¿Cuántos grupos de 4 se pueden hacer con las 28 formas de abajo?



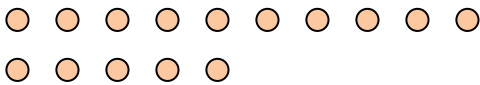
6) ¿Cuántos grupos de 9 se pueden hacer con las 27 formas de abajo?



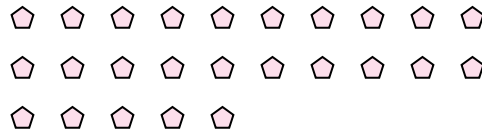
8) ¿Cuántos grupos de 2 se pueden hacer con las 28 formas de abajo?



10) ¿Cuántos grupos de 5 se pueden hacer con las 15 formas de abajo?




1) ¿Cuántos grupos de 5 se pueden hacer con las 25 formas de abajo?



3) ¿Cuántos grupos de 2 se pueden hacer con las 14 formas de abajo?



5) ¿Cuántos grupos de 9 se pueden hacer con las 36 formas de abajo?




7) ¿Cuántos grupos de 6 se pueden hacer con las 30 formas de abajo?



9) ¿Cuántos grupos de 9 se pueden hacer con las 27 formas de abajo?



11) ¿Cuántos grupos de 4 se pueden hacer con las 36 formas de abajo?



Respuestas

Ej. 3

1. 5

2. 4

3. 7

4. 7

5. 4

6. 3

7. 5

8. 14

9. 3

10. 3

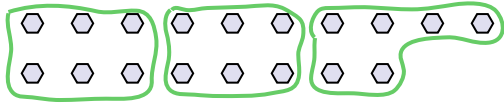
11. 9



Usa las formas proporcionadas para resolver las preguntas.

Respuestas

Ej) ¿Cuántos grupos de 6 se pueden hacer con las 18 formas de abajo?

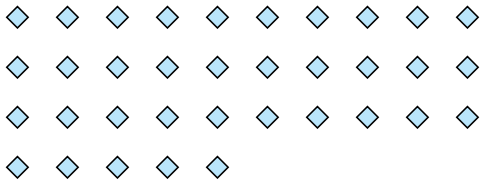


1) ¿Cuántos grupos de 6 se pueden hacer con las 12 formas de abajo?



Ej. 3

2) ¿Cuántos grupos de 7 se pueden hacer con las 35 formas de abajo?




3) ¿Cuántos grupos de 4 se pueden hacer con las 8 formas de abajo?



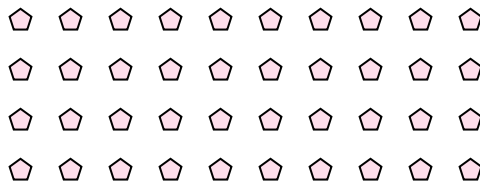
1. _____

2. _____

4) ¿Cuántos grupos de 8 se pueden hacer con las 24 formas de abajo?



5) ¿Cuántos grupos de 4 se pueden hacer con las 40 formas de abajo?



3. _____

4. _____

5. _____


6. _____

7. _____

8. _____

9. _____

6) ¿Cuántos grupos de 6 se pueden hacer con las 36 formas de abajo?




7) ¿Cuántos grupos de 5 se pueden hacer con las 10 formas de abajo?




10. _____

11. _____

8) ¿Cuántos grupos de 9 se pueden hacer con las 27 formas de abajo?



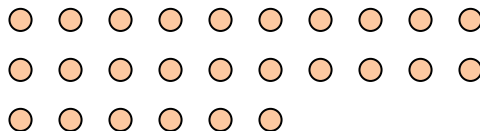
9) ¿Cuántos grupos de 8 se pueden hacer con las 32 formas de abajo?



10) ¿Cuántos grupos de 6 se pueden hacer con las 18 formas de abajo?



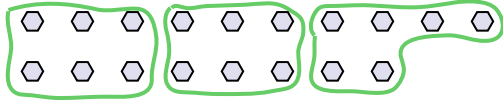
11) ¿Cuántos grupos de 2 se pueden hacer con las 26 formas de abajo?



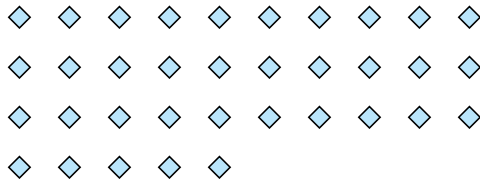


Usa las formas proporcionadas para resolver las preguntas.


Ej) ¿Cuántos grupos de 6 se pueden hacer con las 18 formas de abajo?




2) ¿Cuántos grupos de 7 se pueden hacer con las 35 formas de abajo?




4) ¿Cuántos grupos de 8 se pueden hacer con las 24 formas de abajo?



6) ¿Cuántos grupos de 6 se pueden hacer con las 36 formas de abajo?



8) ¿Cuántos grupos de 9 se pueden hacer con las 27 formas de abajo?



10) ¿Cuántos grupos de 6 se pueden hacer con las 18 formas de abajo?



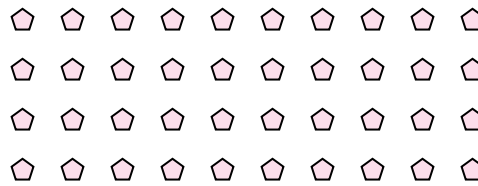
1) ¿Cuántos grupos de 6 se pueden hacer con las 12 formas de abajo?



3) ¿Cuántos grupos de 4 se pueden hacer con las 8 formas de abajo?



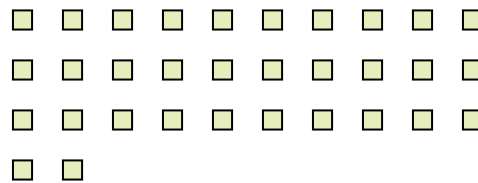
5) ¿Cuántos grupos de 4 se pueden hacer con las 40 formas de abajo?



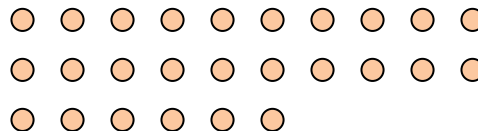
7) ¿Cuántos grupos de 5 se pueden hacer con las 10 formas de abajo?



9) ¿Cuántos grupos de 8 se pueden hacer con las 32 formas de abajo?



11) ¿Cuántos grupos de 2 se pueden hacer con las 26 formas de abajo?



Respuestas

Ej. 3

1. 2

2. 5

3. 2

4. 3

5. 10

6. 6

7. 2

8. 3

9. 4

10. 3

11. 13