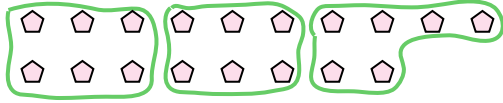




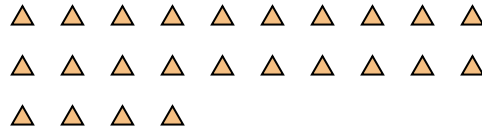
Usa las formas proporcionadas para resolver las preguntas.

Respuestas

Ej) ¿Cuántos grupos de 6 se pueden hacer con las 18 formas de abajo?



1) ¿Cuántos grupos de 8 se pueden hacer con las 24 formas de abajo?




Ej. 3

2) ¿Cuántos grupos de 5 se pueden hacer con las 35 formas de abajo?



3) ¿Cuántos grupos de 4 se pueden hacer con las 24 formas de abajo?



1. _____


2. _____

3. _____


4. _____

5. _____

4) ¿Cuántos grupos de 6 se pueden hacer con las 24 formas de abajo?



5) ¿Cuántos grupos de 8 se pueden hacer con las 40 formas de abajo?




6. _____

7. _____

8. _____

9. _____

6) ¿Cuántos grupos de 8 se pueden hacer con las 40 formas de abajo?



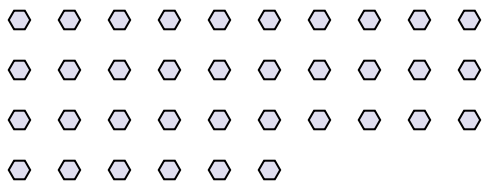
7) ¿Cuántos grupos de 5 se pueden hacer con las 30 formas de abajo?



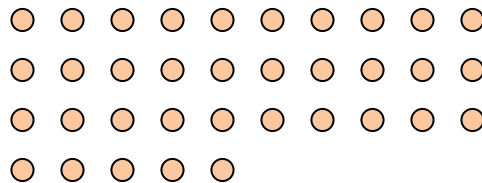
10. _____

11. _____

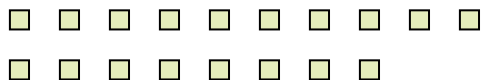
8) ¿Cuántos grupos de 3 se pueden hacer con las 36 formas de abajo?



9) ¿Cuántos grupos de 7 se pueden hacer con las 35 formas de abajo?



10) ¿Cuántos grupos de 9 se pueden hacer con las 18 formas de abajo?



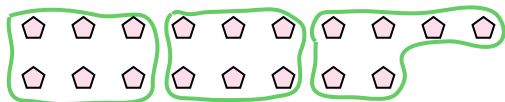
11) ¿Cuántos grupos de 9 se pueden hacer con las 36 formas de abajo?





Usa las formas proporcionadas para resolver las preguntas.


Ej) ¿Cuántos grupos de 6 se pueden hacer con las 18 formas de abajo?




2) ¿Cuántos grupos de 5 se pueden hacer con las 35 formas de abajo?



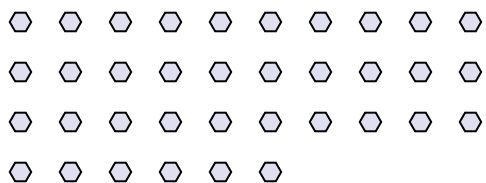
4) ¿Cuántos grupos de 6 se pueden hacer con las 24 formas de abajo?



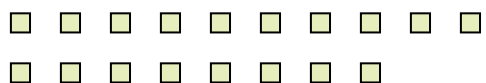
6) ¿Cuántos grupos de 8 se pueden hacer con las 40 formas de abajo?



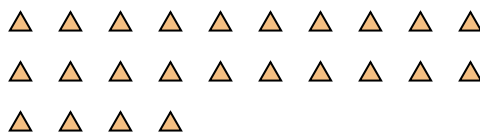
8) ¿Cuántos grupos de 3 se pueden hacer con las 36 formas de abajo?




10) ¿Cuántos grupos de 9 se pueden hacer con las 18 formas de abajo?




1) ¿Cuántos grupos de 8 se pueden hacer con las 24 formas de abajo?



3) ¿Cuántos grupos de 4 se pueden hacer con las 24 formas de abajo?



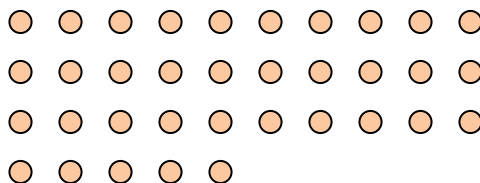
5) ¿Cuántos grupos de 8 se pueden hacer con las 40 formas de abajo?



7) ¿Cuántos grupos de 5 se pueden hacer con las 30 formas de abajo?



9) ¿Cuántos grupos de 7 se pueden hacer con las 35 formas de abajo?



11) ¿Cuántos grupos de 9 se pueden hacer con las 36 formas de abajo?



Respuestas

Ej. 3

1. 3

2. 7

3. 6

4. 4

5. 5

6. 5

7. 6

8. 12

9. 5

10. 2

11. 4