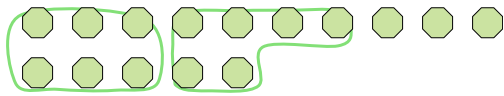




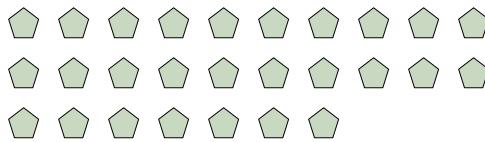
Usa los ejemplos a continuación para resolver las preguntas.

Respuestas

- Ej) Hay 15 figuras abajo. ¿Cuántos grupos de 6 puedes hacer con ellas? ¿Cuántas te sobrarán?



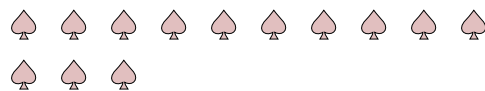
- 1) Hay 27 figuras abajo. ¿Cuántos grupos de 6 puedes hacer con ellas? ¿Cuántas te sobrarán?




- 2) Hay 16 figuras abajo. ¿Cuántos grupos de 9 puedes hacer con ellas? ¿Cuántas te sobrarán?




- 3) Hay 13 figuras abajo. ¿Cuántos grupos de 5 puedes hacer con ellas? ¿Cuántas te sobrarán?




- 4) Hay 24 figuras abajo. ¿Cuántos grupos de 8 puedes hacer con ellas? ¿Cuántas te sobrarán?




- 5) Hay 15 figuras abajo. ¿Cuántos grupos de 6 puedes hacer con ellas? ¿Cuántas te sobrarán?



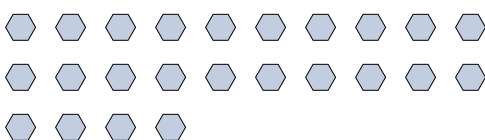
- 6) Hay 18 figuras abajo. ¿Cuántos grupos de 6 puedes hacer con ellas? ¿Cuántas te sobrarán?



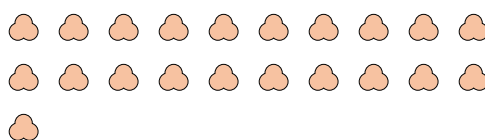
- 7) Hay 19 figuras abajo. ¿Cuántos grupos de 7 puedes hacer con ellas? ¿Cuántas te sobrarán?



- 8) Hay 24 figuras abajo. ¿Cuántos grupos de 2 puedes hacer con ellas? ¿Cuántas te sobrarán?



- 9) Hay 21 figuras abajo. ¿Cuántos grupos de 2 puedes hacer con ellas? ¿Cuántas te sobrarán?

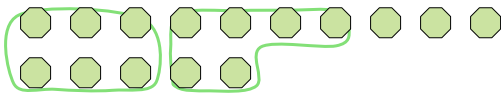


Ej.	<u>2</u>	<u>3</u>
1.	_____	_____
2.	_____	_____
3.	_____	_____
4.	_____	_____
5.	_____	_____
6.	_____	_____
7.	_____	_____
8.	_____	_____
9.	_____	_____

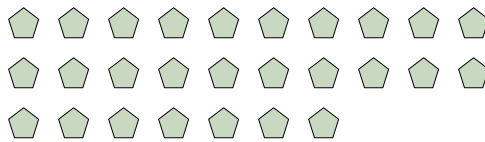


Usa los ejemplos a continuación para resolver las preguntas.

- Ej) Hay 15 figuras abajo. ¿Cuántos grupos de 6 puedes hacer con ellas? ¿Cuántas te sobrarán?



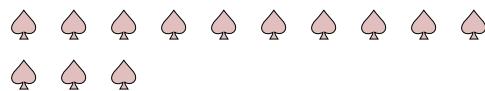
- 1) Hay 27 figuras abajo. ¿Cuántos grupos de 6 puedes hacer con ellas? ¿Cuántas te sobrarán?




- 2) Hay 16 figuras abajo. ¿Cuántos grupos de 9 puedes hacer con ellas? ¿Cuántas te sobrarán?




- 3) Hay 13 figuras abajo. ¿Cuántos grupos de 5 puedes hacer con ellas? ¿Cuántas te sobrarán?




- 4) Hay 24 figuras abajo. ¿Cuántos grupos de 8 puedes hacer con ellas? ¿Cuántas te sobrarán?




- 5) Hay 15 figuras abajo. ¿Cuántos grupos de 6 puedes hacer con ellas? ¿Cuántas te sobrarán?



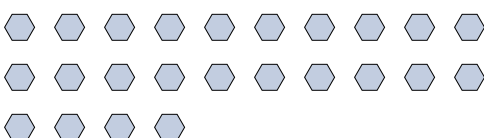
- 6) Hay 18 figuras abajo. ¿Cuántos grupos de 6 puedes hacer con ellas? ¿Cuántas te sobrarán?




- 7) Hay 19 figuras abajo. ¿Cuántos grupos de 7 puedes hacer con ellas? ¿Cuántas te sobrarán?



- 8) Hay 24 figuras abajo. ¿Cuántos grupos de 2 puedes hacer con ellas? ¿Cuántas te sobrarán?



- 9) Hay 21 figuras abajo. ¿Cuántos grupos de 2 puedes hacer con ellas? ¿Cuántas te sobrarán?



Respuestas

Ej.	<u>2</u>	<u>3</u>
1.	<u>4</u>	<u>3</u>
2.	<u>1</u>	<u>7</u>
3.	<u>2</u>	<u>3</u>
4.	<u>3</u>	<u>0</u>
5.	<u>2</u>	<u>3</u>
6.	<u>3</u>	<u>0</u>
7.	<u>2</u>	<u>5</u>
8.	<u>12</u>	<u>0</u>
9.	<u>10</u>	<u>1</u>